

Series JMS/1

SET-1

कोड नं.

Code No.

32/1/1

रोल नं.

Roll No.

--	--	--	--	--	--	--	--

परीक्षार्थी कोड को उत्तर-पुस्तिका के मुख-पृष्ठ पर अवश्य लिखें।

Candidates must write the Code on the title page of the answer-book.

- कृपया जाँच कर लें कि इस प्रश्न-पत्र में मुद्रित पृष्ठ 10+1 मानचित्र हैं।
- प्रश्न-पत्र में दाहिने हाथ की ओर दिए गए कोड नम्बर को छात्र उत्तर-पुस्तिका के मुख-पृष्ठ पर लिखें।
- कृपया जाँच कर लें कि इस प्रश्न-पत्र में 26 प्रश्न हैं।
- कृपया प्रश्न का उत्तर लिखना शुरू करने से पहले, प्रश्न का क्रमांक अवश्य लिखें।
- इस प्रश्न-पत्र को पढ़ने के लिए 15 मिनट का समय दिया गया है। प्रश्न-पत्र का वितरण पूर्वाह्न में 10.15 बजे किया जाएगा। 10.15 बजे से 10.30 बजे तक छात्र केवल प्रश्न-पत्र को पढ़ेंगे और इस अवधि के दौरान वे उत्तर-पुस्तिका पर कोई उत्तर नहीं लिखेंगे।
- Please check that this question paper contains 10 printed pages + 1 map.
- Code number given on the right hand side of the question paper should be written on the title page of the answer-book by the candidate.
- Please check that this question paper contains 26 questions.
- **Please write down the Serial Number of the question before attempting it.**
- 15 minute time has been allotted to read this question paper. The question paper will be distributed at 10.15 a.m. From 10.15 a.m. to 10.30 a.m., the students will read the question paper only and will not write any answer on the answer-book during this period.

सामाजिक विज्ञान  
SOCIAL SCIENCE

निर्धारित समय : 3 घण्टे

Time allowed : 3 hours

अधिकतम अंक : 80

Maximum marks : 80



[P.T.O.]



### सामान्य निर्देश:

- (i) इस प्रश्न-पत्र को चार खण्डों में विभाजित किया गया है; खण्ड क, खण्ड ख, खण्ड ग और खण्ड घ।
- (ii) इस प्रश्न-पत्र में कुल 26 प्रश्न हैं।
- (iii) सभी प्रश्न अनिवार्य हैं।
- (iv) प्रत्येक प्रश्न के अंक उसके सामने दिए गए हैं।
- (v) प्रश्न संख्या 1 से 7 तक अति लघु-उत्तरीय प्रश्न हैं। प्रत्येक प्रश्न 1 अंक का है। इनमें से प्रत्येक प्रश्न का उत्तर 30 शब्दों से अधिक का नहीं होना चाहिए।
- (vi) प्रश्न संख्या 8 से 18 तक प्रत्येक प्रश्न 3 अंक का है। इनमें से प्रत्येक प्रश्न का उत्तर 80 शब्दों से अधिक का नहीं होना चाहिए।
- (vii) प्रश्न संख्या 19 से 25 तक प्रत्येक प्रश्न 5 अंक का है। इनमें से प्रत्येक प्रश्न का उत्तर 100 शब्दों से अधिक का नहीं होना चाहिए।
- (viii) प्रश्न संख्या 26 मानचित्र प्रश्न 5 अंक का है। इसके दो भाग हैं 26(A) और 26(B)। 26(A) 2 अंक का है इतिहास से तथा 26 (B) 3 अंक का भूगोल से है। मानचित्र का प्रश्न पूर्ण होने पर उसे अपनी उत्तर-पुस्तिका के अंदर नत्थी करें।

### General Instructions :

- (i) The question paper is divided into **four** sections. Section A, Section B, Section C and Section D.
- (ii) The question paper has **26** questions in all.
- (iii) All questions are **compulsory**.
- (iv) Marks are indicated against each question.
- (v) Questions from serial number **1** to **7** are very short answer type questions. Each question carries **1** mark. Answers to these should not exceed **30** words.





- (vi) Questions from serial number 8 to 18 are 3 marks questions. Answers of these questions should not exceed 80 words each.
- (vii) Questions from serial number 19 to 25 are 5 marks questions. Answers of these questions should not exceed 100 words each.
- (viii) Question number 26 is a map question of 5 marks with two parts – 26 A from History (2 marks) and 26 B from Geography (3 marks). After completion, attach the map inside your answer-book.

**खण्ड-क**

**SECTION-A**

1. 19वीं शताब्दी के दौरान यूरोप में आर्थिक क्षेत्र में 'उदारवाद' की व्याख्या कीजिए। 1

**अथवा**

मेकोंग डेल्टा क्षेत्र के आर्थिक विकास में फ्रांसीसियों के योगदान की व्याख्या कीजिए।

Interpret the concept of 'liberalisation' in the field of economic sphere during the nineteenth century in Europe.

**OR**

Interpret the contribution of French in the economic development of Mekong delta region.

2. जापान में हाथ से छपाई की तकनीक कैसे प्रारंभ हुई? 1

**अथवा**

क्षेत्रीय भाषाओं में अनुवाद प्रक्रिया ने उपन्यास की लोकप्रियता को बढ़ाने में कैसे सहायता की?

How had hand printing technology introduced in Japan?

**OR**

How had translation process of novels into regional languages helped to spread their popularity?





3. पंजाब में अति सिंचाई भू-निम्नीकरण के लिए कैसे उत्तरदायी है? 1

अथवा

सीमेंट उद्योग भू-निम्नीकरण के लिए कैसे उत्तरदायी है?

How is over irrigation responsible for land degradation in Punjab?

OR

How is cement industry responsible for land degradation?

4. राजनीतिक रूप से सचेत नागरिकों द्वारा लोकतांत्रिक सुधार कैसे किए जा सकते हैं? 1

How can democratic reforms be carried out by political conscious citizens ?

5. भूमिहीन ग्रामीण मजदूरों के लिए उनकी आय के संबंध में विकास का क्या लक्ष्य हो सकता है? 1

अथवा

पंजाब के समृद्ध किसान का विकास का लक्ष्य क्या हो सकता है?

What may be a goal of landless rural labourers regarding their income?

OR

What may be a goal of prosperous farmer of Punjab?

6. 'प्राथमिक' एवं 'द्वितीयक' क्षेत्रों में अंतर स्पष्ट कीजिए। 1

Distinguish between 'primary' and 'secondary' sectors.

7. बैंक अथवा उधारदाता ऋण के बदले सार्थक ऋणाधार की मांग क्यों करते हैं? 1

Why do banks or lenders demand collateral against loans?

खण्ड-ख

SECTION-B

8. नेपोलियन की संहिता को फ्रांसीसी नियंत्रण के अधीन क्षेत्रों में किस प्रकार लागू किया गया? उदाहरणों सहित व्याख्या कीजिए। 3x1=3

अथवा





वियतनाम की आर्थिक प्रगति के लिए जिम्मेदार तीन बाधाओं की उदाहरणों सहित व्याख्या कीजिए।

How had Napoleonic code exported to the regions under French control ? Explain with examples.

**OR**

Explain with examples the three barriers that are responsible to economic growth in Vietnam.

9. चीनी राजतंत्र किस प्रकार लंबे समय तक मुद्रित सामग्री का सबसे बड़ा उत्पादक बना रहा? उदाहरणों सहित व्याख्या कीजिए। 3x1=3

**अथवा**

यूरोप में उन्नीसवीं सदी के दौरान उपन्यास किस प्रकार लोगों के लिए सुलभता से उपलब्ध हो रहे थे? उदाहरणों सहित व्याख्या कीजिए।

How had the Imperial State in China been the major producer of printed material for a long time? Explain with examples.

**OR**

How had novels been easily available to the masses in Europe during nineteenth century? Explain with examples.

10. 'रबी शस्य ऋतु' की किन्हीं तीन प्रमुख विशेषताओं का वर्णन कीजिए। 3x1=3

**अथवा**

'खरीफ शस्य ऋतु' की किन्हीं तीन प्रमुख विशेषताओं का वर्णन कीजिए।

Describe any three main features of 'Rabi crop season.'

**OR**

Describe any three main features of 'Kharif crop season.'

11. "भारत में विशाल और बढ़ती जनसंख्या जल की दुर्लभता का परिणाम हो सकती है।" इस कथन का विश्लेषण कीजिए। 3x1=3

"Water scarcity may be an outcome of large and growing population in India." Analyse the statement.

12. "किसी लोकतांत्रिक देश में सामाजिक विभिन्नताओं पर जोर देना एक सामान्य बात है और स्वस्थ भी हो सकती है।" तर्कों सहित इस कथन की पुष्टि कीजिए। 3

**अथवा**



[P.T.O.]



“सामाजिक विभाजन राजनीति को प्रभावित करते हैं।” इस कथन की परख कीजिए।

“The assertion of social diversities in a democratic country is very normal and can be healthy.” Justify the statement with arguments.

**OR**

“Social divisions affect politics.” Examine the statement.

13. “भारत में आजादी के बाद से महिलाओं की स्थिति में कुछ सुधार हुआ है, परन्तु अभी भी पुरुषों से काफी पीछे हैं।” इस कथन का विश्लेषण कीजिए। 3x1=3

“Women still lag much behind men in India despite some improvements since independence.” Analyse the statement.

14. भारत में राजनीतिक दलों को किस प्रकार क्षेत्रीय एवं राष्ट्रीय दल के रूप में मान्यता मिलती है? उदाहरणों सहित व्याख्या कीजिए। 1½+1½=3

How are political parties recognized as regional and national parties in India? Explain with examples.

15. “पर्यावरण में गिरावट के परिणाम राष्ट्रीय और राज्य सीमाओं का ख्याल नहीं करते”। इस कथन को न्यायसंगत ठहराइए। 3

“Consequences of environmental degradation do not respect national or state boundaries.” Justify the statement.

16. भारत में ‘तृतीयक क्षेत्रक’ महत्वपूर्ण क्यों हो रहा है? किन्हीं तीन कारणों की व्याख्या कीजिए। 3

**अथवा**

किसी देश के सकल घरेलू उत्पाद (जी.डी.पी.) ज्ञात करने के लिए विविध वस्तुओं और सेवाओं की गणना हम कैसे करते हैं? उदाहरण सहित स्पष्ट कीजिए।

Why is the ‘tertiary sector’ becoming important in India? Explain any three reasons.

**OR**

How do we count various goods and services for calculating Gross Domestic Product (G.D.P.) of a country? Explain with example.





17. आर्थिक विकास में ऋण के औपचारिक स्रोतों के महत्व का वर्णन कीजिए। 3x1=3

अथवा

अनौपचारिक ऋण के स्रोतों का कर्जदारों पर पड़ने वाले बुरे प्रभावों का वर्णन कीजिए।

Describe the importance of formal sources of credit in the economic development.

OR

Describe the bad effects of informal sources of credit on borrowers.

18. उपभोक्ता अपने 'क्षतिपूर्ति निवारण' के अधिकार का उपयोग किस प्रकार कर सकते हैं? उदाहरण सहित व्याख्या कीजिए। 3

How can consumers use their 'Right to Seek Redressal'? Explain with example.

खण्ड-ग

SECTION-C

19. 1930 में किसने दलितों को 'दमित वर्ग एसोसिएशन' में संगठित किया? उसकी उपलब्धियों का वर्णन कीजिए। 1+4=5

अथवा

'सविनय अवज्ञा आंदोलन' शब्द को परिभाषित कीजिए। 'सविनय अवज्ञा आंदोलन' में अमीर और गरीब किसान समुदायों की सहभागिता का वर्णन कीजिए।

Who had organized the dalits into the 'Depressed Classes Association' in 1930? Describe his achievements.

OR

Define the term 'Civil Disobedience Movement.' Describe the participation of rich and poor peasant communities in the 'Civil Disobedience Movement.'

20. 'उन्नीसवीं शताब्दी की विश्व अर्थव्यवस्था का रूप तय करने में भारतीय व्यापार ने एक अहम भूमिका अदा की थी।' इस कथन का विश्लेषण कीजिए। 5x1=5

अथवा

'बीसवीं शताब्दी के पहले दशक तक भारत में औद्योगीकरण का स्वरूप कई बदलावों की चपेट में आ चुका था।' इस कथन का विश्लेषण कीजिए।





अथवा

‘आधुनिक काल में औद्योगीकरण ने शहरीकरण के स्वरूप पर गहरा प्रभाव डाला है।’  
लंदन के विशेष संदर्भ में इस कथन का विश्लेषण कीजिए।

“Indian trade had played a crucial role in the late nineteenth century world economy.” Analyze the statement.

OR

“Series of changes affected the pattern of industrialization in India by the early twentieth century.” Analyze the statement.

OR

“Industrialization had changed the form of urbanization in the modern period.” Analyze the statement with special reference of London.

21. भारत में उद्योग पर्यावरण निम्नीकरण के लिए किस प्रकार जिम्मेदार हैं? उदाहरणों सहित स्पष्ट कीजिए। 5x1=5  
How are industries responsible for environmental degradation in India? Explain with examples.
22. “भारत में सड़क परिवहन, रेल परिवहन की अपेक्षा अधिक सुविधाजनक है।” कथन की उदाहरणों सहित पुष्टि कीजिए। 5x1=5  
“Roadways still have an edge over railways in India.” Support the statement with examples.
23. स्थिति, आकार और सांस्कृतिक पहलुओं के आधार पर बेल्जियम और श्रीलंका की स्थिति की तुलना कीजिए। 1+1+3=5

अथवा

साझेदारी का विचार कैसे सामने आया? सामान्य रूप से प्रचलित सत्ता की साझेदारी के विभिन्न स्वरूपों की व्याख्या कीजिए।

Compare the situation of Belgium and Sri Lanka considering their location, size and cultural aspects.

OR

How is the idea of power sharing emerged? Explain different forms that have common arrangements of power sharing.





24. जिम्मेवार और वैध शासन के रूप में लोकतांत्रिक व्यवस्था के महत्व का वर्णन कीजिए। 5x1=5

Describe the importance of democratic government as an accountable and legitimate government.

25. बहुराष्ट्रीय कंपनियाँ उत्पादन के लिए कार्यालय और कारखानों को केवल विशिष्ट क्षेत्रों में ही क्यों स्थापित करती हैं? किन्हीं पाँच कारणों की व्याख्या कीजिए। 5x1=5

Why do multinational corporations (MNCs) set up their offices and factories in certain areas only? Explain any five reasons.

### खण्ड-घ (मानचित्र प्रश्न)

#### SECTION-D (Map Question)

26. (A) दो लक्षण A और B दिए गए भारत के राजनीतिक रेखा-मानचित्र में अंकित किए गए हैं। इन लक्षणों को निम्नलिखित जानकारी की सहायता से पहचानिए और उनके सही नाम मानचित्र पर खींची गई रेखाओं पर लिखिए- 1x2=2

(a) वह स्थान जहाँ भारतीय राष्ट्रीय कांग्रेस का अधिवेशन हुआ।

(b) वह नगर जहाँ जलियाँवाला बाग की घटना हुई।

(B) इसी दिए गए भारत के राजनीतिक रेखा-मानचित्र में निम्नलिखित में से किन्हीं तीन को उपयुक्त चिह्नों से दर्शाइए और उनके नाम लिखिए: 1x3=3

(i) कलपक्कम - आण्विक ऊर्जा संयंत्र

(ii) विजयनगर - लौह और इस्पात संयंत्र

(iii) नोएडा - सॉफ्टवेयर टेक्टनोलॉजी पार्क

(iv) पारादीप - समुद्री पत्तन

(v) सरदार सरोवर - बाँध

नोट : निम्नलिखित प्रश्न केवल दृष्टिबाधित परीक्षार्थियों के लिए प्रश्न संख्या 26 के स्थान पर किन्हीं पाँच का उत्तर दीजिए - 1x5=5

(i) उस राज्य का नाम लिखिए जहाँ जलियाँवाला बाग की घटना हुई।

(ii) उस राज्य का नाम लिखिए जहाँ गाँधीजी ने 'नमक कानून' तोड़ा।

(iii) उस राज्य का नाम लिखिए जहाँ 'चौरी-चौरा' घटना घटित हुई।

(iv) उस राज्य का नाम लिखिए जहाँ पारादीप समुद्री पत्तन स्थित है।





- (v) उस राज्य का नाम लिखिए जहाँ विजयनगर लोहा और इस्पात संयंत्र स्थित है।
- (vi) उस राज्य का नाम लिखिए जहाँ नोएडा सॉफ्टवेयर टेक्नोलॉजी पार्क स्थित है।
- (vii) सरदार सरोवर बाँध किस नदी पर बना है?
- (A) Two features **A** and **B** are marked on the given political outline map of India. Identify these features with the help of the following information and write their correct names on the lines marked near them.
- (a) The place where the Indian National Congress Session was held.
- (b) The city where Jallianwalla Bagh incident took place.
- (B) Locate and label any three of the following with appropriate symbols on the same given outline political map of India.
- (i) Kalpakkam - Nuclear Power Plant
- (ii) Vijayanagar - Iron and Steel Plant
- (iii) Noida - Software Technology Park
- (iv) Paradeep - Sea Port
- (v) Sardar Sarovar - Dam

**Note :** The following questions are for the **Visually Impaired Candidates** only, in lieu of Q. No. 26. Attempt any **five** questions.

- (i) Name the state where Jallianwalla Bagh incident took place.
- (ii) Name the state where Gandhiji violated the Salt Law.
- (iii) Name the state where 'Chauri-Chaura' incident took place.
- (iv) Name the state where Paradeep Sea Port is located.
- (v) Name the state where Vijayanagar Iron and Steel Plant is located.
- (vi) Name the state where Noida Software Technology Park is located.
- (vii) On which river is Sardar Sarovar Dam constructed?

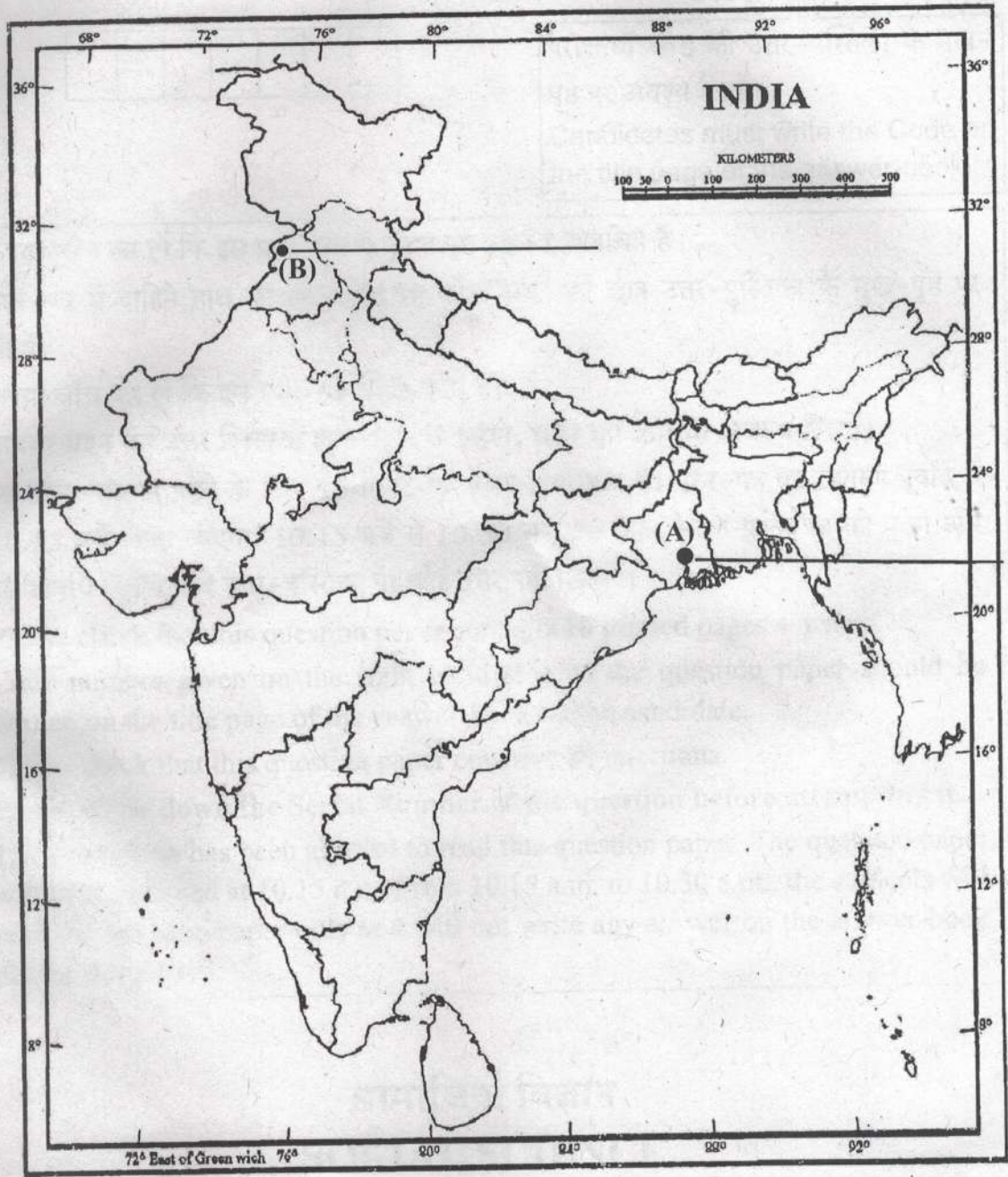




Map for Q. No. 26

नक्शा प्रश्न संख्या 26 के लिए

..... Cut Here यहाँ से काटें ..... Cut Here यहाँ से काटें ..... Cut Here यहाँ से काटें





Series JMS/1

SET-2

कोड नं.

Code No.

32/1/2

रोल नं.

Roll No.

--	--	--	--	--	--	--	--

परीक्षार्थी कोड को उत्तर-पुस्तिका के मुख-पृष्ठ पर अवश्य लिखें।

Candidates must write the Code on the title page of the answer-book.

- कृपया जाँच कर लें कि इस प्रश्न-पत्र में मुद्रित पृष्ठ 10+1 मानचित्र हैं।
- प्रश्न-पत्र में दाहिने हाथ की ओर दिए गए कोड नम्बर को छात्र उत्तर-पुस्तिका के मुख-पृष्ठ पर लिखें।
- कृपया जाँच कर लें कि इस प्रश्न-पत्र में 26 प्रश्न हैं।
- कृपया प्रश्न का उत्तर लिखना शुरू करने से पहले, प्रश्न का क्रमांक अवश्य लिखें।
- इस प्रश्न-पत्र को पढ़ने के लिए 15 मिनट का समय दिया गया है। प्रश्न-पत्र का वितरण पूर्वाह्न में 10.15 बजे किया जाएगा। 10.15 बजे से 10.30 बजे तक छात्र केवल प्रश्न-पत्र को पढ़ेंगे और इस अवधि के दौरान वे उत्तर-पुस्तिका पर कोई उत्तर नहीं लिखेंगे।
- Please check that this question paper contains 10 printed pages + 1 map.
- Code number given on the right hand side of the question paper should be written on the title page of the answer-book by the candidate.
- Please check that this question paper contains 26 questions.
- **Please write down the Serial Number of the question before attempting it.**
- 15 minute time has been allotted to read this question paper. The question paper will be distributed at 10.15 a.m. From 10.15 a.m. to 10.30 a.m., the students will read the question paper only and will not write any answer on the answer-book during this period.

सामाजिक विज्ञान

SOCIAL SCIENCE

निर्धारित समय : 3 घण्टे

Time allowed : 3 hours

अधिकतम अंक : 80

Maximum marks : 80



[P.T.O.]



### सामान्य निर्देश:

- (i) इस प्रश्न-पत्र को चार खण्डों में विभाजित किया गया है; खण्ड क, खण्ड ख, खण्ड ग और खण्ड घ।
- (ii) इस प्रश्न-पत्र में कुल 26 प्रश्न हैं।
- (iii) सभी प्रश्न अनिवार्य हैं।
- (iv) प्रत्येक प्रश्न के अंक उसके सामने दिए गए हैं।
- (v) प्रश्न संख्या 1 से 7 तक अति लघु-उत्तरीय प्रश्न हैं। प्रत्येक प्रश्न 1 अंक का है। इनमें से प्रत्येक प्रश्न का उत्तर 30 शब्दों से अधिक का नहीं होना चाहिए।
- (vi) प्रश्न संख्या 8 से 18 तक प्रत्येक प्रश्न 3 अंक का है। इनमें से प्रत्येक प्रश्न का उत्तर 80 शब्दों से अधिक का नहीं होना चाहिए।
- (vii) प्रश्न संख्या 19 से 25 तक प्रत्येक प्रश्न 5 अंक का है। इनमें से प्रत्येक प्रश्न का उत्तर 100 शब्दों से अधिक का नहीं होना चाहिए।
- (viii) प्रश्न संख्या 26 मानचित्र प्रश्न 5 अंक का है। इसके दो भाग हैं 26(A) और 26(B)। 26(A) 2 अंक का इतिहास से तथा 26 (B) 3 अंक का भूगोल से है। मानचित्र का प्रश्न पूर्ण होने पर उसे अपनी उत्तर-पुस्तिका के अंदर नत्थी करें।

### General Instructions :

- (i) The question paper is divided into **four** sections. Section A, Section B, Section C and Section D.
- (ii) The question paper has 26 questions in all.
- (iii) All questions are **compulsory**.
- (iv) Marks are indicated against each question.
- (v) Questions from serial number 1 to 7 are very short answer type questions. Each question carries 1 mark. Answers to these should not exceed 30 words.





- (vi) Questions from serial number 8 to 18 are 3 marks questions. Answers of these questions should not exceed 80 words each.
- (vii) Questions from serial number 19 to 25 are 5 marks questions. Answers of these questions should not exceed 100 words each.
- (viii) Question number 26 is a map question of 5 marks with two parts—26A from History (2 marks) and 26 B from Geography (3 marks). After completion, attach the maps inside your answer-book.

**खण्ड-क**

**SECTION-A**

1. भूमिहीन ग्रामीण मजदूरों के लिए उनकी आय के संबंध में विकास का क्या लक्ष्य हो सकता है? 1

**अथवा**

पंजाब के समृद्ध किसान का विकास का लक्ष्य क्या हो सकता है?

What may be a goal of landless rural labourers regarding their income?

**OR**

What may be a goal of prosperous farmer of Punjab?

2. पंजाब में अति सिंचाई भू-निम्नीकरण के लिए कैसे उत्तरदायी है? 1

**अथवा**

सीमेंट उद्योग भू-निम्नीकरण के लिए कैसे उत्तरदायी है?

How is over irrigation responsible for land degradation in Punjab?

**OR**

How is cement industry responsible for land degradation?





3. जापान में हाथ से छपाई की तकनीक कैसे प्रारंभ हुई? 1

अथवा

क्षेत्रीय भाषाओं में अनुवाद प्रक्रिया ने उपन्यास की लोकप्रियता को बढ़ाने में कैसे सहायता की?

How had hand printing technology introduced in Japan?

OR

How had translation process of novels into regional languages helped to spread their popularity?

4. आन्दोलनों द्वारा लोकतान्त्रिक सुधार किस प्रकार किए जा सकते हैं? 1

How can democratic reforms be carried out by movements?

5. 19वीं शताब्दी के दौरान यूरोप में आर्थिक क्षेत्र में 'उदारवाद' की व्याख्या कीजिए। 1

अथवा

मेकोंग डेल्टा क्षेत्र के आर्थिक विकास में फ्रांसीसियों के योगदान की व्याख्या कीजिए।

Interpret the concept of 'liberalisation' in the field of economic sphere during the nineteenth century in Europe.

OR

Interpret the contribution of French in the economic development of Mekong delta region.

6. 'द्वितीयक' और 'तृतीयक' क्षेत्रों के बीच अन्तर स्पष्ट कीजिए। 1

Distinguish between 'secondary' and 'tertiary' sectors.

7. 'समर्थक ऋणाधार' का महत्व स्पष्ट कीजिए। 1

Explain the importance of 'collateral.'





खण्ड-ख  
SECTION-B

8. चीनी राजतंत्र किस प्रकार लंबे समय तक मुद्रित सामग्री का सबसे बड़ा उत्पादक बना रहा? उदाहरणों सहित व्याख्या कीजिए। 3x1=3

अथवा

यूरोप में उन्नीसवीं सदी के दौरान उपन्यास किस प्रकार लोगों के लिए सुलभता से उपलब्ध हो रहे थे? उदाहरणों सहित व्याख्या कीजिए।

How had the Imperial State in China been the major producer of printed material for a long time? Explain with examples.

OR

How had novels been easily available to the masses in Europe during nineteenth century? Explain with examples.

9. 'रबी शस्य ऋतु' की किन्हीं तीन प्रमुख विशेषताओं का वर्णन कीजिए। 3x1=3

अथवा

'खरीफ शस्य ऋतु' की किन्हीं तीन प्रमुख विशेषताओं का वर्णन कीजिए।

Describe any three main features of 'Rabi crop season.'

OR

Describe any three main features of 'Kharif crop season.'

10. नेपोलियन की संहिता को फ्रांसीसी नियंत्रण के अधीन क्षेत्रों में किस प्रकार लागू किया गया? उदाहरणों सहित व्याख्या कीजिए। 3x1=3

अथवा

वियतनाम की आर्थिक प्रगति के लिए जिम्मेदार तीन बाधाओं की उदाहरणों सहित व्याख्या कीजिए।

How had Napoleonic code exported to the regions under French control? Explain with examples.

OR

Explain with examples the three barriers that are responsible to economic growth in Vietnam.



11. 'वर्षा-जल संग्रहण' के महत्व का विश्लेषण कीजिए। 3  
Analyse the importance of 'rainwater harvesting.'

12. उपभोक्ता अपने 'क्षतिपूर्ति निवारण' के अधिकार का उपयोग किस प्रकार कर सकते हैं? उदाहरण सहित व्याख्या कीजिए। 3  
How can consumers use their 'Right to Seek Redressal'? Explain with example.

13. आर्थिक विकास में ऋण के औपचारिक स्रोतों के महत्व का वर्णन कीजिए। 3x1=3

**अथवा**

अनौपचारिक ऋण के स्रोतों का कर्जदारों पर पड़ने वाले बुरे प्रभावों का वर्णन कीजिए।  
Describe the importance of formal sources of credit in the economic development.

**OR**

Describe the bad effects of informal sources of credit on borrowers.

14. 'राजनीतिक दल' के तीन हिस्सों (घटकों) की व्याख्या कीजिए। 3x1=3

Explain the three components of 'political party.'

15. भारत में 'तृतीयक क्षेत्रक' महत्वपूर्ण क्यों हो रहा है? किन्हीं तीन कारणों की व्याख्या कीजिए। 3

**अथवा**

किसी देश के सकल घरेलू उत्पाद (जी.डी.पी.) ज्ञात करने के लिए विविध वस्तुओं और सेवाओं की गणना हम कैसे करते हैं? उदाहरण सहित स्पष्ट कीजिए।

Why is the 'tertiary sector' becoming important in India? Explain any three reasons.

**OR**

How do we count various goods and services for calculating Gross Domestic Product (G.D.P.) of a country? Explain with example.





16. “पर्यावरण में गिरावट के परिणाम राष्ट्रीय और राज्य सीमाओं का ख्याल नहीं करते”।  
इस कथन को न्यायसंगत ठहराइए। 3

“Consequences of environmental degradation do not respect national or state boundaries.” Justify the statement.

17. “किसी लोकतांत्रिक देश में सामाजिक विभिन्नताओं पर जोर देना एक सामान्य बात है और स्वस्थ भी हो सकती है।” तर्कों सहित इस कथन की पुष्टि कीजिए। 3

अथवा

“सामाजिक विभाजन राजनीति को प्रभावित करते हैं।” इस कथन की परख कीजिए।

“The assertion of social diversities in a democratic country is very normal and can be healthy.” Justify the statement with arguments.

OR

“Social divisions affect politics.” Examine the statement.

18. “भारत में आजादी के बाद से महिलाओं की स्थिति में कुछ सुधार हुआ है, परन्तु अभी भी पुरुषों से काफी पीछे हैं।” इस कथन का विश्लेषण कीजिए। 3x1=3

“Women still lag much behind men in India despite some improvements since independence.” Analyse the statement.

खण्ड-ग

SECTION-C

19. ‘उन्नीसवीं शताब्दी की विश्व अर्थव्यवस्था का रूप तय करने में भारतीय व्यापार ने एक अहम भूमिका अदा की थी।’ इस कथन का विश्लेषण कीजिए। 5x1=5

अथवा

‘बीसवीं शताब्दी के पहले दशक तक भारत में औद्योगीकरण का स्वरूप कई बदलावों की चपेट में आ चुका था।’ इस कथन का विश्लेषण कीजिए।

अथवा

‘आधुनिक काल में औद्योगीकरण ने शहरीकरण के स्वरूप पर गहरा प्रभाव डाला है।’ लंदन के विशेष संदर्भ में इस कथन का विश्लेषण कीजिए।

“Indian trade had played a crucial role in the late nineteenth century world economy.” Analyze the statement.

OR

“Series of changes affected the pattern of industrialization in India by the early twentieth century.” Analyze the statement.





OR

"Industrialization had changed the form of urbanization in the modern period." Analyze the statement with special reference of London.

20. 1930 में किसने दलितों को 'दमित वर्ग एसोसिएशन' में संगठित किया? उनकी उपलब्धियों का वर्णन कीजिए। 1+4=5

अथवा

'सविनय अवज्ञा आंदोलन' शब्द को परिभाषित कीजिए। 'सविनय अवज्ञा आंदोलन' में अमीर और गरीब किसान समुदायों की सहभागिता का वर्णन कीजिए।

Who had organized the dalits into the 'Depressed Classes Association' in 1930? Describe his achievements.

OR

Define the term 'Civil Disobedience Movement.' Describe the participation of rich and poor peasant communities in the 'Civil Disobedience Movement.'

21. औद्योगिक अवस्थिति के लिए उत्तरदायी किन्हीं पाँच कारकों की उदाहरणों सहित व्याख्या कीजिए। 5x1=5

Explain with examples any five factors that are responsible for industrial location.

22. स्थिति, आकार और सांस्कृतिक पहलुओं के आधार पर बेल्जियम और श्रीलंका की स्थिति की तुलना कीजिए। 1+1+3=5

अथवा

साझेदारी का विचार कैसे सामने आया? सामान्य रूप से प्रचलित सत्ता की साझेदारी के विभिन्न स्वरूपों की व्याख्या कीजिए।

Compare the situation of Belgium and Sri Lanka considering their location, size and cultural aspects.

OR

How is the idea of power sharing emerged? Explain different forms that have common arrangements of power sharing.





23. “भारत में सड़क परिवहन, रेल परिवहन की अपेक्षा अधिक सुविधाजनक है।” कथन की उदाहरणों सहित पुष्टि कीजिए। 5x1=5  
 “Roadways still have an edge over railways in India.” Support the statement with examples.
24. लोकतंत्र के किन्हीं पाँच परिणामों का वर्णन कीजिए। 5x1=5  
 Describe any five outcomes of democracy.
25. वैश्वीकरण के किन्हीं पाँच प्रभावों को स्पष्ट कीजिए। 5x1=5  
 Explain any five effects of globalization.

**खण्ड-घ (मानचित्र प्रश्न)**

**SECTION-D (Map Question)**

26. (A) दो लक्षण A और B दिए गए भारत के राजनीतिक रेखा-मानचित्र में अंकित किए गए हैं। इन लक्षणों को निम्नलिखित जानकारी की सहायता से पहचानिए और उनके सही नाम मानचित्र पर खींची गई रेखाओं पर लिखिए- 1x2=2
- (a) वह स्थान जहाँ भारतीय राष्ट्रीय कांग्रेस का अधिवेशन हुआ।  
 (b) वह नगर जहाँ जलियाँवाला बाग की घटना हुई।
- (B) इसी दिए गए भारत के राजनीतिक रेखा-मानचित्र में निम्नलिखित में से किन्हीं तीन को उपयुक्त चिह्नों से दर्शाइए और उनके नाम लिखिए: 1x3=3
- (i) कलपक्कम - आण्विक ऊर्जा संयंत्र  
 (ii) विजयनगर - लौह और इस्पात संयंत्र  
 (iii) नोएडा - सॉफ्टवेयर टेक्टनोलॉजी पार्क  
 (iv) पारादीप - समुद्री पत्तन  
 (v) सरदार सरोवर - बाँध

**नोट :** निम्नलिखित प्रश्न केवल दृष्टिबाधित परीक्षार्थियों के लिए प्रश्न संख्या 26 के स्थान पर किन्हीं पाँच का उत्तर दीजिए - 1x5=5

- (i) उस राज्य का नाम लिखिए जहाँ जलियाँवाला बाग की घटना हुई।  
 (ii) उस राज्य का नाम लिखिए जहाँ गाँधीजी ने ‘नमक कानून’ तोड़ा।  
 (iii) उस राज्य का नाम लिखिए जहाँ ‘चौरी-चौरा’ घटना घटित हुई।  
 (iv) उस राज्य का नाम लिखिए जहाँ पारादीप समुद्री पत्तन स्थित है।





- (v) उस राज्य का नाम लिखिए जहाँ विजयनगर लोहा और इस्पात संयंत्र स्थित है।
- (vi) उस राज्य का नाम लिखिए जहाँ नोएडा सॉफ्टवेयर टेक्नोलॉजी पार्क स्थित है।
- (vii) सरदार सरोवर बाँध किस नदी पर बना है?
- (A) Two features **A** and **B** are marked on the given political outline map of India. Identify these features with the help of the following information and write their correct names on the lines marked near them.
- (a) The place where the Indian National Congress Session was held.
- (b) The city where Jallianwalla Bagh incident took place.
- (B) Locate and label any three of the following with appropriate symbols on the same given outline political map of India.
- (i) Kalpakkam - Nuclear Power Plant
- (ii) Vijayanagar - Iron and Steel Plant
- (iii) Noida - Software Technology Park
- (iv) Paradeep - Sea Port
- (v) Sardar Sarovar - Dam

**Note :** The following questions are for the **Visually Impaired Candidates** only, in lieu of Q. No. 26. Attempt any **five** questions.

- (i) Name the state where Jallianwalla Bagh incident took place.
- (ii) Name the state where Gandhiji violated the Salt Law.
- (iii) Name the state where 'Chauri-Chaura' incident took place.
- (iv) Name the state where Paradeep Sea Port is located.
- (v) Name the state where Vijayanagar Iron and Steel Plant is located.
- (vi) Name the state where Noida Software Technology Park is located.
- (vii) On which river is Sardar Sarovar Dam constructed?

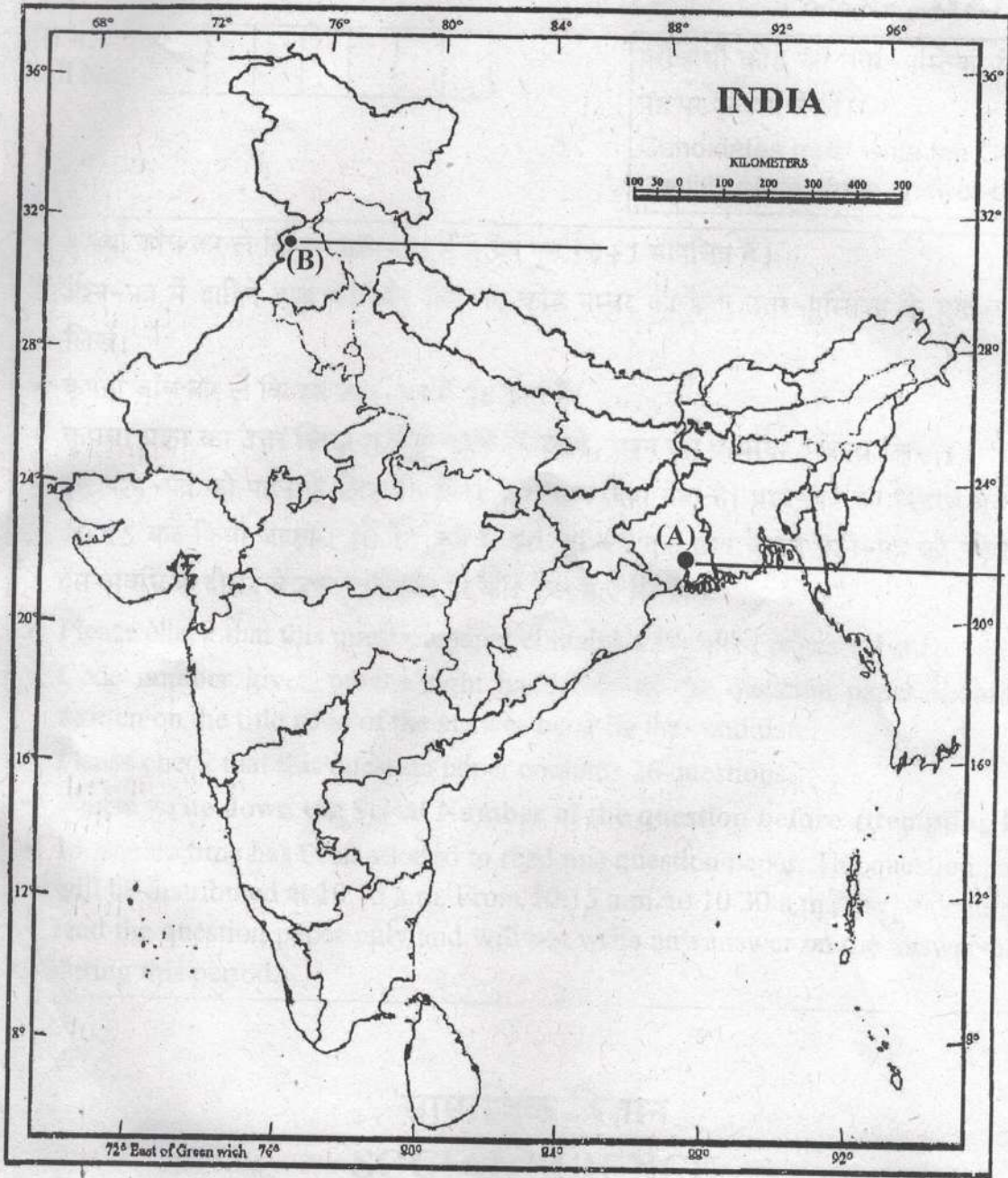




Map for Q. No. 26

नक्शा प्रश्न संख्या 26 के लिए

..... Cut Here यहाँ से काटें ..... ✂ Cut Here यहाँ से काटें ..... ✂ Cut Here यहाँ से काटें ..... ✂ Cut Here यहाँ से काटें





Series JMS/1

SET-3

कोड नं.

Code No.

32/1/3

रोल नं.

Roll No.

--	--	--	--	--	--	--	--

परीक्षार्थी कोड को उत्तर-पुस्तिका के मुख-पृष्ठ पर अवश्य लिखें।

Candidates must write the Code on the title page of the answer-book.

- कृपया जाँच कर लें कि इस प्रश्न-पत्र में मुद्रित पृष्ठ 10+1 मानचित्र हैं।
- प्रश्न-पत्र में दाहिने हाथ की ओर दिए गए कोड नम्बर को छात्र उत्तर-पुस्तिका के मुख-पृष्ठ पर लिखें।
- कृपया जाँच कर लें कि इस प्रश्न-पत्र में 26 प्रश्न हैं।
- कृपया प्रश्न का उत्तर लिखना शुरू करने से पहले, प्रश्न का क्रमांक अवश्य लिखें।
- इस प्रश्न-पत्र को पढ़ने के लिए 15 मिनट का समय दिया गया है। प्रश्न-पत्र का वितरण पूर्वाह्न में 10.15 बजे किया जाएगा। 10.15 बजे से 10.30 बजे तक छात्र केवल प्रश्न-पत्र को पढ़ेंगे और इस अवधि के दौरान वे उत्तर-पुस्तिका पर कोई उत्तर नहीं लिखेंगे।
- Please check that this question paper contains 10 printed pages + 1 map.
- Code number given on the right hand side of the question paper should be written on the title page of the answer-book by the candidate.
- Please check that this question paper contains 26 questions.
- **Please write down the Serial Number of the question before attempting it.**
- 15 minute time has been allotted to read this question paper. The question paper will be distributed at 10.15 a.m. From 10.15 a.m. to 10.30 a.m., the students will read the question paper only and will not write any answer on the answer-book during this period.

सामाजिक विज्ञान  
SOCIAL SCIENCE

निर्धारित समय : 3 घण्टे

Time allowed : 3 hours

अधिकतम अंक : 80

Maximum marks : 80



[P.T.O.]



### सामान्य निर्देश:

- (i) इस प्रश्न-पत्र को चार खण्डों में विभाजित किया गया है; खण्ड क, खण्ड ख, खण्ड ग और खण्ड घ।
- (ii) इस प्रश्न-पत्र में कुल 26 प्रश्न हैं।
- (iii) सभी प्रश्न अनिवार्य हैं।
- (iv) प्रत्येक प्रश्न के अंक उसके सामने दिए गए हैं।
- (v) प्रश्न संख्या 1 से 7 तक अति लघु-उत्तरीय प्रश्न हैं। प्रत्येक प्रश्न 1 अंक का है। इनमें से प्रत्येक प्रश्न का उत्तर 30 शब्दों से अधिक का नहीं होना चाहिए।
- (vi) प्रश्न संख्या 8 से 18 तक प्रत्येक प्रश्न 3 अंक का है। इनमें से प्रत्येक प्रश्न का उत्तर 80 शब्दों से अधिक का नहीं होना चाहिए।
- (vii) प्रश्न संख्या 19 से 25 तक प्रत्येक प्रश्न 5 अंक का है। इनमें से प्रत्येक प्रश्न का उत्तर 100 शब्दों से अधिक का नहीं होना चाहिए।
- (viii) प्रश्न संख्या 26 मानचित्र प्रश्न 5 अंक का है। इसके दो भाग हैं 26(A) और 26(B)। 26(A) 2 अंक का इतिहास से तथा 26 (B) 3 अंक का भूगोल से है। मानचित्र का प्रश्न पूर्ण होने पर उसे अपनी उत्तर-पुस्तिका के अंदर नत्थी करें।

### General Instructions :

- (i) The question paper is divided into **four** sections; Section A, Section B, Section C and Section D.
- (ii) The question paper has 26 questions in all.
- (iii) All questions are **compulsory**.
- (iv) Marks are indicated against each question.
- (v) Questions from serial number 1 to 7 are very short answer type questions. Each question carries 1 mark. Answers to these should not exceed 30 words.
- (vi) Questions from serial number 8 to 18 are 3 marks questions. Answers of these questions should not exceed 80 words each.





(vii) Questions from serial number 19 to 25 are 5 marks questions. Answers of these questions should not exceed 100 words each.

(viii) Question number 26 is a map question of 5 marks with two parts— 26A from History (2 marks) and 26 B from Geography (3 marks). After completion, attach the maps inside your answer-book.

खण्ड-क

SECTION-A

1. जापान में हाथ से छपाई की तकनीक कैसे प्रारंभ हुई? 1

अथवा

क्षेत्रीय भाषाओं में अनुवाद प्रक्रिया ने उपन्यास की लोकप्रियता को बढ़ाने में कैसे सहायता की?

How had hand printing technology introduced in Japan?

OR

How had translation process of novels into regional languages helped to spread their popularity?

2. 19वीं शताब्दी के दौरान यूरोप में आर्थिक क्षेत्र में 'उदारवाद' की व्याख्या कीजिए। 1

अथवा

मेकोंग डेल्टा क्षेत्र के आर्थिक विकास में फ्रांसीसियों के योगदान की व्याख्या कीजिए।

Interpret the concept of 'liberalisation' in the field of economic sphere during the nineteenth century in Europe.

OR

Interpret the contribution of French in the economic development of Mekong delta region.

3. भूमिहीन ग्रामीण मजदूरों के लिए उनकी आय के संबंध में विकास का क्या लक्ष्य हो सकता है? 1

अथवा

पंजाब के समृद्ध किसान का विकास का लक्ष्य क्या हो सकता है?



What may be a goal of landless rural labourers regarding their income?

OR

What may be a goal of prosperous farmer of Punjab?

4. राजनीतिक दलों द्वारा लोकतांत्रिक सुधार किस प्रकार किए जा सकते हैं? 1  
How can democratic reforms be carried out by political parties?
5. पंजाब में अति सिंचाई भू-निम्नीकरण के लिए कैसे उत्तरदायी है? 1

अथवा

सीमेंट उद्योग भू-निम्नीकरण के लिए कैसे उत्तरदायी है?

How is over irrigation responsible for land degradation in Punjab?

OR

How is cement industry responsible for land degradation?

6. 'प्राथमिक' और 'तृतीयक' क्षेत्रों में अन्तर स्पष्ट कीजिए। 1  
Distinguish between 'primary' and 'tertiary' sectors.
7. भारत में औपचारिक क्षेत्रक ऋण का महत्व स्पष्ट कीजिए। 1  
Explain the importance of formal sector loans in India.

खण्ड-ख

SECTION-B

8. 'रबी शस्य ऋतु' की किन्हीं तीन प्रमुख विशेषताओं का वर्णन कीजिए। 3x1=3

अथवा

'खरीफ शस्य ऋतु' की किन्हीं तीन प्रमुख विशेषताओं का वर्णन कीजिए।

Describe any three main features of 'Rabi crop season.'

OR

Describe any three main features of 'Kharif crop season.'

9. नेपोलियन की संहिता को फ्रांसीसी नियंत्रण के अधीन क्षेत्रों में किस प्रकार लागू किया गया? उदाहरणों सहित व्याख्या कीजिए। 3x1=3

अथवा





वियतनाम की आर्थिक प्रगति के लिए जिम्मेदार तीन बाधाओं की उदाहरणों सहित व्याख्या कीजिए।

How had Napoleonic code exported to the regions under French control ? Explain with examples.

**OR**

Explain with examples the three barriers that are responsible to economic growth in Vietnam.

10. चीनी राजतंत्र किस प्रकार लंबे समय तक मुद्रित सामग्री का सबसे बड़ा उत्पादक बना रहा? उदाहरणों सहित व्याख्या कीजिए।

3x1=3

**अथवा**

यूरोप में उन्नीसवीं सदी के दौरान उपन्यास किस प्रकार लोगों के लिए सुलभता से उपलब्ध हो रहे थे? उदाहरणों सहित व्याख्या कीजिए।

How had the Imperial State in China been the major producer of printed material for a long time? Explain with examples.

**OR**

How had novels been easily available to the masses in Europe during nineteenth century? Explain with examples.

11. 'जल दुर्लभता' के प्रभाव का विश्लेषण कीजिए।

3x1=3

Analyse the impact of 'water scarcity.'

12. "पर्यावरण में गिरावट के परिणाम राष्ट्रीय और राज्य सीमाओं का ख्याल नहीं करते"। इस कथन को न्यायसंगत ठहराइए।

3

"Consequences of environmental degradation do not respect national or state boundaries." Justify the statement.

13. भारत में 'तृतीयक क्षेत्रक' महत्वपूर्ण क्यों हो रहा है? किन्हीं तीन कारणों की व्याख्या कीजिए।

3

**अथवा**

किसी देश के सकल घरेलू उत्पाद (जी.डी.पी.) ज्ञात करने के लिए विविध वस्तुओं और सेवाओं की गणना हम कैसे करते हैं? उदाहरण सहित स्पष्ट कीजिए।



Why is the 'tertiary sector' becoming important in India? Explain any three reasons.

OR

How do we count various goods and services for calculating Gross Domestic Product (G.D.P.) of a country? Explain with example.

14. विपक्षी राजनीतिक दलों के किन्हीं तीन कार्यों को स्पष्ट कीजिए। 3x1=3

Explain any three functions of opposition political parties.

15. उपभोक्ता अपने 'क्षतिपूर्ति निवारण' के अधिकार का उपयोग किस प्रकार कर सकते हैं? उदाहरण सहित व्याख्या कीजिए। 3

How can consumers use their 'Right to Seek Redressal'? Explain with example.

16. "किसी लोकतांत्रिक देश में सामाजिक विभिन्नताओं पर जोर देना एक सामान्य बात है और स्वस्थ भी हो सकती है।" तर्कों सहित इस कथन की पुष्टि कीजिए। 3

अथवा

"सामाजिक विभाजन राजनीति को प्रभावित करते हैं।" इस कथन की परख कीजिए।

"The assertion of social diversities in a democratic country is very normal and can be healthy." Justify the statement with arguments.

OR

"Social divisions affect politics." Examine the statement.

17. "भारत में आजादी के बाद से महिलाओं की स्थिति में कुछ सुधार हुआ है, परन्तु अभी भी पुरुषों से काफी पीछे हैं।" इस कथन का विश्लेषण कीजिए। 3x1=3

"Women still lag much behind men in India despite some improvements since independence." Analyse the statement.

18. आर्थिक विकास में ऋण के औपचारिक स्रोतों के महत्व का वर्णन कीजिए। 3x1=3

अथवा

अनौपचारिक ऋण के स्रोतों का कर्जदारों पर पड़ने वाले बुरे प्रभावों का वर्णन कीजिए।





Describe the importance of formal sources of credit in the economic development.

OR

Describe the bad effects of informal sources of credit on borrowers.

खण्ड-ग

SECTION-C

19. "भारत में सड़क परिवहन, रेल परिवहन की अपेक्षा अधिक सुविधाजनक है।" कथन की उदाहरणों सहित पुष्टि कीजिए। 5x1=5

"Roadways still have an edge over railways in India." Support the statement with examples.

20. स्थिति, आकार और सांस्कृतिक पहलुओं के आधार पर बेल्जियम और श्रीलंका की स्थिति की तुलना कीजिए। 1+1+3=5

अथवा

साझेदारी का विचार कैसे सामने आया? सामान्य रूप से प्रचलित सत्ता की साझेदारी के विभिन्न स्वरूपों की व्याख्या कीजिए।

Compare the situation of Belgium and Sri Lanka considering their location, size and cultural aspects.

OR

How is the idea of power sharing emerged? Explain different forms that have common arrangements of power sharing.

21. 'औद्योगिक प्रदूषण' के पाँच प्रकारों की व्याख्या कीजिए। 5x1=5  
Explain five types of 'industrial pollution.'

22. 1930 में किसने दलितों को 'दमित वर्ग एसोसिएशन' में संगठित किया? उनकी उपलब्धियों का वर्णन कीजिए। 1+4=5

अथवा

'सविनय अवज्ञा आंदोलन' शब्द को परिभाषित कीजिए। 'सविनय अवज्ञा आंदोलन' में अमीर और गरीब किसान समुदायों की सहभागिता का वर्णन कीजिए।



Who had organized the dalits into the 'Depressed Classes Association' in 1930? Describe his achievements.

**OR**

Define the term 'Civil Disobedience Movement.' Describe the participation of rich and poor peasant communities in the 'Civil Disobedience Movement.'

23. 'उन्नीसवीं शताब्दी की विश्व अर्थव्यवस्था का रूप तय करने में भारतीय व्यापार ने एक अहम भूमिका अदा की थी।' इस कथन का विश्लेषण कीजिए।

5x1=5

**अथवा**

'बीसवीं शताब्दी के पहले दशक तक भारत में औद्योगीकरण का स्वरूप कई बदलावों की चपेट में आ चुका था।' इस कथन का विश्लेषण कीजिए।

**अथवा**

'आधुनिक काल में औद्योगीकरण ने शहरीकरण के स्वरूप पर गहरा प्रभाव डाला है।' लंदन के विशेष संदर्भ में इस कथन का विश्लेषण कीजिए।

"Indian trade had played a crucial role in the late nineteenth century world economy." Analyze the statement.

**OR**

"Series of changes affected the pattern of industrialization in India by the early twentieth century." Analyze the statement.

**OR**

"Industrialization had changed the form of urbanization in the modern period." Analyze the statement with special reference of London.

24. लोकतांत्रिक शासन व्यवस्था को अन्य विकल्पों से बेहतर बनाने वाले किन्हीं पाँच कारकों का वर्णन कीजिए।

5x1=5

Describe any five factors that make democracy is a better form of government than other alternatives.

25. विदेशी निवेश को आकर्षित करने के लिए केन्द्रीय एवं राज्य सरकारों द्वारा विकसित विशेष आर्थिक क्षेत्रों में उपलब्ध किन्हीं पाँच सुविधाओं को स्पष्ट कीजिए।

5x1=5





Explain any five facilities available in the special economic zones developed by the Central and State Governments to attract foreign investment.

**खण्ड-घ (मानचित्र प्रश्न)**

**SECTION-D (Map Question)**

26. (A) दो लक्षण A और B दिए गए भारत के राजनीतिक रेखा-मानचित्र में अंकित किए गए हैं। इन लक्षणों को निम्नलिखित जानकारी की सहायता से पहचानिए और उनके सही नाम मानचित्र पर खींची गई रेखाओं पर लिखिए- 1x2=2
- (a) वह स्थान जहाँ भारतीय राष्ट्रीय कांग्रेस का अधिवेशन हुआ।  
(b) वह नगर जहाँ जलियाँवाला बाग की घटना हुई।

- (B) इसी दिए गए भारत के राजनीतिक रेखा-मानचित्र में निम्नलिखित में से किन्हीं तीन को उपयुक्त चिह्नों से दर्शाइए और उनके नाम लिखिए: 1x3=3
- (i) कलपक्कम - आण्विक ऊर्जा संयंत्र  
(ii) विजयनगर - लौह और इस्पात संयंत्र  
(iii) नोएडा - सॉफ्टवेयर टेक्नोलॉजी पार्क  
(iv) पारादीप - समुद्री पत्तन  
(v) सरदार सरोवर - बाँध

**नोट :** निम्नलिखित प्रश्न केवल दृष्टिबाधित परीक्षार्थियों के लिए प्रश्न संख्या 26 के स्थान पर किन्हीं पाँच का उत्तर दीजिए - 1x5=5

- (i) उस राज्य का नाम लिखिए जहाँ जलियाँवाला बाग की घटना हुई।  
(ii) उस राज्य का नाम लिखिए जहाँ गाँधीजी ने 'नमक कानून' तोड़ा।  
(iii) उस राज्य का नाम लिखिए जहाँ 'चौरी-चौरा' घटना घटित हुई।  
(iv) उस राज्य का नाम लिखिए जहाँ पारादीप समुद्री पत्तन स्थित है।  
(v) उस राज्य का नाम लिखिए जहाँ विजयनगर लोहा-इस्पात संयंत्र स्थित है।  
(vi) उस राज्य का नाम लिखिए जहाँ नोएडा सॉफ्टवेयर टेक्नोलॉजी पार्क स्थित है।  
(vii) सरदार सरोवर बाँध किस नदी पर बना है?



- (A) Two features **A** and **B** are marked on the given political outline map of India. Identify these features with the help of the following information and write their correct names on the lines marked near them.
- The place where the Indian National Congress Session was held.
  - The city where Jallianwalla Bagh incident took place.
- (B) Locate and label any three of the following with appropriate symbols on the same given outline political map of India.
- Kalpakkam - Nuclear Power Plant
  - Vijayanagar - Iron and Steel Plant
  - Noida - Software Technology Park
  - Paradeep - Sea Port
  - Sardar Sarovar - Dam

**Note :** The following questions are for the **Visually Impaired Candidates** only, in lieu of Q. No. 26. Attempt any **five** questions.

- Name the state where Jallianwalla Bagh incident took place.
- Name the state where Gandhiji violated the Salt Law.
- Name the state where 'Chauri-Chaura' incident took place.
- Name the state where Paradeep Sea Port is located.
- Name the state where Vijayanagar Iron and Steel Plant is located.
- Name the state where Noida Software Technology Park is located.
- On which river is Sardar Sarovar Dam constructed?

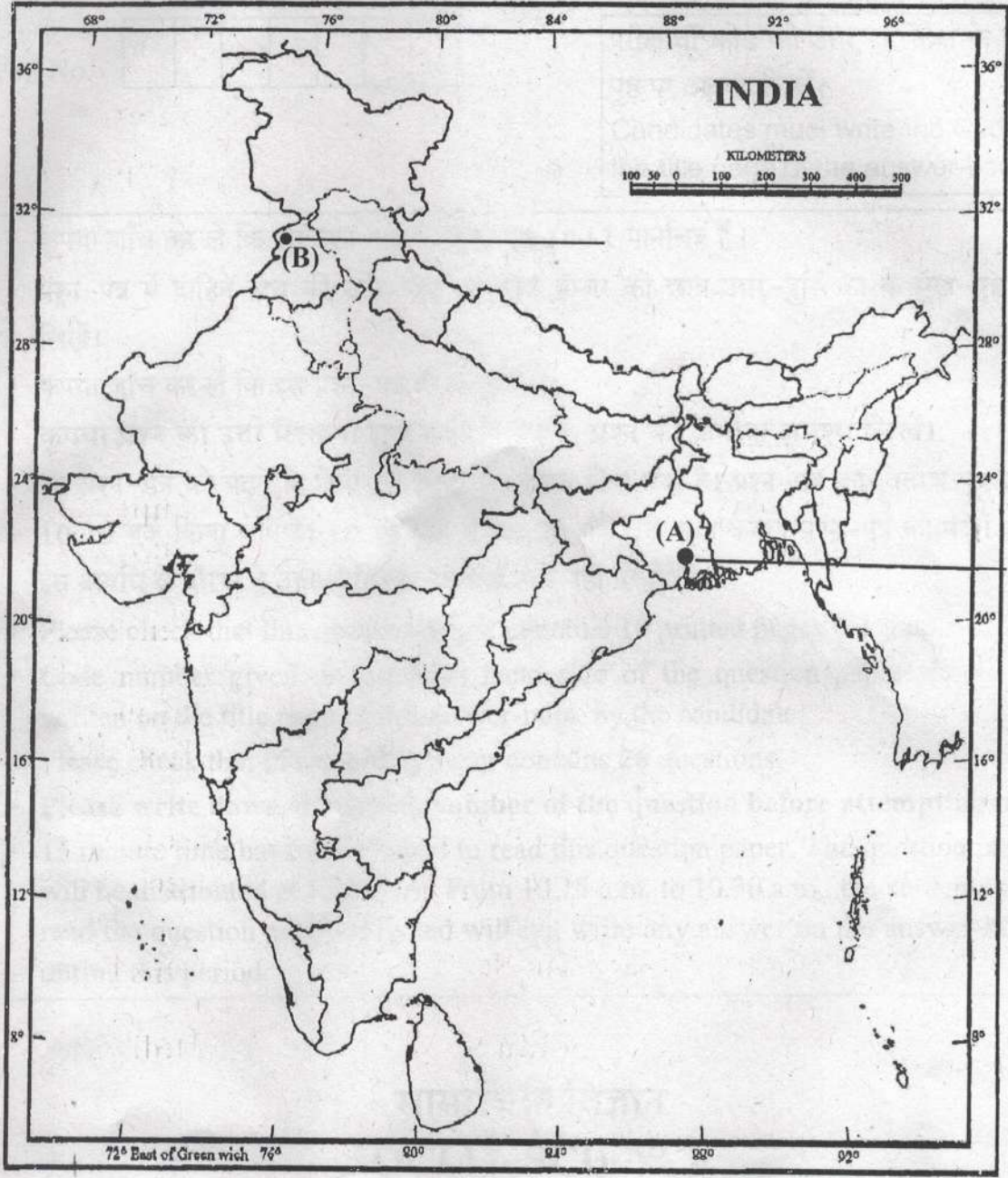




Map for Q. No. 26

नक्शा प्रश्न संख्या 26 के लिए

..... ✂ Cut Here यहाँ से काटें ..... ✂ Cut Here यहाँ से काटें ..... ✂ Cut Here यहाँ से काटें





**SET-1****Series JMS/2**कोड नं. **32/2/1**  
Code No.रोल नं. 

--	--	--	--	--	--	--

  
Roll No.

परीक्षार्थी कोड को उत्तर-पुस्तिका के मुख-पृष्ठ पर अवश्य लिखें ।

Candidates must write the Code on the title page of the answer-book.

- कृपया जाँच कर लें कि इस प्रश्न-पत्र में मुद्रित पृष्ठ **10 + 1** मानचित्र हैं ।
- प्रश्न-पत्र में दाहिने हाथ की ओर दिए गए कोड नम्बर को छात्र उत्तर-पुस्तिका के मुख-पृष्ठ पर लिखें ।
- कृपया जाँच कर लें कि इस प्रश्न-पत्र में **26** प्रश्न हैं ।
- कृपया प्रश्न का उत्तर लिखना शुरू करने से पहले, प्रश्न का क्रमांक अवश्य लिखें ।
- इस प्रश्न-पत्र को पढ़ने के लिए 15 मिनट का समय दिया गया है । प्रश्न-पत्र का वितरण पूर्वाह्न में 10.15 बजे किया जाएगा । 10.15 बजे से 10.30 बजे तक छात्र केवल प्रश्न-पत्र को पढ़ेंगे और इस अवधि के दौरान वे उत्तर-पुस्तिका पर कोई उत्तर नहीं लिखेंगे ।
- Please check that this question paper contains **10** printed pages + **1** Map.
- Code number given on the right hand side of the question paper should be written on the title page of the answer-book by the candidate.
- Please check that this question paper contains **26** questions.
- **Please write down the Serial Number of the question before attempting it.**
- 15 minute time has been allotted to read this question paper. The question paper will be distributed at 10.15 a.m. From 10.15 a.m. to 10.30 a.m., the students will read the question paper only and will not write any answer on the answer-book during this period.

## सामाजिक विज्ञान

### SOCIAL SCIENCE

निर्धारित समय : 3 घण्टे  
Time allowed : 3 hoursअधिकतम अंक : 80  
Maximum Marks : 80





### सामान्य निर्देश :

- (i) इस प्रश्न-पत्र को चार खण्डों में विभाजित किया गया है। खण्ड क, खण्ड ख, खण्ड ग और खण्ड घ।
- (ii) इस प्रश्न-पत्र में कुल 26 प्रश्न हैं।
- (iii) सभी प्रश्न अनिवार्य हैं।
- (iv) प्रत्येक प्रश्न के अंक उसके सामने दिए गए हैं।
- (v) प्रश्न संख्या 1 से 7 तक अति लघु-उत्तरीय प्रश्न हैं। प्रत्येक प्रश्न 1 अंक का है।
- (vi) प्रश्न संख्या 8 से 18 तक प्रत्येक प्रश्न 3 अंक का है। इनमें से प्रत्येक प्रश्न का उत्तर 80 शब्दों से अधिक का नहीं होना चाहिए।
- (vii) प्रश्न संख्या 19 से 25 तक प्रत्येक प्रश्न 5 अंक का है। इनमें से प्रत्येक प्रश्न का उत्तर 100 शब्दों से अधिक का नहीं होना चाहिए।
- (viii) प्रश्न संख्या 26 मानचित्र प्रश्न 5 अंक का है। इसके दो भाग हैं – 26 (A) और 26 (B)। 26 (A) 2 अंक का इतिहास से तथा 26 (B) 3 अंक का भूगोल से है। मानचित्र का प्रश्न पूर्ण होने पर उसे अपनी उत्तर-पुस्तिका के अन्दर नत्थी कीजिए।

### General Instructions :

- (i) The question paper is divided into four sections – Section A, Section B, Section C and Section D.
- (ii) The question paper has 26 questions in all.
- (iii) All questions are **compulsory**.
- (iv) Marks are indicated against each question.
- (v) Questions from serial number 1 to 7 are Very Short Answer Type Questions. Each question carries 1 mark.
- (vi) Questions from serial number 8 to 18 are 3 marks questions. Answers to these questions should not exceed 80 words each.
- (vii) Questions from serial number 19 to 25 are 5 marks questions. Answers to these questions should not exceed 100 words each.
- (viii) Question number 26 is a map question of 5 marks with two parts 26 (A) and 26 (B) – 26 (A) from History (2 marks) and 26 (B) from Geography (3 marks). After completion, attach the map inside your answer-book.





खण्ड क

SECTION A

1. 1834 में जर्मनी में शुल्क संघ 'ज़ॉलवेराइन' स्थापित करने के उद्देश्य की व्याख्या कीजिए । 1

अथवा

1926 में वियतनाम में साइगॉन नेटिव गर्ल्स स्कूल में बड़े आंदोलन के खड़े होने के लिए उत्तरदायी मुख्य कारण की व्याख्या कीजिए । 1

Explain the aim to form 'Zollverein', a Customs Union, in 1834 in Germany.

OR

Explain the main reason responsible for the eruption of a major protest in Saigon Native Girls School in Vietnam in 1926.

2. चीनी राजतंत्र द्वारा किताबों को क्यों मुद्रित करवाया गया ? 1

अथवा

चंदू मेनन ने 'अंग्रेज़ी उपन्यासों' का 'मलयालम' में अनुवाद करने के विचार को क्यों त्याग दिया ? 1

Why was printing of textbooks sponsored by the Imperial State in China ?

OR

Why did Chandu Menon give up the idea of translation of 'English Novels' in Malayalam ?

3. शिलांग ने जल की कमी की गंभीर समस्या को कैसे हल किया ? 1

अथवा

तमिलनाडु ने जल की कमी की गंभीर समस्या को कैसे हल किया ? 1

How has Shillong solved the problem of acute shortage of water ?

OR

How has Tamil Nadu solved the problem of acute shortage of water ?

4. श्रीलंकाई तमिलों में बेगानापन (अलगाव) की भावना कैसे विकसित हुई ? 1

How did the feeling of alienation develop among the Sri Lankan Tamils ?





5. जो किसान फ़सल उगाने के लिए केवल वर्षा पर निर्भर हैं उनके लिए विकास का लक्ष्य क्या हो सकता है ? 1

**अथवा**

शहरी बेरोज़गार युवक के लिए विकास का लक्ष्य क्या हो सकता है ? 1

What may be a developmental goal of farmers who depend only on rain for growing crops ?

**OR**

What may be a developmental goal of urban unemployed youth ?

6. आधुनिक एवं प्राचीन मुद्रा का एक-एक उदाहरण लिखिए । 1

Give one example each of modern currency and older currency.

7. यदि आप एक कीमती विद्युत् उपकरण खरीदना चाहते हैं, तो उसकी गुणवत्ता को सुनिश्चित करने के लिए किस 'शब्द चिह्न (लोगो)' को देखेंगे ? 1

If you want to purchase an electrical valuable good, what logo would you like to see to confirm its quality ?

**खण्ड ख**

**SECTION B**

8. 1930 के दशक में यूरोप में आई भारी आर्थिक कठिनाइयों का वर्णन कीजिए । 3

**अथवा**

1903 में हनोई के आधुनिक भाग में आई गंभीर समस्या का वर्णन कीजिए । 3

Describe the great economic hardship that prevailed in Europe during the 1930s.

**OR**

Describe the serious problem faced by the modern part of Hanoi in 1903.

9. यूरोप में छापेखाने ने किस प्रकार पढ़ने की एक नयी संस्कृति को विकसित किया ? उदाहरणों सहित व्याख्या कीजिए । 3

**अथवा**

चार्ल्स डिकेन्स ने लोगों के जीवन एवं चरित्र पर औद्योगीकरण के दुष्प्रभावों का कैसे वर्णन किया ? उदाहरणों सहित व्याख्या कीजिए । 3





How had the printing press created a new culture of reading in Europe ? Explain with examples.

**OR**

How had Charles Dickens depicted the terrible effects of industrialisation on peoples lives and characters ? Explain with examples.

10. भारत में पाई जाने वाली 'जलोढ़ मृदा' की किन्हीं तीन प्रमुख विशेषताओं का वर्णन कीजिए । 1×3=3

**अथवा**

भारत में पाई जाने वाली 'काली मृदा' की किन्हीं तीन प्रमुख विशेषताओं का वर्णन कीजिए । 1×3=3  
Describe any three main features of 'Alluvial soil' found in India.

**OR**

Describe any three main features of 'Black soil' found in India.

11. "जो बाँध बाढ़ नियंत्रण के लिए बनाए गए थे वे बाढ़ आने का कारण बन जाते हैं ।" इस कथन का विश्लेषण कीजिए । 3

"The dams that were constructed to control floods have triggered floods."  
Analyse the statement.

12. समवर्ती सूची में सम्मिलित किन्हीं दो विषयों के नाम लिखिए । इन विषयों पर कानून कैसे बनाए जाते हैं ? व्याख्या कीजिए । 1+2=3

**अथवा**

भारत में केन्द्र और राज्य सरकारों के बीच सत्ता का बँटवारा कैसे भारतीय संविधान की बुनियादी बात है ? स्पष्ट कीजिए । 3

Name any two subjects that are included in Concurrent List. How are laws made on these subjects ? Explain.

**OR**

How is sharing of power between the Union and the State Governments basic to the structure of the Constitution of India ? Explain.





13. “प्रत्येक सामाजिक विभिन्नता सामाजिक विभाजन का रूप नहीं लेती है।” इस कथन को न्यायसंगत ठहराइए। 3

“Every social difference does not lead to social division.” Justify the statement.

14. जाति किस प्रकार राजनीति में अनेक रूप ले सकती है ? उदाहरणों सहित स्पष्ट कीजिए। 3  
How can caste take several forms in politics ? Explain with examples.

15. “विश्व भर में कच्चे तेल के भंडार सीमित हैं। यदि लोग वर्तमान दर से इसका दोहन करते रहे, तो ये भंडार 35 – 40 वर्षों में ही समाप्त हो जाएँगे।” इस समस्या से निपटने के किन्हीं तीन उपायों की व्याख्या कीजिए। 1×3=3

“Crude oil reserves are limited all over the world. If people continue to extract it at the present rate, the reserves would last only 35 – 40 years more.” Explain any three ways to solve this problem.

16. मुख्य रूप से ग्रामीण क्षेत्रों में बैंकों की संख्या में अधिक वृद्धि क्यों आवश्यक है ? स्पष्ट कीजिए। 3

अथवा

औपचारिक ऋण क्षेत्रक की सेवाएँ अनौपचारिक ऋण क्षेत्रकों से बेहतर क्यों हैं ? स्पष्ट कीजिए। 3

Why is it necessary to increase a large number of banks mainly in rural areas ? Explain.

OR

Why are service conditions of formal sector loans better than informal sector ? Explain.

17. भारत की सरकार वैश्वीकरण को अधिक न्यायसंगत बनाने में किस प्रकार मुख्य भूमिका अदा कर सकती है ? उदाहरणों सहित व्याख्या कीजिए। 3

अथवा

वैश्वीकरण ने भारत के लोगों के जीवन को किस प्रकार प्रभावित किया है ? उदाहरणों सहित व्याख्या कीजिए। 3

How can the Government of India play a major role to make globalisation more fair ? Explain with examples.

OR

How has globalisation affected the life of Indians ? Explain with examples.





18. उपभोक्ता अपने दैनिक जीवन में 'सूचना पाने के अधिकार' का लाभ कैसे उठाते हैं ? उदाहरणों सहित व्याख्या कीजिए । 3

How are consumers enjoying the 'right to be informed' in their daily life ? Explain with examples.

### खण्ड ग

## SECTION C

19. 'प्रथम विश्व युद्ध' ने भारत में कैसे आर्थिक समस्याओं को पैदा किया ? उदाहरणों सहित व्याख्या कीजिए । 5

### अथवा

19वीं शताब्दी में विविध सांस्कृतिक प्रक्रियाओं ने भारत में कैसे सामूहिक अपनेपन के भाव को विकसित किया ? उदाहरणों सहित व्याख्या कीजिए । 5

How had the 'First World War' created economic problems in India ? Explain with examples.

### OR

How had a variety of cultural processes developed a sense of collective belongingness in India during the 19<sup>th</sup> century ? Explain with examples.

20. उन्नीसवीं शताब्दी में विश्व में आए बदलावों में 'तकनीकी' की भूमिका का वर्णन कीजिए । 5

### अथवा

उन्नीसवीं शताब्दी के दौरान इंग्लैण्ड में कामगारों के जीवन का वर्णन कीजिए । 5

### अथवा

उन्नीसवीं शताब्दी में लंदन को साफ रखने के विविध उपायों का वर्णन कीजिए । 5

Describe the role of 'technology' in transformation of the world in the nineteenth century.

### OR

Describe the life of workers during the nineteenth century in England.

### OR

Describe various steps taken to clean up London in the nineteenth century.





21. भारत में उगाई गई दो प्रमुख पेय फ़सलों के नाम लिखिए । उनके उगाने के क्षेत्रों का वर्णन कीजिए । 1+2+2=5

Name the two major beverage crops grown in India. Describe their growing areas.

22. स्वच्छ जल को औद्योगिक प्रदूषण से कैसे बचाया जा सकता है ? विभिन्न उपायों की व्याख्या कीजिए । 5

How can the industrial pollution of fresh water be reduced ? Explain various ways.

23. “लोकतांत्रिक व्यवस्थाएँ आर्थिक असमानताओं को कम करने में ज़्यादा सफल नहीं हो पाई हैं ।” इस कथन को न्यायसंगत ठहराइए । 5

**अथवा**

“लोकतंत्र शासन व्यवस्था अन्य प्रकार की शासन व्यवस्थाओं से बेहतर है ।” इस कथन को न्यायसंगत ठहराइए । 5

“Democracies do not appear to be very successful in reducing economic inequalities.” Justify the statement.

**OR**

“Democracy is a better form of government than any other form of government.” Justify the statement.

24. राजनीतिक दल से क्या अभिप्राय है ? राजनीतिक दल की किन्हीं चार विशेषताओं की व्याख्या कीजिए । 5

What is a political party ? Explain any four characteristics of a political party.

25. सार्वजनिक एवं निजी क्षेत्रकों की आर्थिक क्रियाओं की तुलना कीजिए । 5

Compare the economic activities of the private sector with that of the public sector.



## खण्ड घ

### SECTION D

26. (A) दो लक्षण 'a' और 'b' दिए गए **भारत** के राजनीतिक रेखा-मानचित्र (पृष्ठ 11 पर), में अंकित किए गए हैं। इन लक्षणों को निम्नलिखित जानकारी की सहायता से पहचानिए और उनके सही नाम उनके समीप खींची गई रेखाओं पर लिखिए :  $1 \times 2 = 2$
- (a) वह स्थान जहाँ भारतीय राष्ट्रीय काँग्रेस का अधिवेशन हुआ।  
(b) वह स्थान जहाँ गाँधीजी ने नमक कानून तोड़ा।
- (B) इसी दिए गए **भारत** के राजनीतिक रेखा-मानचित्र में निम्नलिखित में से **किन्हीं तीन** को उपयुक्त चिह्नों से दर्शाइए और उनके नाम लिखिए :  $1 \times 3 = 3$
- (i) बोकारो – लोहा और इस्पात संयंत्र  
(ii) गाँधीनगर – सॉफ्टवेयर टेक्नोलॉजी पार्क  
(iii) तारापुर – आण्विक ऊर्जा संयंत्र  
(iv) सलाल – बाँध  
(v) तूतीकोरिन – समुद्री पत्तन
- (A) Two features 'a' and 'b' are marked on the given political outline map of **India** (on page 11). Identify these features with the help of the following information and write their correct names on the lines marked near them :
- (a) The place where the Indian National Congress Session was held.  
(b) The place where Gandhiji violated the salt law.
- (B) Locate and label **any three** of the following with appropriate symbols on the same given outline political map of **India** :
- (i) Bokaro – Iron and Steel Plant  
(ii) Gandhinagar – Software Technology Park  
(iii) Tarapur – Nuclear Power Plant  
(iv) Salal – Dam  
(v) Tuticorin – Sea Port





**नोट :** निम्नलिखित प्रश्न केवल दृष्टिबाधित परीक्षार्थियों के लिए प्रश्न संख्या 26 के स्थान पर हैं। किन्हीं पाँच प्रश्नों के उत्तर लिखिए :

**Note :** The following questions are for the **Visually Impaired Candidates** only, in lieu of Q. No. 26. Attempt **any five** questions :

- (26.1) उस राज्य का नाम लिखिए, जहाँ भारतीय राष्ट्रीय कांग्रेस ने अपना अधिवेशन दिसम्बर 1920 में आयोजित किया।
- (26.2) उस राज्य का नाम लिखिए, जहाँ सूती कपड़ा मिल मज़दूरों ने सत्याग्रह किया।
- (26.3) उस स्थान का नाम लिखिए, जो असहयोग आंदोलन को वापस लेने से संबंधित है।
- (26.4) उस राज्य का नाम लिखिए, जहाँ बोकारो लोहा और इस्पात संयंत्र स्थित है।
- (26.5) उस राज्य का नाम लिखिए, जहाँ तारापुर आण्विक ऊर्जा संयंत्र स्थित है।
- (26.6) भारत के किस तट पर तूतीकोरिन समुद्री पत्तन स्थित है ?
- (26.7) उस राज्य का नाम लिखिए, जहाँ सलाल बाँध स्थित है।

1×5=5

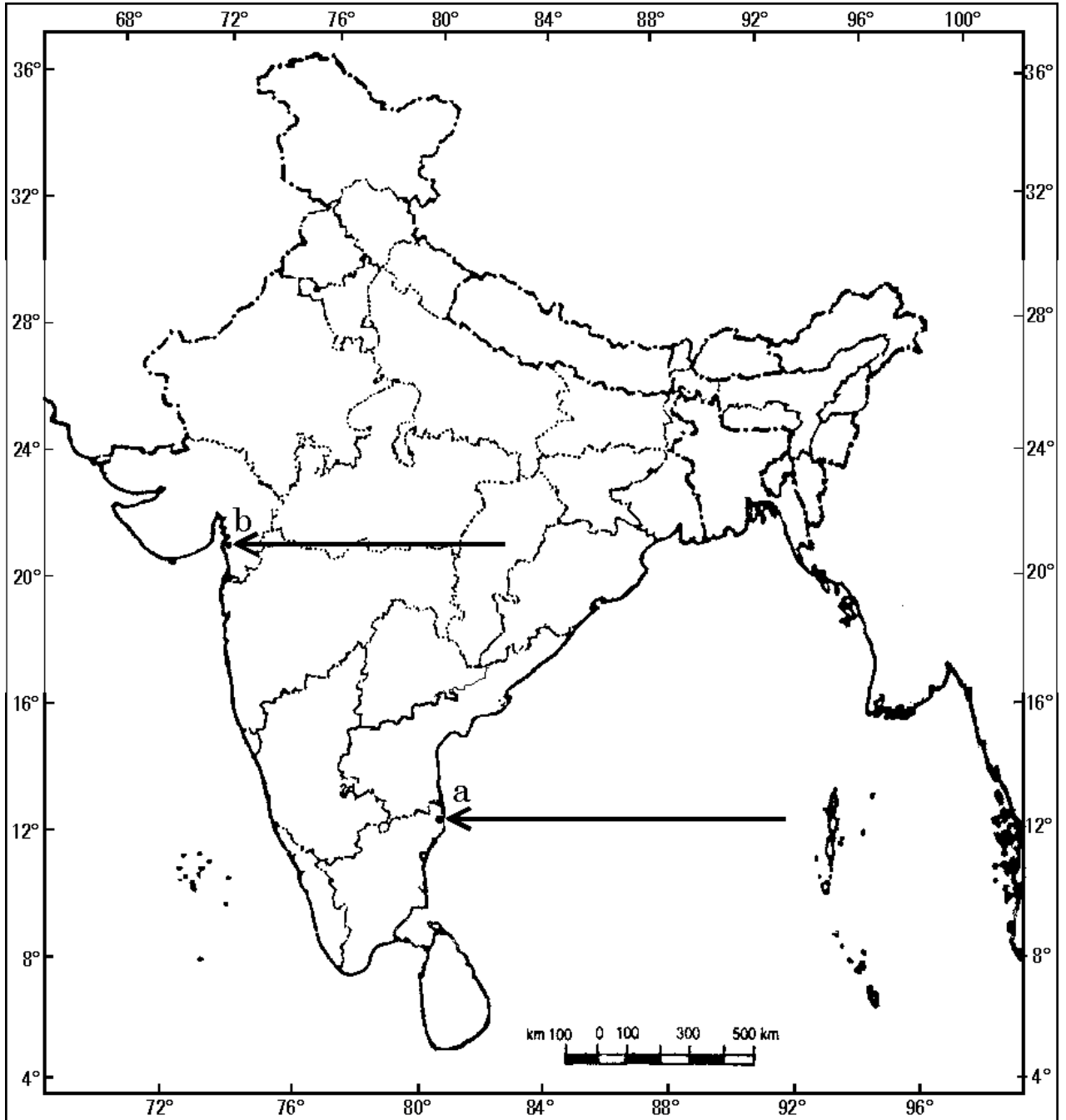
- (26.1) Name the State where the Indian National Congress held its session in December 1920.
- (26.2) Name the State where cotton mill workers organised Satyagraha.
- (26.3) Name the place related to the calling-off of the Non-Cooperation Movement.
- (26.4) Name the State where Bokaro Iron and Steel plant is located.
- (26.5) Name the State where Tarapur Nuclear Power plant is located.
- (26.6) On which coast of India is Tuticorin sea port located ?
- (26.7) Name the State where Salal Dam is located.



प्रश्न सं. 26 के लिए

For question no. 26

भारत का रेखा-मानचित्र (राजनीतिक)  
Outline Map of India (Political)





**SET-2****Series JMS/2**कोड नं. **32/2/2**  
Code No.रोल नं. 

--	--	--	--	--	--	--

  
Roll No.

परीक्षार्थी कोड को उत्तर-पुस्तिका के मुख-पृष्ठ पर अवश्य लिखें ।

Candidates must write the Code on the title page of the answer-book.

- कृपया जाँच कर लें कि इस प्रश्न-पत्र में मुद्रित पृष्ठ **10 + 1** मानचित्र हैं ।
- प्रश्न-पत्र में दाहिने हाथ की ओर दिए गए कोड नम्बर को छात्र उत्तर-पुस्तिका के मुख-पृष्ठ पर लिखें ।
- कृपया जाँच कर लें कि इस प्रश्न-पत्र में **26** प्रश्न हैं ।
- कृपया प्रश्न का उत्तर लिखना शुरू करने से पहले, प्रश्न का क्रमांक अवश्य लिखें ।
- इस प्रश्न-पत्र को पढ़ने के लिए 15 मिनट का समय दिया गया है । प्रश्न-पत्र का वितरण पूर्वाह्न में 10.15 बजे किया जाएगा । 10.15 बजे से 10.30 बजे तक छात्र केवल प्रश्न-पत्र को पढ़ेंगे और इस अवधि के दौरान वे उत्तर-पुस्तिका पर कोई उत्तर नहीं लिखेंगे ।
- Please check that this question paper contains **10** printed pages + **1** Map.
- Code number given on the right hand side of the question paper should be written on the title page of the answer-book by the candidate.
- Please check that this question paper contains **26** questions.
- **Please write down the Serial Number of the question before attempting it.**
- 15 minute time has been allotted to read this question paper. The question paper will be distributed at 10.15 a.m. From 10.15 a.m. to 10.30 a.m., the students will read the question paper only and will not write any answer on the answer-book during this period.

## सामाजिक विज्ञान

### SOCIAL SCIENCE

निर्धारित समय : 3 घण्टे  
Time allowed : 3 hoursअधिकतम अंक : 80  
Maximum Marks : 80



### सामान्य निर्देश :

- (i) इस प्रश्न-पत्र को चार खण्डों में विभाजित किया गया है। खण्ड क, खण्ड ख, खण्ड ग और खण्ड घ।
- (ii) इस प्रश्न-पत्र में कुल 26 प्रश्न हैं।
- (iii) सभी प्रश्न अनिवार्य हैं।
- (iv) प्रत्येक प्रश्न के अंक उसके सामने दिए गए हैं।
- (v) प्रश्न संख्या 1 से 7 तक अति लघु-उत्तरीय प्रश्न हैं। प्रत्येक प्रश्न 1 अंक का है।
- (vi) प्रश्न संख्या 8 से 18 तक प्रत्येक प्रश्न 3 अंक का है। इनमें से प्रत्येक प्रश्न का उत्तर 80 शब्दों से अधिक का नहीं होना चाहिए।
- (vii) प्रश्न संख्या 19 से 25 तक प्रत्येक प्रश्न 5 अंक का है। इनमें से प्रत्येक प्रश्न का उत्तर 100 शब्दों से अधिक का नहीं होना चाहिए।
- (viii) प्रश्न संख्या 26 मानचित्र प्रश्न 5 अंक का है। इसके दो भाग हैं – 26 (A) और 26 (B)। 26 (A) 2 अंक का इतिहास से तथा 26 (B) 3 अंक का भूगोल से है। मानचित्र का प्रश्न पूर्ण होने पर उसे अपनी उत्तर-पुस्तिका के अन्दर नत्थी कीजिए।

### General Instructions :

- (i) The question paper is divided into four sections – Section A, Section B, Section C and Section D.
- (ii) The question paper has 26 questions in all.
- (iii) All questions are **compulsory**.
- (iv) Marks are indicated against each question.
- (v) Questions from serial number 1 to 7 are Very Short Answer Type Questions. Each question carries 1 mark.
- (vi) Questions from serial number 8 to 18 are 3 marks questions. Answers to these questions should not exceed 80 words each.
- (vii) Questions from serial number 19 to 25 are 5 marks questions. Answers to these questions should not exceed 100 words each.
- (viii) Question number 26 is a map question of 5 marks with two parts 26 (A) and 26 (B) – 26 (A) from History (2 marks) and 26 (B) from Geography (3 marks). After completion, attach the map inside your answer-book.





खण्ड क

SECTION A

1. जो किसान फ़सल उगाने के लिए केवल वर्षा पर निर्भर हैं उनके लिए विकास का लक्ष्य क्या हो सकता है ? 1

अथवा

शहरी बेरोज़गार युवक के लिए विकास का लक्ष्य क्या हो सकता है ? 1

What may be a developmental goal of farmers who depend only on rain for growing crops ?

OR

What may be a developmental goal of urban unemployed youth ?

2. शिलांग ने जल की कमी की गंभीर समस्या को कैसे हल किया ? 1

अथवा

तमिलनाडु ने जल की कमी की गंभीर समस्या को कैसे हल किया ? 1

How has Shillong solved the problem of acute shortage of water ?

OR

How has Tamil Nadu solved the problem of acute shortage of water ?

3. चीनी राजतंत्र द्वारा किताबों को क्यों मुद्रित करवाया गया ? 1

अथवा

चंदू मेनन ने 'अंग्रेज़ी उपन्यासों' का 'मलयालम' में अनुवाद करने के विचार को क्यों त्याग दिया ? 1

Why was printing of textbooks sponsored by the Imperial State in China ?

OR

Why did Chandu Menon give up the idea of translation of 'English Novels' in Malayalam ?

4. श्रीलंका में प्रचलित 'बहुसंख्यकवाद' का अर्थ स्पष्ट कीजिए । 1

Explain the meaning of 'Majoritarianism' as practised in Sri Lanka.



5. 1834 में जर्मनी में शुल्क संघ 'ज़ॉलवेराइन' स्थापित करने के उद्देश्य की व्याख्या कीजिए । 1

**अथवा**

1926 में वियतनाम में साइगॉन नेटिव गर्ल्स स्कूल में बड़े आंदोलन के खड़े होने के लिए उत्तरदायी मुख्य कारण की व्याख्या कीजिए । 1

Explain the aim to form 'Zollverein', a Customs Union, in 1834 in Germany.

**OR**

Explain the main reason responsible for the eruption of a major protest in Saigon Native Girls School in Vietnam in 1926.

6. नक़दी का प्रयोग किए बिना भुगतान करने के किसी एक तरीके का उदाहरण लिखिए । 1

Give any one example of the methods to make payment without using cash.

7. कोपरा के अन्तर्गत कौन-सा न्यायालय ₹ 20 लाख तक के दावों से सम्बन्धित मुकदमों पर विचार करता है ? 1

Which court deals with the cases involving claims upto ₹ 20 lakhs under COPRA ?

**खण्ड ख**

## **SECTION B**

8. यूरोप में छापेखाने ने किस प्रकार पढ़ने की एक नयी संस्कृति को विकसित किया ? उदाहरणों सहित व्याख्या कीजिए । 3

**अथवा**

चार्ल्स डिकेन्स ने लोगों के जीवन एवं चरित्र पर औद्योगीकरण के दुष्प्रभावों का कैसे वर्णन किया ? उदाहरणों सहित व्याख्या कीजिए । 3

How had the printing press created a new culture of reading in Europe ? Explain with examples.

**OR**

How had Charles Dickens depicted the terrible effects of industrialisation on peoples lives and characters ? Explain with examples.





9. भारत में पाई जाने वाली 'जलोढ़ मृदा' की किन्हीं तीन प्रमुख विशेषताओं का वर्णन कीजिए । 1×3=3

**अथवा**

भारत में पाई जाने वाली 'काली मृदा' की किन्हीं तीन प्रमुख विशेषताओं का वर्णन कीजिए ।  $1 \times 3 = 3$   
Describe any three main features of 'Alluvial soil' found in India.

**OR**

Describe any three main features of 'Black soil' found in India.

10. 1930 के दशक में यूरोप में आई भारी आर्थिक कठिनाइयों का वर्णन कीजिए । 3

**अथवा**

1903 में हनोई के आधुनिक भाग में आई गंभीर समस्या का वर्णन कीजिए । 3

Describe the great economic hardship that prevailed in Europe during the 1930s.

**OR**

Describe the serious problem faced by the modern part of Hanoi in 1903.

11. बहु-उद्देशीय परियोजनाओं की उपयोगिताओं का विश्लेषण कीजिए । 3

Analyse the merits of multipurpose projects.

12. उपभोक्ता अपने दैनिक जीवन में 'सूचना पाने के अधिकार' का लाभ कैसे उठाते हैं ? उदाहरणों सहित व्याख्या कीजिए । 3

How are consumers enjoying the 'right to be informed' in their daily life ? Explain with examples.

13. भारत की सरकार वैश्वीकरण को अधिक न्यायसंगत बनाने में किस प्रकार मुख्य भूमिका अदा कर सकती है ? उदाहरणों सहित व्याख्या कीजिए । 3

**अथवा**

वैश्वीकरण ने भारत के लोगों के जीवन को किस प्रकार प्रभावित किया है ? उदाहरणों सहित व्याख्या कीजिए । 3

How can the Government of India play a major role to make globalisation more fair ? Explain with examples.

**OR**

How has globalisation affected the life of Indians ? Explain with examples.



14. “हमारा समाज आज भी पितृ प्रधान समाज है ।” उदाहरणों की सहायता से कथन को स्पष्ट कीजिए । 3

“Our society is still a male dominated society.” Explain the statement with the help of examples.

15. मुख्य रूप से ग्रामीण क्षेत्रों में बैंकों की संख्या में अधिक वृद्धि क्यों आवश्यक है ? स्पष्ट कीजिए । 3

**अथवा**

औपचारिक ऋण क्षेत्रक की सेवाएँ अनौपचारिक ऋण क्षेत्रकों से बेहतर क्यों हैं ? स्पष्ट कीजिए । 3

Why is it necessary to increase a large number of banks mainly in rural areas ? Explain.

**OR**

Why are service conditions of formal sector loans better than informal sector ? Explain.

16. “विश्व भर में कच्चे तेल के भंडार सीमित हैं । यदि लोग वर्तमान दर से इसका दोहन करते रहे, तो ये भंडार 35 – 40 वर्षों में ही समाप्त हो जाएँगे ।” इस समस्या से निपटने के किन्हीं तीन उपायों की व्याख्या कीजिए ।  $1 \times 3 = 3$

“Crude oil reserves are limited all over the world. If people continue to extract it at the present rate, the reserves would last only 35 – 40 years more.” Explain any three ways to solve this problem.

17. समवर्ती सूची में सम्मिलित किन्हीं दो विषयों के नाम लिखिए । इन विषयों पर कानून कैसे बनाए जाते हैं ? व्याख्या कीजिए ।  $1 + 2 = 3$

**अथवा**

भारत में केन्द्र और राज्य सरकारों के बीच सत्ता का बँटवारा कैसे भारतीय संविधान की बुनियादी बात है ? स्पष्ट कीजिए । 3

Name any two subjects that are included in Concurrent List. How are laws made on these subjects ? Explain.

**OR**

How is sharing of power between the Union and the State Governments basic to the structure of the Constitution of India ? Explain.





18. “प्रत्येक सामाजिक विभिन्नता सामाजिक विभाजन का रूप नहीं लेती है।” इस कथन को न्यायसंगत ठहराइए। 3

“Every social difference does not lead to social division.” Justify the statement.

**खण्ड ग**

**SECTION C**

19. उन्नीसवीं शताब्दी में विश्व में आए बदलावों में ‘तकनीकी’ की भूमिका का वर्णन कीजिए। 5

**अथवा**

उन्नीसवीं शताब्दी के दौरान इंग्लैण्ड में कामगारों के जीवन का वर्णन कीजिए। 5

**अथवा**

उन्नीसवीं शताब्दी में लंदन को साफ रखने के विविध उपायों का वर्णन कीजिए। 5

Describe the role of ‘technology’ in transformation of the world in the nineteenth century.

**OR**

Describe the life of workers during the nineteenth century in England.

**OR**

Describe various steps taken to clean up London in the nineteenth century.

20. ‘प्रथम विश्व युद्ध’ ने भारत में कैसे आर्थिक समस्याओं को पैदा किया ? उदाहरणों सहित व्याख्या कीजिए। 5

**अथवा**

19वीं शताब्दी में विविध सांस्कृतिक प्रक्रियाओं ने भारत में कैसे सामूहिक अपनेपन के भाव को विकसित किया ? उदाहरणों सहित व्याख्या कीजिए। 5

How had the ‘First World War’ created economic problems in India ? Explain with examples.

**OR**

How had a variety of cultural processes developed a sense of collective belongingness in India during the 19<sup>th</sup> century ? Explain with examples.



21. भारत में उगाई जाने वाली किन्हीं दो मुख्य रेशेदार फ़सलों के नाम लिखिए । इन दो फ़सलों को उगाने के लिए आवश्यक दशाओं का वर्णन कीजिए । 1+2×2=5

Name any two major fibre crops grown in India. Describe the conditions required to grow these two crops.

22. “लोकतांत्रिक व्यवस्थाएँ आर्थिक असमानताओं को कम करने में ज़्यादा सफल नहीं हो पाई हैं ।” इस कथन को न्यायसंगत ठहराइए । 5

**अथवा**

“लोकतंत्र शासन व्यवस्था अन्य प्रकार की शासन व्यवस्थाओं से बेहतर है ।” इस कथन को न्यायसंगत ठहराइए । 5

“Democracies do not appear to be very successful in reducing economic inequalities.” Justify the statement.

**OR**

“Democracy is a better form of government than any other form of government.” Justify the statement.

23. स्वच्छ जल को औद्योगिक प्रदूषण से कैसे बचाया जा सकता है ? विभिन्न उपायों की व्याख्या कीजिए । 5

How can the industrial pollution of fresh water be reduced ? Explain various ways.

24. सत्ताधारी पार्टी के किन्हीं पाँच कार्यों की व्याख्या कीजिए । 1×5=5

Explain any five functions of the ruling party.

25. संगठित और असंगठित क्षेत्रों के बीच कोई पाँच अन्तर स्पष्ट कीजिए । 1×5=5

Explain any five differences between organised and unorganised sectors.





## खण्ड घ

### SECTION D

26. (A) दो लक्षण 'a' और 'b' दिए गए **भारत** के राजनीतिक रेखा-मानचित्र (पृष्ठ 11 पर), में अंकित किए गए हैं। इन लक्षणों को निम्नलिखित जानकारी की सहायता से पहचानिए और उनके सही नाम उनके समीप खींची गई रेखाओं पर लिखिए :  $1 \times 2 = 2$
- (a) वह स्थान जहाँ भारतीय राष्ट्रीय कांग्रेस का अधिवेशन हुआ।  
(b) वह स्थान जहाँ गाँधीजी ने नमक कानून तोड़ा।
- (B) इसी दिए गए **भारत** के राजनीतिक रेखा-मानचित्र में निम्नलिखित में से *किन्हीं तीन* को उपयुक्त चिह्नों से दर्शाइए और उनके नाम लिखिए :  $1 \times 3 = 3$
- (i) बोकारो – लोहा और इस्पात संयंत्र  
(ii) गाँधीनगर – सॉफ्टवेयर टेक्नोलॉजी पार्क  
(iii) तारापुर – आण्विक ऊर्जा संयंत्र  
(iv) सलाल – बाँध  
(v) तूतीकोरिन – समुद्री पत्तन
- (A) Two features 'a' and 'b' are marked on the given political outline map of **India** (on page 11). Identify these features with the help of the following information and write their correct names on the lines marked near them :
- (a) The place where the Indian National Congress Session was held.  
(b) The place where Gandhiji violated the salt law.
- (B) Locate and label *any three* of the following with appropriate symbols on the same given outline political map of **India** :
- (i) Bokaro – Iron and Steel Plant  
(ii) Gandhinagar – Software Technology Park  
(iii) Tarapur – Nuclear Power Plant  
(iv) Salal – Dam  
(v) Tuticorin – Sea Port



**नोट :** निम्नलिखित प्रश्न केवल दृष्टिबाधित परीक्षार्थियों के लिए प्रश्न संख्या 26 के स्थान पर हैं। किन्हीं पाँच प्रश्नों के उत्तर लिखिए :

**Note :** The following questions are for the **Visually Impaired Candidates** only, in lieu of Q. No. 26. Attempt **any five** questions :

- (26.1) उस राज्य का नाम लिखिए, जहाँ भारतीय राष्ट्रीय कांग्रेस ने अपना अधिवेशन दिसम्बर 1920 में आयोजित किया।
- (26.2) उस राज्य का नाम लिखिए, जहाँ सूती कपड़ा मिल मज़दूरों ने सत्याग्रह किया।
- (26.3) उस स्थान का नाम लिखिए, जो असहयोग आंदोलन को वापस लेने से संबंधित है।
- (26.4) उस राज्य का नाम लिखिए, जहाँ बोकारो लोहा और इस्पात संयंत्र स्थित है।
- (26.5) उस राज्य का नाम लिखिए, जहाँ तारापुर आण्विक ऊर्जा संयंत्र स्थित है।
- (26.6) भारत के किस तट पर तूतीकोरिन समुद्री पत्तन स्थित है ?
- (26.7) उस राज्य का नाम लिखिए, जहाँ सलाल बाँध स्थित है। 1×5=5

- (26.1) Name the State where the Indian National Congress held its session in December 1920.
- (26.2) Name the State where cotton mill workers organised Satyagraha.
- (26.3) Name the place related to the calling-off of the Non-Cooperation Movement.
- (26.4) Name the State where Bokaro Iron and Steel plant is located.
- (26.5) Name the State where Tarapur Nuclear Power plant is located.
- (26.6) On which coast of India is Tuticorin sea port located ?
- (26.7) Name the State where Salal Dam is located.

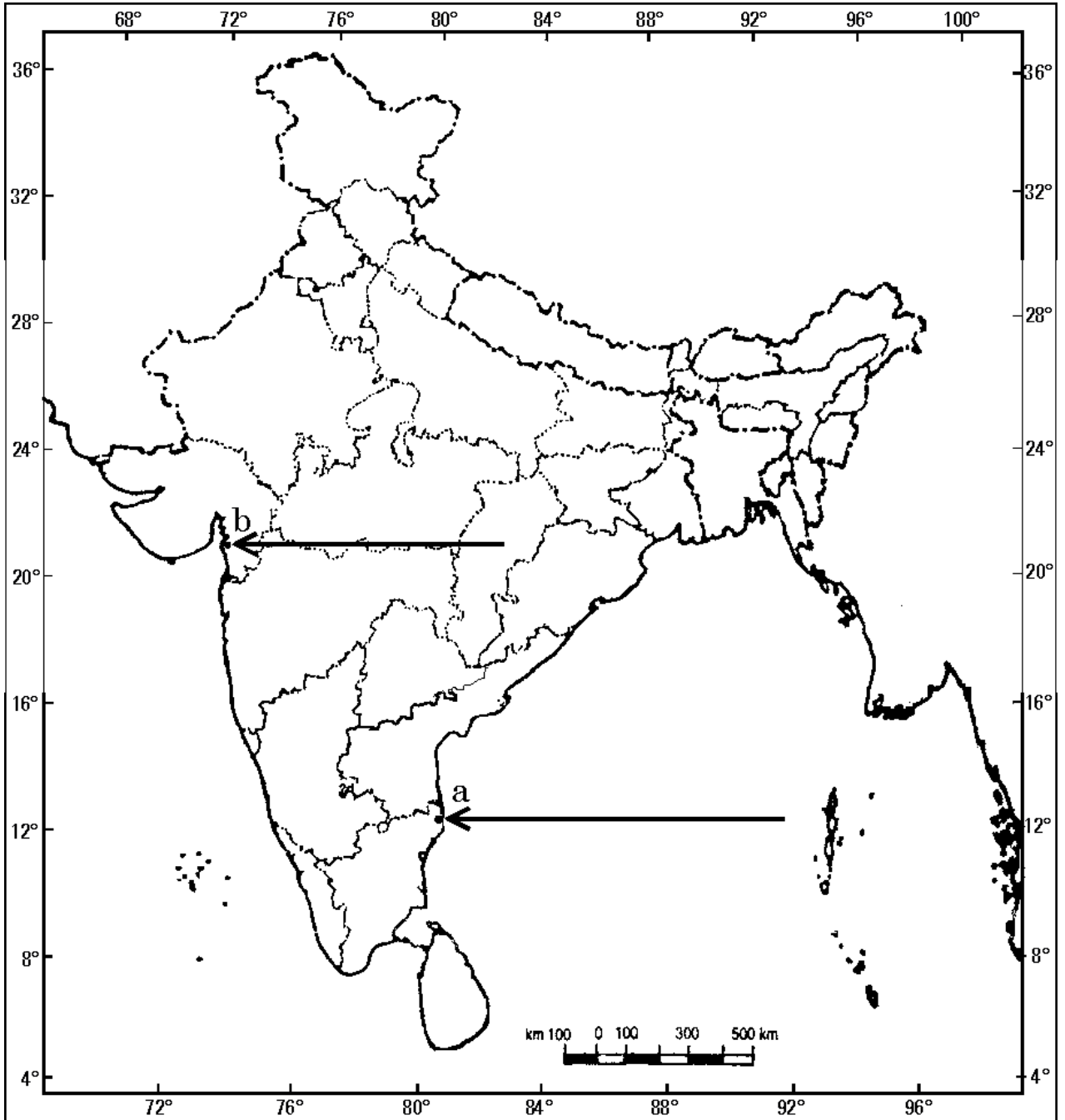




प्रश्न सं. 26 के लिए

For question no. 26

भारत का रेखा-मानचित्र (राजनीतिक)  
Outline Map of India (Political)



**SET-3****Series JMS/2**कोड नं. **32/2/3**  
Code No.रोल नं. 

--	--	--	--	--	--	--

  
Roll No.

परीक्षार्थी कोड को उत्तर-पुस्तिका के मुख-पृष्ठ पर अवश्य लिखें ।

Candidates must write the Code on the title page of the answer-book.

- कृपया जाँच कर लें कि इस प्रश्न-पत्र में मुद्रित पृष्ठ **10 + 1** मानचित्र हैं ।
- प्रश्न-पत्र में दाहिने हाथ की ओर दिए गए कोड नम्बर को छात्र उत्तर-पुस्तिका के मुख-पृष्ठ पर लिखें ।
- कृपया जाँच कर लें कि इस प्रश्न-पत्र में **26** प्रश्न हैं ।
- कृपया प्रश्न का उत्तर लिखना शुरू करने से पहले, प्रश्न का क्रमांक अवश्य लिखें ।
- इस प्रश्न-पत्र को पढ़ने के लिए 15 मिनट का समय दिया गया है । प्रश्न-पत्र का वितरण पूर्वाह्न में 10.15 बजे किया जाएगा । 10.15 बजे से 10.30 बजे तक छात्र केवल प्रश्न-पत्र को पढ़ेंगे और इस अवधि के दौरान वे उत्तर-पुस्तिका पर कोई उत्तर नहीं लिखेंगे ।
- Please check that this question paper contains **10** printed pages + **1** Map.
- Code number given on the right hand side of the question paper should be written on the title page of the answer-book by the candidate.
- Please check that this question paper contains **26** questions.
- **Please write down the Serial Number of the question before attempting it.**
- 15 minute time has been allotted to read this question paper. The question paper will be distributed at 10.15 a.m. From 10.15 a.m. to 10.30 a.m., the students will read the question paper only and will not write any answer on the answer-book during this period.

## सामाजिक विज्ञान

### SOCIAL SCIENCE

निर्धारित समय : 3 घण्टे  
Time allowed : 3 hoursअधिकतम अंक : 80  
Maximum Marks : 80





### सामान्य निर्देश :

- (i) इस प्रश्न-पत्र को चार खण्डों में विभाजित किया गया है। खण्ड क, खण्ड ख, खण्ड ग और खण्ड घ।
- (ii) इस प्रश्न-पत्र में कुल 26 प्रश्न हैं।
- (iii) सभी प्रश्न अनिवार्य हैं।
- (iv) प्रत्येक प्रश्न के अंक उसके सामने दिए गए हैं।
- (v) प्रश्न संख्या 1 से 7 तक अति लघु-उत्तरीय प्रश्न हैं। प्रत्येक प्रश्न 1 अंक का है।
- (vi) प्रश्न संख्या 8 से 18 तक प्रत्येक प्रश्न 3 अंक का है। इनमें से प्रत्येक प्रश्न का उत्तर 80 शब्दों से अधिक का नहीं होना चाहिए।
- (vii) प्रश्न संख्या 19 से 25 तक प्रत्येक प्रश्न 5 अंक का है। इनमें से प्रत्येक प्रश्न का उत्तर 100 शब्दों से अधिक का नहीं होना चाहिए।
- (viii) प्रश्न संख्या 26 मानचित्र प्रश्न 5 अंक का है। इसके दो भाग हैं – 26 (A) और 26 (B)। 26 (A) 2 अंक का इतिहास से तथा 26 (B) 3 अंक का भूगोल से है। मानचित्र का प्रश्न पूर्ण होने पर उसे अपनी उत्तर-पुस्तिका के अन्दर नत्थी कीजिए।

### General Instructions :

- (i) The question paper is divided into four sections – Section A, Section B, Section C and Section D.
- (ii) The question paper has 26 questions in all.
- (iii) All questions are **compulsory**.
- (iv) Marks are indicated against each question.
- (v) Questions from serial number 1 to 7 are Very Short Answer Type Questions. Each question carries 1 mark.
- (vi) Questions from serial number 8 to 18 are 3 marks questions. Answers to these questions should not exceed 80 words each.
- (vii) Questions from serial number 19 to 25 are 5 marks questions. Answers to these questions should not exceed 100 words each.
- (viii) Question number 26 is a map question of 5 marks with two parts 26 (A) and 26 (B) – 26 (A) from History (2 marks) and 26 (B) from Geography (3 marks). After completion, attach the map inside your answer-book.



**खण्ड क**  
**SECTION A**

1. चीनी राजतंत्र द्वारा किताबों को क्यों मुद्रित करवाया गया ? 1

**अथवा**

चंदू मेनन ने 'अंग्रेज़ी उपन्यासों' का 'मलयालम' में अनुवाद करने के विचार को क्यों त्याग दिया ? 1

Why was printing of textbooks sponsored by the Imperial State in China ?

**OR**

Why did Chandu Menon give up the idea of translation of 'English Novels' in Malayalam ?

2. 1834 में जर्मनी में शुल्क संघ 'ज़ॉलवेराइन' स्थापित करने के उद्देश्य की व्याख्या कीजिए । 1

**अथवा**

1926 में वियतनाम में साइगॉन नेटिव गर्ल्स स्कूल में बड़े आंदोलन के खड़े होने के लिए उत्तरदायी मुख्य कारण की व्याख्या कीजिए । 1

Explain the aim to form 'Zollverein', a Customs Union, in 1834 in Germany.

**OR**

Explain the main reason responsible for the eruption of a major protest in Saigon Native Girls School in Vietnam in 1926.

3. जो किसान फ़सल उगाने के लिए केवल वर्षा पर निर्भर हैं उनके लिए विकास का लक्ष्य क्या हो सकता है ? 1

**अथवा**

शहरी बेरोज़गार युवक के लिए विकास का लक्ष्य क्या हो सकता है ? 1

What may be a developmental goal of farmers who depend only on rain for growing crops ?

**OR**

What may be a developmental goal of urban unemployed youth ?

4. सत्ता की साझेदारी क्यों आवश्यक है ? 1

Why is power sharing desirable ?





5. शिलांग ने जल की कमी की गंभीर समस्या को कैसे हल किया ? 1  
अथवा

तमिलनाडु ने जल की कमी की गंभीर समस्या को कैसे हल किया ? 1

How has Shillong solved the problem of acute shortage of water ?

**OR**

How has Tamil Nadu solved the problem of acute shortage of water ?

6. मुद्रा का एक उदाहरण दीजिए जो करेंसी (नक़दी) के रूप में नहीं है । 1

Give one example of money which is not in the form of currency (cash).

7. कोपरा के अन्तर्गत कौन-सा न्यायालय एक करोड़ रुपए से अधिक की दावेदारी से सम्बन्धित मुकदमों पर विचार करता है ? 1

Which court deals with the cases involving claims exceeding ₹ one crore under COPRA ?

**खण्ड ख**

**SECTION B**

8. भारत में पाई जाने वाली 'जलोढ़ मृदा' की किन्हीं तीन प्रमुख विशेषताओं का वर्णन कीजिए । 1×3=3

**अथवा**

भारत में पाई जाने वाली 'काली मृदा' की किन्हीं तीन प्रमुख विशेषताओं का वर्णन कीजिए । 1×3=3

Describe any three main features of 'Alluvial soil' found in India.

**OR**

Describe any three main features of 'Black soil' found in India.

9. 1930 के दशक में यूरोप में आई भारी आर्थिक कठिनाइयों का वर्णन कीजिए । 3

**अथवा**

1903 में हनोई के आधुनिक भाग में आई गंभीर समस्या का वर्णन कीजिए । 3

Describe the great economic hardship that prevailed in Europe during the 1930s.

**OR**

Describe the serious problem faced by the modern part of Hanoi in 1903.



10. यूरोप में छापेखाने ने किस प्रकार पढ़ने की एक नयी संस्कृति को विकसित किया ? उदाहरणों सहित व्याख्या कीजिए । 3

अथवा

चार्ल्स डिकेन्स ने लोगों के जीवन एवं चरित्र पर औद्योगीकरण के दुष्प्रभावों का कैसे वर्णन किया ? उदाहरणों सहित व्याख्या कीजिए । 3

How had the printing press created a new culture of reading in Europe ? Explain with examples.

OR

How had Charles Dickens depicted the terrible effects of industrialisation on peoples lives and characters ? Explain with examples.

11. “सिंचाई ने भारत के कई क्षेत्रों में फ़सल प्रारूप परिवर्तित कर दिया है ।” कथन का विश्लेषण कीजिए । 3

“Irrigation has changed the cropping pattern of many regions in India.” Analyse the statement.

12. “विश्व भर में कच्चे तेल के भंडार सीमित हैं । यदि लोग वर्तमान दर से इसका दोहन करते रहे, तो ये भंडार 35 – 40 वर्षों में ही समाप्त हो जाएँगे ।” इस समस्या से निपटने के किन्हीं तीन उपायों की व्याख्या कीजिए । 1×3=3

“Crude oil reserves are limited all over the world. If people continue to extract it at the present rate, the reserves would last only 35 – 40 years more.” Explain any three ways to solve this problem.

13. मुख्य रूप से ग्रामीण क्षेत्रों में बैंकों की संख्या में अधिक वृद्धि क्यों आवश्यक है ? स्पष्ट कीजिए । 3

अथवा

औपचारिक ऋण क्षेत्रक की सेवाएँ अनौपचारिक ऋण क्षेत्रकों से बेहतर क्यों हैं ? स्पष्ट कीजिए । 3

Why is it necessary to increase a large number of banks mainly in rural areas ? Explain.

OR

Why are service conditions of formal sector loans better than informal sector ? Explain.





14. “भारत में अभी भी महिलाओं को कई तरीकों से भेदभाव का सामना करना पड़ता है ।” उदाहरणों सहित व्याख्या कीजिए । 3

“Women in India still face discrimination in various ways.” Explain with examples.

15. उपभोक्ता अपने दैनिक जीवन में ‘सूचना पाने के अधिकार’ का लाभ कैसे उठाते हैं ? उदाहरणों सहित व्याख्या कीजिए । 3

How are consumers enjoying the ‘right to be informed’ in their daily life ? Explain with examples.

16. समवर्ती सूची में सम्मिलित किन्हीं दो विषयों के नाम लिखिए । इन विषयों पर कानून कैसे बनाए जाते हैं ? व्याख्या कीजिए । 1+2=3

**अथवा**

भारत में केन्द्र और राज्य सरकारों के बीच सत्ता का बँटवारा कैसे भारतीय संविधान की बुनियादी बात है ? स्पष्ट कीजिए । 3

Name any two subjects that are included in Concurrent List. How are laws made on these subjects ? Explain.

**OR**

How is sharing of power between the Union and the State Governments basic to the structure of the Constitution of India ? Explain.

17. “प्रत्येक सामाजिक विभिन्नता सामाजिक विभाजन का रूप नहीं लेती है ।” इस कथन को न्यायसंगत ठहराइए । 3

“Every social difference does not lead to social division.” Justify the statement.

18. भारत की सरकार वैश्वीकरण को अधिक न्यायसंगत बनाने में किस प्रकार मुख्य भूमिका अदा कर सकती है ? उदाहरणों सहित व्याख्या कीजिए । 3

**अथवा**

वैश्वीकरण ने भारत के लोगों के जीवन को किस प्रकार प्रभावित किया है ? उदाहरणों सहित व्याख्या कीजिए । 3



How can the Government of India play a major role to make globalisation more fair ? Explain with examples.

**OR**

How has globalisation affected the life of Indians ? Explain with examples.

**खण्ड ग**

**SECTION C**

19. स्वच्छ जल को औद्योगिक प्रदूषण से कैसे बचाया जा सकता है ? विभिन्न उपायों की व्याख्या कीजिए । 5

How can the industrial pollution of fresh water be reduced ? Explain various ways.

20. “लोकतांत्रिक व्यवस्थाएँ आर्थिक असमानताओं को कम करने में ज़्यादा सफल नहीं हो पाई हैं ।” इस कथन को न्यायसंगत ठहराइए । 5

**अथवा**

“लोकतंत्र शासन व्यवस्था अन्य प्रकार की शासन व्यवस्थाओं से बेहतर है ।” इस कथन को न्यायसंगत ठहराइए । 5

“Democracies do not appear to be very successful in reducing economic inequalities.” Justify the statement.

**OR**

“Democracy is a better form of government than any other form of government.” Justify the statement.

21. भारत में उगाई जाने वाली दो सबसे महत्वपूर्ण खाद्यान्न फ़सलों के नाम लिखिए । इन दो फ़सलों को उगाने के लिए आवश्यक दशाओं का वर्णन कीजिए । 1+2×2=5

Name the two most important cereal crops grown in India. Describe the conditions required to grow these two crops.





22. 'प्रथम विश्व युद्ध' ने भारत में कैसे आर्थिक समस्याओं को पैदा किया ? उदाहरणों सहित व्याख्या कीजिए । 5

अथवा

19वीं शताब्दी में विविध सांस्कृतिक प्रक्रियाओं ने भारत में कैसे सामूहिक अपनेपन के भाव को विकसित किया ? उदाहरणों सहित व्याख्या कीजिए । 5

How had the 'First World War' created economic problems in India ? Explain with examples.

OR

How had a variety of cultural processes developed a sense of collective belongingness in India during the 19<sup>th</sup> century ? Explain with examples.

23. उन्नीसवीं शताब्दी में विश्व में आए बदलावों में 'तकनीकी' की भूमिका का वर्णन कीजिए । 5

अथवा

उन्नीसवीं शताब्दी के दौरान इंग्लैण्ड में कामगारों के जीवन का वर्णन कीजिए । 5

अथवा

उन्नीसवीं शताब्दी में लंदन को साफ रखने के विविध उपायों का वर्णन कीजिए । 5

Describe the role of 'technology' in transformation of the world in the nineteenth century.

OR

Describe the life of workers during the nineteenth century in England.

OR

Describe various steps taken to clean up London in the nineteenth century.

24. किसी लोकतांत्रिक देश में राजनीतिक दलों की आवश्यकता के कोई पाँच कारण स्पष्ट कीजिए । 1×5=5

Explain any five needs to have political parties in a democratic country.

25. निजी और सार्वजनिक क्षेत्रों के बीच कोई पाँच अंतर स्पष्ट कीजिए । 1×5=5

Explain any five differences between public and private sectors.



## खण्ड घ

### SECTION D

26. (A) दो लक्षण 'a' और 'b' दिए गए **भारत** के राजनीतिक रेखा-मानचित्र (पृष्ठ 11 पर), में अंकित किए गए हैं। इन लक्षणों को निम्नलिखित जानकारी की सहायता से पहचानिए और उनके सही नाम उनके समीप खींची गई रेखाओं पर लिखिए :  $1 \times 2 = 2$
- (a) वह स्थान जहाँ भारतीय राष्ट्रीय काँग्रेस का अधिवेशन हुआ।  
(b) वह स्थान जहाँ गाँधीजी ने नमक कानून तोड़ा।
- (B) इसी दिए गए **भारत** के राजनीतिक रेखा-मानचित्र में निम्नलिखित में से **किन्हीं तीन** को उपयुक्त चिह्नों से दर्शाइए और उनके नाम लिखिए :  $1 \times 3 = 3$
- (i) बोकारो – लोहा और इस्पात संयंत्र  
(ii) गाँधीनगर – सॉफ्टवेयर टेक्नोलॉजी पार्क  
(iii) तारापुर – आण्विक ऊर्जा संयंत्र  
(iv) सलाल – बाँध  
(v) तूतीकोरिन – समुद्री पत्तन
- (A) Two features 'a' and 'b' are marked on the given political outline map of **India** (on page 11). Identify these features with the help of the following information and write their correct names on the lines marked near them :
- (a) The place where the Indian National Congress Session was held.  
(b) The place where Gandhiji violated the salt law.
- (B) Locate and label **any three** of the following with appropriate symbols on the same given outline political map of **India** :
- (i) Bokaro – Iron and Steel Plant  
(ii) Gandhinagar – Software Technology Park  
(iii) Tarapur – Nuclear Power Plant  
(iv) Salal – Dam  
(v) Tuticorin – Sea Port





**नोट :** निम्नलिखित प्रश्न केवल दृष्टिबाधित परीक्षार्थियों के लिए प्रश्न संख्या 26 के स्थान पर हैं। किन्हीं पाँच प्रश्नों के उत्तर लिखिए :

**Note :** The following questions are for the **Visually Impaired Candidates** only, in lieu of Q. No. 26. Attempt **any five** questions :

- (26.1) उस राज्य का नाम लिखिए, जहाँ भारतीय राष्ट्रीय कांग्रेस ने अपना अधिवेशन दिसम्बर 1920 में आयोजित किया।
- (26.2) उस राज्य का नाम लिखिए, जहाँ सूती कपड़ा मिल मज़दूरों ने सत्याग्रह किया।
- (26.3) उस स्थान का नाम लिखिए, जो असहयोग आंदोलन को वापस लेने से संबंधित है।
- (26.4) उस राज्य का नाम लिखिए, जहाँ बोकारो लोहा और इस्पात संयंत्र स्थित है।
- (26.5) उस राज्य का नाम लिखिए, जहाँ तारापुर आण्विक ऊर्जा संयंत्र स्थित है।
- (26.6) भारत के किस तट पर तूतीकोरिन समुद्री पत्तन स्थित है ?
- (26.7) उस राज्य का नाम लिखिए, जहाँ सलाल बाँध स्थित है।

1×5=5

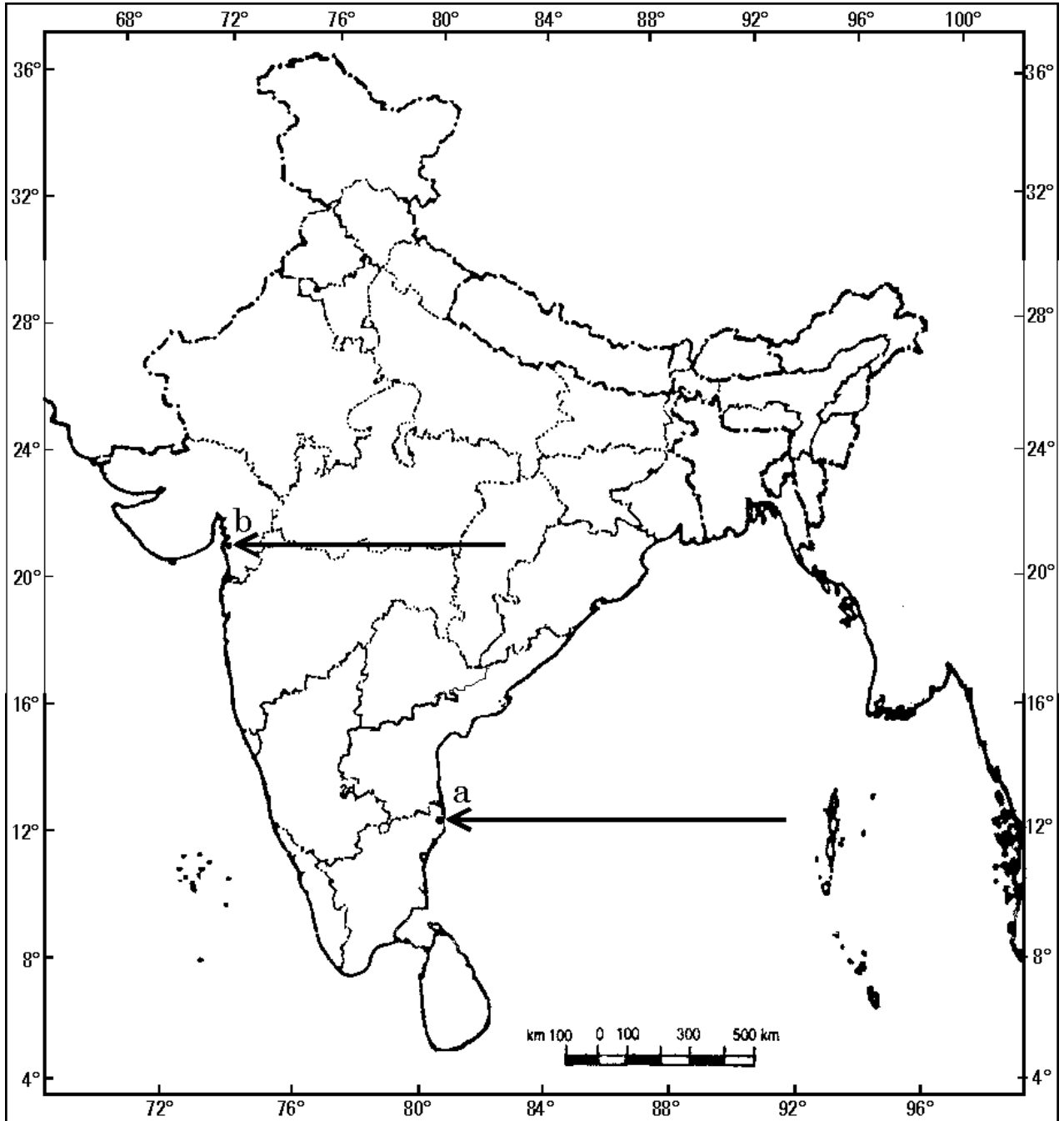
- (26.1) Name the State where the Indian National Congress held its session in December 1920.
- (26.2) Name the State where cotton mill workers organised Satyagraha.
- (26.3) Name the place related to the calling-off of the Non-Cooperation Movement.
- (26.4) Name the State where Bokaro Iron and Steel plant is located.
- (26.5) Name the State where Tarapur Nuclear Power plant is located.
- (26.6) On which coast of India is Tuticorin sea port located ?
- (26.7) Name the State where Salal Dam is located.



प्रश्न सं. 26 के लिए

For question no. 26

भारत का रेखा-मानचित्र (राजनीतिक)  
Outline Map of India (Political)



**SET-1****Series JMS/3**कोड नं. **32/3/1**  
Code No.रोल नं. 

--	--	--	--	--	--	--

  
Roll No.

परीक्षार्थी कोड को उत्तर-पुस्तिका के मुख-पृष्ठ पर अवश्य लिखें ।

Candidates must write the Code on the title page of the answer-book.

- कृपया जाँच कर लें कि इस प्रश्न-पत्र में मुद्रित पृष्ठ **10 + 1** मानचित्र हैं ।
- प्रश्न-पत्र में दाहिने हाथ की ओर दिए गए कोड नम्बर को छात्र उत्तर-पुस्तिका के मुख-पृष्ठ पर लिखें ।
- कृपया जाँच कर लें कि इस प्रश्न-पत्र में **26** प्रश्न हैं ।
- कृपया प्रश्न का उत्तर लिखना शुरू करने से पहले, प्रश्न का क्रमांक अवश्य लिखें ।
- इस प्रश्न-पत्र को पढ़ने के लिए 15 मिनट का समय दिया गया है । प्रश्न-पत्र का वितरण पूर्वाह्न में 10.15 बजे किया जाएगा । 10.15 बजे से 10.30 बजे तक छात्र केवल प्रश्न-पत्र को पढ़ेंगे और इस अवधि के दौरान वे उत्तर-पुस्तिका पर कोई उत्तर नहीं लिखेंगे ।
- Please check that this question paper contains **10** printed pages + **1** Map.
- Code number given on the right hand side of the question paper should be written on the title page of the answer-book by the candidate.
- Please check that this question paper contains **26** questions.
- **Please write down the Serial Number of the question before attempting it.**
- 15 minute time has been allotted to read this question paper. The question paper will be distributed at 10.15 a.m. From 10.15 a.m. to 10.30 a.m., the students will read the question paper only and will not write any answer on the answer-book during this period.

## सामाजिक विज्ञान

### SOCIAL SCIENCE

निर्धारित समय : 3 घण्टे  
Time allowed : 3 hoursअधिकतम अंक : 80  
Maximum Marks : 80





### सामान्य निर्देश :

- (i) इस प्रश्न-पत्र को चार खण्डों में विभाजित किया गया है। खण्ड क, खण्ड ख, खण्ड ग और खण्ड घ।
- (ii) इस प्रश्न-पत्र में कुल 26 प्रश्न हैं।
- (iii) सभी प्रश्न अनिवार्य हैं।
- (iv) प्रत्येक प्रश्न के अंक उसके सामने दिए गए हैं।
- (v) प्रश्न संख्या 1 से 7 तक अति लघु-उत्तरीय प्रश्न हैं। प्रत्येक प्रश्न 1 अंक का है।
- (vi) प्रश्न संख्या 8 से 18 तक प्रत्येक प्रश्न 3 अंक का है। इनमें से प्रत्येक प्रश्न का उत्तर 80 शब्दों से अधिक का नहीं होना चाहिए।
- (vii) प्रश्न संख्या 19 से 25 तक प्रत्येक प्रश्न 5 अंक का है। इनमें से प्रत्येक प्रश्न का उत्तर 100 शब्दों से अधिक का नहीं होना चाहिए।
- (viii) प्रश्न संख्या 26 मानचित्र प्रश्न 5 अंक का है। इसके दो भाग हैं – 26 (A) और 26 (B)। 26 (A) 2 अंक का इतिहास से तथा 26 (B) 3 अंक का भूगोल से है। मानचित्र का प्रश्न पूर्ण होने पर उसे अपनी उत्तर-पुस्तिका के अन्दर नत्थी कीजिए।

### General Instructions :

- (i) The question paper is divided into four sections – Section A, Section B, Section C and Section D.
- (ii) The question paper has 26 questions in all.
- (iii) All questions are **compulsory**.
- (iv) Marks are indicated against each question.
- (v) Questions from serial number 1 to 7 are Very Short Answer Type Questions. Each question carries 1 mark.
- (vi) Questions from serial number 8 to 18 are 3 marks questions. Answers to these questions should not exceed 80 words each.
- (vii) Questions from serial number 19 to 25 are 5 marks questions. Answers to these questions should not exceed 100 words each.
- (viii) Question number 26 is a map question of 5 marks with two parts 26 (A) and 26 (B) – 26 (A) from History (2 marks) and 26 (B) from Geography (3 marks). After completion, attach the map inside your answer-book.



खण्ड क

SECTION A

1. 1815 में अधिकतर 'रूढ़िवादी शासन व्यवस्थाओं' ने फ्रांसीसी क्रांति से जुड़ी मुद्रित सामग्री को नियंत्रित करने के लिए सेंसरशिप के नियम क्यों बनाए ? 1

अथवा

1907 में वियतनाम में 'टोंकिन फ्री स्कूल' क्यों खोला गया ? 1

Why did most of 'conservative regimes' impose censorship laws to control printed material associated with the French Revolution in 1815 ?

OR

Why was the 'Tonkin Free School' established in Vietnam in 1907 ?

2. मुद्रण युग से पूर्व भारत में पाण्डुलिपियाँ व्यापक उपयोग में क्यों नहीं थीं ? 1

अथवा

भारत में बीसवीं सदी के प्रारम्भिक दशकों में महिलाओं और बच्चों को उपन्यासों को पढ़ने से प्रायः हतोत्साहित क्यों किया गया ? 1

Why were manuscripts not widely used in India before the age of print ?

OR

Why were women and children often discouraged from reading novels in the early decades of the twentieth century in India ?

3. झारखंड में खनन क्रियाएँ किस प्रकार भू-निम्नीकरण के लिए उत्तरदायी हैं ? 1

अथवा

गुजरात में अति पशुचारण भू-निम्नीकरण के लिए कैसे उत्तरदायी है ? 1

How are mining activities responsible for land degradation in Jharkhand ?

OR

How is overgrazing responsible for land degradation in Gujarat ?

4. बेल्जियम में सामुदायिक सरकार कैसे चुनी जाती है ? 1

How is community government elected in Belgium ?

5. शहर के अमीर परिवार की एक लड़की के लिए विकास का लक्ष्य क्या हो सकता है ? 1

अथवा

एक सम्पन्न किसान के लिए विकास का लक्ष्य क्या हो सकता है ? 1



What may be a developmental goal of a girl who belongs to a rich urban family ?

**OR**

What may be a developmental goal of a rich farmer ?

6. प्राथमिक एवं तृतीयक आर्थिक क्षेत्रकों का एक-एक उदाहरण लिखिए । 1  
Give one example each of primary and tertiary economic sectors.

7. निवेश एवं विदेशी निवेश में अंतर स्पष्ट कीजिए । 1  
Distinguish between investment and foreign investment.

**खण्ड ख**

**SECTION B**

8. ब्रिटेन कैसे राष्ट्र-राज्य के रूप में अस्तित्व में आया ? व्याख्या कीजिए । 3

**अथवा**

वियतनाम में स्कूल कैसे राजनीतिक और सांस्कृतिक संघर्ष के अखाड़ों में बदल गए ? व्याख्या कीजिए । 3

How did Britain come into existence as a nation-state ? Explain.

**OR**

How had schools in Vietnam become an important place for political and cultural battles ? Explain.

9. उन्नीसवीं शताब्दी में यूरोप में किस प्रकार बच्चों, महिलाओं और कामगारों के रूप में बड़ी संख्या में नए पाठक बढ़े ? उदाहरणों सहित व्याख्या कीजिए । 3

**अथवा**

औपनिवेशिक सरकार को देशी भाषाई उपन्यासों में देशी जीवन व रीति-रिवाजों से जुड़ी जानकारी का बहुमूल्य स्रोत कैसे नज़र आया ? उदाहरणों सहित व्याख्या कीजिए । 3

How had a large number of new readers among children, women and workers increased in nineteenth century Europe ? Explain with examples.

**OR**

How were vernacular novels a valuable source of information on native life and customs for colonial administration ? Explain with examples.





10. देश के आर्थिक विकास की रीढ़ के रूप में विनिर्माण उद्योगों के महत्त्व का वर्णन कीजिए । 3
- अथवा**
- कृषि के विकास में उद्योगों के योगदान का वर्णन कीजिए । 3
- Describe the importance of manufacturing industries as a backbone of economic development of the country.
- OR**
- Describe the role of industries in the development of agriculture.
11. “संसाधन नियोजन एक जटिल प्रक्रिया है ।” तर्कों सहित इस कथन को न्यायसंगत ठहराइए । 3
- “Resource planning is a complex process.” Justify the statement with arguments.
12. राजनीति में जाति किस प्रकार अनेक रूप ले सकती है ? उदाहरणों सहित व्याख्या कीजिए । 3
- अथवा**
- हमारे देश में आज़ादी के बाद से महिलाओं की स्थिति में कैसे सुधार हुआ ? उदाहरणों सहित व्याख्या कीजिए । 3
- How can caste take various forms in politics ? Explain with examples.
- OR**
- How had the position of women improved in our country since independence ? Explain with examples.
13. “लोकतांत्रिक व्यवस्था की बड़ी सफलता नियमित और निष्पक्ष चुनावों में है ।” इस कथन का विश्लेषण कीजिए । 3
- “Democracies have had greater success in setting regular free and fair elections.” Analyse the statement.
14. “लोकतंत्र को मज़बूत करने की चुनौती हर लोकतांत्रिक व्यवस्था के सामने किसी न किसी रूप में है ।” उदाहरणों सहित कथन की पुष्टि कीजिए । 3
- “The challenge of deepening of democracy is faced by every democracy in one form or another.” Support the statement with examples.



15. हमें प्राकृतिक संसाधनों का उचित और विवेकपूर्वक ढंग से उपयोग क्यों करना चाहिए ? अपने विचारों को स्पष्ट कीजिए । 3

Why should we use natural resources properly and judiciously ? Explain your views.

16. अकेले कृषि क्षेत्र में ही अधिक रोज़गार कैसे उत्पन्न किए जा सकते हैं ? किन्हीं तीन उपायों की व्याख्या कीजिए । 1×3=3

**अथवा**

भारत में बेरोज़गारी की समस्या को कैसे दूर किया जा सकता है ? किन्हीं तीन उपायों की व्याख्या कीजिए । 3

How can more employment be created in agriculture sector alone ? Explain any three ways.

**OR**

How can the problem of unemployment be eradicated in India ? Explain any three ways.

17. “ऋण सकारात्मक भूमिका अदा कर सकता है ।” इस कथन को तर्क सहित न्यायसंगत ठहराइए । 3

**अथवा**

“ऋण नकारात्मक भूमिका अदा कर सकता है ।” इस कथन को तर्क सहित न्यायसंगत ठहराइए । 3

“Credit can play a positive role.” Justify the statement with arguments.

**OR**

“Credit can play a negative role.” Justify the statement with arguments.

18. भारत में विदेशी निवेश को आकर्षित करने के लिए केन्द्र व राज्य सरकारों द्वारा उठाए गए किन्हीं तीन कदमों का वर्णन कीजिए । 1×3=3

Describe any three steps taken by the Central and State governments to attract foreign investment in India.



खण्ड ग

SECTION C

19. महात्मा गाँधी के विचारों और स्वराज की अवधारणा के विषय में बाग़ान मज़दूरों की अपनी कैसी समझ थी ? व्याख्या कीजिए । 5

अथवा

भारत के विभिन्न भागों में किसानों और आदिवासियों ने 'असहयोग आंदोलन' में किस प्रकार भाग लिया ? व्याख्या कीजिए । 5

How did plantation workers have their own understanding of Mahatma Gandhi and the notion of Swaraj ? Explain.

OR

How had peasants and tribals participated in the 'Non-Cooperation Movement' in different parts of India ? Explain.

20. 1920 के प्रारंभिक दशक में किस प्रकार अमेरिकी अर्थव्यवस्था पुनः तेज़ी से तरक्की करने लगी ? उदाहरणों सहित व्याख्या कीजिए । 5

अथवा

उन्नीसवीं शताब्दी के दौरान इंग्लैंड में बाज़ार में श्रम की बहुतायत से मज़दूरों की ज़िंदगी कैसे प्रभावित हुई ? उदाहरणों सहित व्याख्या कीजिए । 5

अथवा

उन्नीसवीं शताब्दी में इंग्लैंड के घरों और कारखानों में कोयले के बड़े पैमाने पर इस्तेमाल से कैसे गंभीर समस्याएँ पैदा हो गई थीं ? उदाहरणों सहित व्याख्या कीजिए । 5

How had the U.S. economy resumed its strong growth in the early 1920s ? Explain with examples.

OR

How did the abundance of labour in the market affect the lives of workers in England during the nineteenth century ? Explain with examples.

OR

How had widespread use of coal in homes and industries in nineteenth century England raised serious problems ? Explain with examples.





21. भारत में उगाई गई दो प्रमुख रेशेदार फ़सलों के नाम लिखिए। इन दोनों फ़सलों को उगाने की आवश्यक दशाओं के साथ उनके उगाने के क्षेत्रों का वर्णन कीजिए। 1+2+2=5

Name the two major fibre crops grown in India. Describe the conditions required for growth of these two crops with their growing areas.

22. “किसी देश के अंतर्राष्ट्रीय व्यापार को आर्थिक बैरोमीटर कहा जाता है।” तर्कों सहित कथन को न्यायसंगत ठहराइए। 5

“International trade is considered the economic barometer of a country.” Justify the statement with arguments.

23. भारत जैसे विशाल देश में त्रि-स्तरीय सरकार के महत्त्व का वर्णन कीजिए। 1×5=5

**अथवा**

- संघवाद की किन्हीं पाँच विशेषताओं का वर्णन कीजिए। 1×5=5

Describe the importance of a third-tier of government in a vast country like India.

**OR**

Describe any five features of federalism.

24. निम्नलिखित दलों की राष्ट्रीय एवं क्षेत्रीय पार्टी के रूप में पहचान कर सूचीबद्ध कीजिए : 5

- (i) नेशनल काँग्रेस
- (ii) शिरोमणी अकाली दल
- (iii) डी.एम.के.
- (iv) राष्ट्रवादी काँग्रेस पार्टी
- (v) भारतीय जनता पार्टी
- (vi) शिव सेना
- (vii) फॉरवर्ड ब्लॉक
- (viii) जनता दल (यू)
- (ix) राष्ट्रीय जनता दल
- (x) समाजवादी पार्टी



Identify and list the following political parties as National and Regional political parties :

- (i) National Conference
- (ii) Shiromani Akali Dal
- (iii) D.M.K.
- (iv) Nationalist Congress Party
- (v) Bharatiya Janata Party
- (vi) Shiv Sena
- (vii) Forward Bloc
- (viii) Janata Dal (U)
- (ix) Rashtriya Janata Dal
- (x) Samajwadi Party

25. “बाज़ार में शोषण कई रूपों में होता है ।” स्पष्ट कीजिए ।

5

“Exploitation takes place in the market in various ways.” Explain.

### खण्ड घ

### SECTION D

26. (A) दो लक्षण 'a' और 'b' दिए गए **भारत** के राजनीतिक रेखा-मानचित्र (पृष्ठ 11 पर), में अंकित किए गए हैं । इन लक्षणों को निम्नलिखित जानकारी की सहायता से पहचानिए और उनके सही नाम उनके समीप खींची गई रेखाओं पर लिखिए : 1×2=2
- (a) वह स्थान जहाँ भारतीय राष्ट्रीय काँग्रेस का अधिवेशन हुआ ।
  - (b) वह स्थान जहाँ से नील की खेती करने वाले किसानों का आंदोलन प्रारंभ हुआ ।
- (B) इसी दिए गए **भारत** के राजनीतिक रेखा-मानचित्र में निम्नलिखित में से **किन्हीं तीन** को उपयुक्त चिह्नों से दर्शाइए और उनके नाम लिखिए : 1×3=3
- (i) हीराकुड – बाँध
  - (ii) कोच्चि – प्रमुख समुद्री पत्तन
  - (iii) सेलम – लोहा और इस्पात केन्द्र
  - (iv) हैदराबाद – सॉफ्टवेयर टेक्नोलॉजी पार्क
  - (v) नरौरा – आण्विक ऊर्जा संयंत्र



- (A) Two features 'a' and 'b' are marked on the given political outline map of **India** (on page 11). Identify these features with the help of the following information and write their correct names on the lines marked near them :
- (a) The place where the Indian National Congress session was held.
- (b) The place from where the movement of Indigo planters was started.
- (B) Locate and label **any three** of the following with appropriate symbols on the same given political outline map of **India** :
- (i) Hirakud – Dam
- (ii) Kochi – Major sea port
- (iii) Salem – Iron and Steel Centre
- (iv) Hyderabad – Software Technology Park
- (v) Naraura – Nuclear Power Plant

**नोट :** निम्नलिखित प्रश्न केवल दृष्टिबाधित परीक्षार्थियों के लिए प्रश्न संख्या 26 के स्थान पर हैं । किन्हीं पाँच प्रश्नों के उत्तर लिखिए :

**Note :** The following questions are for the **Visually Impaired Candidates** only, in lieu of Q. No. 26. Attempt **any five** questions :

- (26.1) उस राज्य का नाम लिखिए, जहाँ जलियाँवाला बाग घटना हुई ।
- (26.2) उस स्थान का नाम लिखिए, जहाँ नील की खेती करने वाले किसानों ने सत्याग्रह किया ।
- (26.3) गुजरात के उस स्थान का नाम लिखिए, जहाँ किसानों ने सत्याग्रह किया ।
- (26.4) उस राज्य का नाम लिखिए, जहाँ बेल्लारी लौह-अयस्क खानें स्थित हैं ।
- (26.5) उस राज्य का नाम लिखिए, जहाँ कोच्चि समुद्री पत्तन स्थित है ।
- (26.6) उस राज्य का नाम लिखिए, जहाँ नरौरा आण्विक संयंत्र स्थित है ।
- (26.7) उस राज्य का नाम लिखिए, जहाँ दुर्गापुर लोहा तथा इस्पात संयंत्र स्थित है ।  $1 \times 5 = 5$
- (26.1) Name the State where Jallianwala Bagh incident took place.
- (26.2) Name the place where the Indigo planters organised Satyagraha.
- (26.3) Name the place where the peasants started Satyagraha in Gujarat.
- (26.4) Name the State where Bellary Iron-ore mines are located.
- (26.5) Name the State where Kochchi Sea Port is located.
- (26.6) Name the State where Naraura Nuclear Power Plant is located.
- (26.7) Name the State where Durgapur Iron and Steel Plant is located.

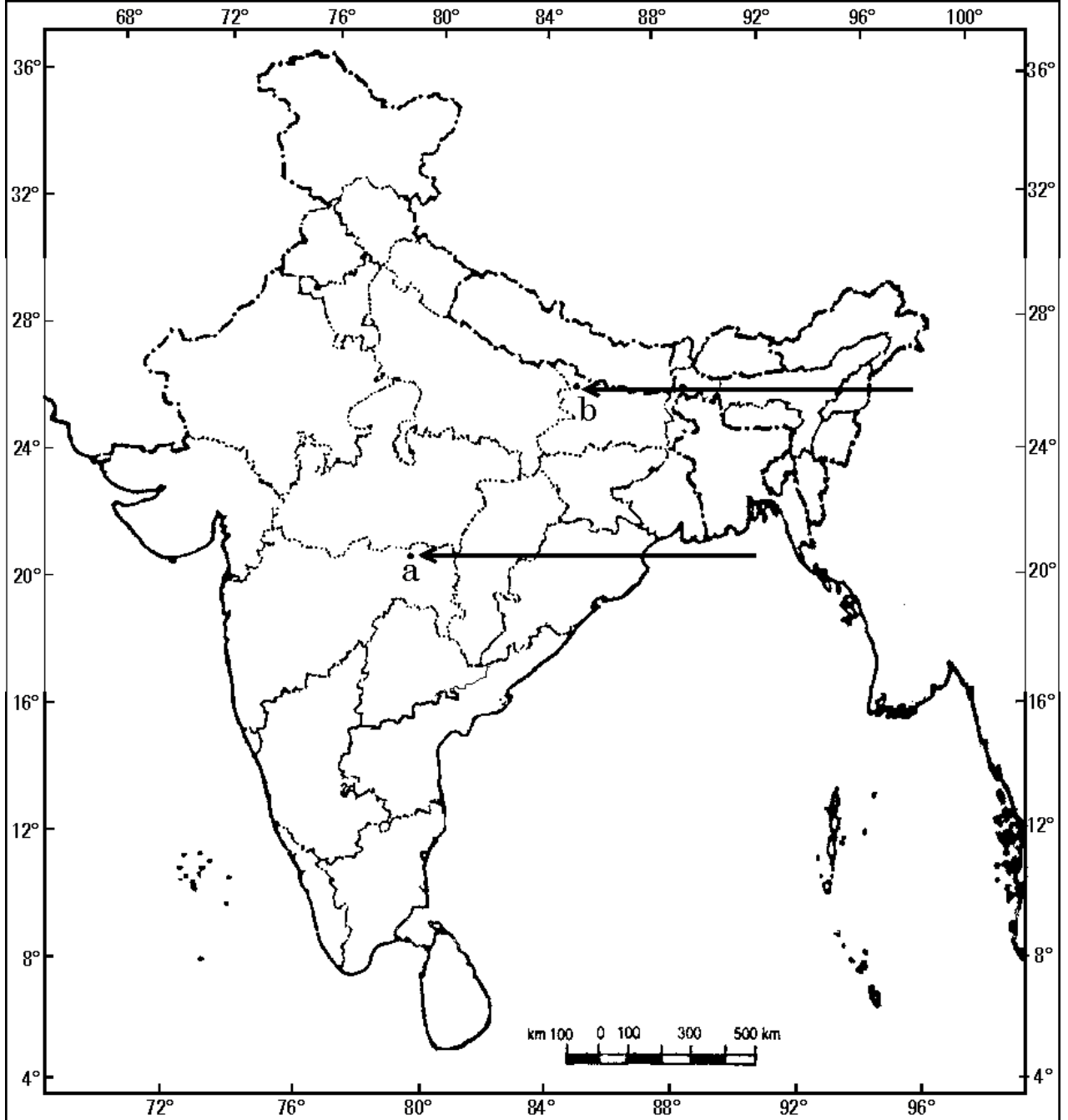




प्रश्न सं. 26 के लिए

For question no. 26

भारत का रेखा-मानचित्र (राजनीतिक)  
Outline Map of India (Political)



**SET-2****Series JMS/3**कोड नं. **32/3/2**  
Code No.रोल नं. 

--	--	--	--	--	--	--

  
Roll No.

परीक्षार्थी कोड को उत्तर-पुस्तिका के मुख-पृष्ठ पर अवश्य लिखें ।

Candidates must write the Code on the title page of the answer-book.

- कृपया जाँच कर लें कि इस प्रश्न-पत्र में मुद्रित पृष्ठ **10 + 1** मानचित्र हैं ।
- प्रश्न-पत्र में दाहिने हाथ की ओर दिए गए कोड नम्बर को छात्र उत्तर-पुस्तिका के मुख-पृष्ठ पर लिखें ।
- कृपया जाँच कर लें कि इस प्रश्न-पत्र में **26** प्रश्न हैं ।
- कृपया प्रश्न का उत्तर लिखना शुरू करने से पहले, प्रश्न का क्रमांक अवश्य लिखें ।
- इस प्रश्न-पत्र को पढ़ने के लिए 15 मिनट का समय दिया गया है । प्रश्न-पत्र का वितरण पूर्वाह्न में 10.15 बजे किया जाएगा । 10.15 बजे से 10.30 बजे तक छात्र केवल प्रश्न-पत्र को पढ़ेंगे और इस अवधि के दौरान वे उत्तर-पुस्तिका पर कोई उत्तर नहीं लिखेंगे ।
- Please check that this question paper contains **10** printed pages + **1** Map.
- Code number given on the right hand side of the question paper should be written on the title page of the answer-book by the candidate.
- Please check that this question paper contains **26** questions.
- **Please write down the Serial Number of the question before attempting it.**
- 15 minute time has been allotted to read this question paper. The question paper will be distributed at 10.15 a.m. From 10.15 a.m. to 10.30 a.m., the students will read the question paper only and will not write any answer on the answer-book during this period.

## सामाजिक विज्ञान

### SOCIAL SCIENCE

निर्धारित समय : 3 घण्टे  
Time allowed : 3 hoursअधिकतम अंक : 80  
Maximum Marks : 80



### सामान्य निर्देश :

- (i) इस प्रश्न-पत्र को चार खण्डों में विभाजित किया गया है। खण्ड क, खण्ड ख, खण्ड ग और खण्ड घ।
- (ii) इस प्रश्न-पत्र में कुल 26 प्रश्न हैं।
- (iii) सभी प्रश्न अनिवार्य हैं।
- (iv) प्रत्येक प्रश्न के अंक उसके सामने दिए गए हैं।
- (v) प्रश्न संख्या 1 से 7 तक अति लघु-उत्तरीय प्रश्न हैं। प्रत्येक प्रश्न 1 अंक का है।
- (vi) प्रश्न संख्या 8 से 18 तक प्रत्येक प्रश्न 3 अंक का है। इनमें से प्रत्येक प्रश्न का उत्तर 80 शब्दों से अधिक का नहीं होना चाहिए।
- (vii) प्रश्न संख्या 19 से 25 तक प्रत्येक प्रश्न 5 अंक का है। इनमें से प्रत्येक प्रश्न का उत्तर 100 शब्दों से अधिक का नहीं होना चाहिए।
- (viii) प्रश्न संख्या 26 मानचित्र प्रश्न 5 अंक का है। इसके दो भाग हैं – 26 (A) और 26 (B)। 26 (A) 2 अंक का इतिहास से तथा 26 (B) 3 अंक का भूगोल से है। मानचित्र का प्रश्न पूर्ण होने पर उसे अपनी उत्तर-पुस्तिका के अन्दर नत्थी कीजिए।

### General Instructions :

- (i) The question paper is divided into four sections – Section A, Section B, Section C and Section D.
- (ii) The question paper has 26 questions in all.
- (iii) All questions are **compulsory**.
- (iv) Marks are indicated against each question.
- (v) Questions from serial number 1 to 7 are Very Short Answer Type Questions. Each question carries 1 mark.
- (vi) Questions from serial number 8 to 18 are 3 marks questions. Answers to these questions should not exceed 80 words each.
- (vii) Questions from serial number 19 to 25 are 5 marks questions. Answers to these questions should not exceed 100 words each.
- (viii) Question number 26 is a map question of 5 marks with two parts 26 (A) and 26 (B) – 26 (A) from History (2 marks) and 26 (B) from Geography (3 marks). After completion, attach the map inside your answer-book.





खण्ड क

SECTION A

1. शहर के अमीर परिवार की एक लड़की के लिए विकास का लक्ष्य क्या हो सकता है ? 1

अथवा

एक सम्पन्न किसान के लिए विकास का लक्ष्य क्या हो सकता है ? 1

What may be a developmental goal of a girl who belongs to a rich urban family ?

OR

What may be a developmental goal of a rich farmer ?

2. झारखंड में खनन क्रियाएँ किस प्रकार भू-निम्नीकरण के लिए उत्तरदायी हैं ? 1

अथवा

गुजरात में अति पशुचारण भू-निम्नीकरण के लिए कैसे उत्तरदायी है ? 1

How are mining activities responsible for land degradation in Jharkhand ?

OR

How is overgrazing responsible for land degradation in Gujarat ?

3. मुद्रण युग से पूर्व भारत में पाण्डुलिपियाँ व्यापक उपयोग में क्यों नहीं थीं ? 1

अथवा

भारत में बीसवीं सदी के प्रारम्भिक दशकों में महिलाओं और बच्चों को उपन्यासों को पढ़ने से प्रायः हतोत्साहित क्यों किया गया ? 1

Why were manuscripts not widely used in India before the age of print ?

OR

Why were women and children often discouraged from reading novels in the early decades of the twentieth century in India ?

4. श्रीलंका में गृह युद्ध क्यों शुरू हुआ ? 1

Why did a civil war start in Sri Lanka ?

5. 1815 में अधिकतर 'रूढ़िवादी शासन व्यवस्थाओं' ने फ्रांसीसी क्रांति से जुड़ी मुद्रित सामग्री को नियंत्रित करने के लिए सेंसरशिप के नियम क्यों बनाए ? 1

अथवा

1907 में वियतनाम में 'टोंकिन फ्री स्कूल' क्यों खोला गया ? 1



Why did most of 'conservative regimes' impose censorship laws to control printed material associated with the French Revolution in 1815 ?

**OR**

Why was the "Tonkin Free School" established in Vietnam in 1907 ?

6. द्वितीयक क्षेत्रक की आर्थिक गतिविधियों के दो उदाहरण लिखिए ।  $\frac{1}{2} + \frac{1}{2} = 1$

Give two examples of economic activities of the secondary sector.

7. बहुराष्ट्रीय कम्पनियाँ किस प्रकार अन्य कम्पनियों से भिन्न हैं ? 1

In what way are MNCs different from other companies ?

**खण्ड ख**

**SECTION B**

8. भारत में विदेशी निवेश को आकर्षित करने के लिए केन्द्र व राज्य सरकारों द्वारा उठाए गए किन्हीं तीन कदमों का वर्णन कीजिए ।  $1 \times 3 = 3$

Describe any three steps taken by the Central and State governments to attract foreign investment in India.

9. "ऋण सकारात्मक भूमिका अदा कर सकता है ।" इस कथन को तर्क सहित न्यायसंगत ठहराइए । 3

**अथवा**

- "ऋण नकारात्मक भूमिका अदा कर सकता है ।" इस कथन को तर्क सहित न्यायसंगत ठहराइए । 3

"Credit can play a positive role." Justify the statement with arguments.

**OR**

"Credit can play a negative role." Justify the statement with arguments.

10. अकेले कृषि क्षेत्र में ही अधिक रोज़गार कैसे उत्पन्न किए जा सकते हैं ? किन्हीं तीन उपायों की व्याख्या कीजिए ।  $1 \times 3 = 3$

**अथवा**

- भारत में बेरोज़गारी की समस्या को कैसे दूर किया जा सकता है ? किन्हीं तीन उपायों की व्याख्या कीजिए । 3



How can more employment be created in agriculture sector alone ? Explain any three ways.

**OR**

How can the problem of unemployment be eradicated in India ? Explain any three ways.

11. “भारत में भूमि पर विभिन्न प्रकार की भू-आकृतियाँ पाई जाती हैं ।” तीन उदाहरण देकर कथन को न्यायसंगत ठहराइए । 1×3=3

“India has land under a variety of relief features.” Justify the statement with three examples.

12. हमें प्राकृतिक संसाधनों का उचित और विवेकपूर्वक ढंग से उपयोग क्यों करना चाहिए ? अपने विचारों को स्पष्ट कीजिए । 3

Why should we use natural resources properly and judiciously ? Explain your views.

13. ब्रिटेन कैसे राष्ट्र-राज्य के रूप में अस्तित्व में आया ? व्याख्या कीजिए । 3

**अथवा**

- वियतनाम में स्कूल कैसे राजनीतिक और सांस्कृतिक संघर्ष के अखाड़ों में बदल गए ? व्याख्या कीजिए । 3

How did Britain come into existence as a nation-state ? Explain.

**OR**

How had schools in Vietnam become an important place for political and cultural battles ? Explain.

14. “अधिकांश स्थापित लोकतांत्रिक व्यवस्थाओं के सामने लोकतंत्र के विस्तार की चुनौती है ।” उदाहरणों सहित कथन की पुष्टि कीजिए । 3

“Most of the established democracies face the challenge of expansion.” Support the statement with examples.





15. उन्नीसवीं शताब्दी में यूरोप में किस प्रकार बच्चों, महिलाओं और कामगारों के रूप में बड़ी संख्या में नए पाठक बढ़े ? उदाहरणों सहित व्याख्या कीजिए । 3

**अथवा**

औपनिवेशिक सरकार को देशी भाषाई उपन्यासों में देशी जीवन व रीति-रिवाजों से जुड़ी जानकारी का बहुमूल्य स्रोत कैसे नज़र आया ? उदाहरणों सहित व्याख्या कीजिए । 3

How had a large number of new readers among children, women and workers increased in nineteenth century Europe ? Explain with examples.

**OR**

How were vernacular novels a valuable source of information on native life and customs for colonial administration ? Explain with examples.

16. देश के आर्थिक विकास की रीढ़ के रूप में विनिर्माण उद्योगों के महत्त्व का वर्णन कीजिए । 3

**अथवा**

कृषि के विकास में उद्योगों के योगदान का वर्णन कीजिए । 3

Describe the importance of manufacturing industries as a backbone of economic development of the country.

**OR**

Describe the role of industries in the development of agriculture.

17. राजनीति में जाति किस प्रकार अनेक रूप ले सकती है ? उदाहरणों सहित व्याख्या कीजिए । 3

**अथवा**

हमारे देश में आज़ादी के बाद से महिलाओं की स्थिति में कैसे सुधार हुआ ? उदाहरणों सहित व्याख्या कीजिए । 3

How can caste take various forms in politics ? Explain with examples.

**OR**

How had the position of women improved in our country since independence ? Explain with examples.

18. “लोकतांत्रिक व्यवस्था की बड़ी सफलता नियमित और निष्पक्ष चुनावों में है ।” इस कथन का विश्लेषण कीजिए । 3

“Democracies have had greater success in setting regular free and fair elections.” Analyse the statement.



खण्ड ग

SECTION C

19. भारत जैसे विशाल देश में त्रि-स्तरीय सरकार के महत्त्व का वर्णन कीजिए । 1×5=5

अथवा

संघवाद की किन्हीं पाँच विशेषताओं का वर्णन कीजिए । 1×5=5

Describe the importance of a third-tier of government in a vast country like India.

OR

Describe any five features of federalism.

20. महात्मा गाँधी के विचारों और स्वराज की अवधारणा के विषय में बाग़ान मज़दूरों की अपनी कैसी समझ थी ? व्याख्या कीजिए । 5

अथवा

भारत के विभिन्न भागों में किसानों और आदिवासियों ने 'असहयोग आंदोलन' में किस प्रकार भाग लिया ? व्याख्या कीजिए । 5

How did plantation workers have their own understanding of Mahatma Gandhi and the notion of Swaraj ? Explain.

OR

How had peasants and tribals participated in the 'Non-Cooperation Movement' in different parts of India ? Explain.

21. भारतीय कृषि में सुधार के लिए भारत सरकार द्वारा किए गए किन्हीं पाँच प्रौद्योगिकीय एवं संस्थागत सुधारों का वर्णन कीजिए । 1×5=5

Describe any five technological and institutional reforms undertaken by the Government of India to improve Indian agriculture.



22. 1920 के प्रारंभिक दशक में किस प्रकार अमेरिकी अर्थव्यवस्था पुनः तेज़ी से तरक्की करने लगी ? उदाहरणों सहित व्याख्या कीजिए । 5

**अथवा**

उन्नीसवीं शताब्दी के दौरान इंग्लैंड में बाज़ार में श्रम की बहुतायत से मज़दूरों की ज़िंदगी कैसे प्रभावित हुई ? उदाहरणों सहित व्याख्या कीजिए । 5

**अथवा**

उन्नीसवीं शताब्दी में इंग्लैंड के घरों और कारखानों में कोयले के बड़े पैमाने पर इस्तेमाल से कैसे गंभीर समस्याएँ पैदा हो गई थीं ? उदाहरणों सहित व्याख्या कीजिए । 5

How had the U.S. economy resumed its strong growth in the early 1920s ? Explain with examples.

**OR**

How did the abundance of labour in the market affect the lives of workers in England during the nineteenth century ? Explain with examples.

**OR**

How had widespread use of coal in homes and industries in nineteenth century England raised serious problems ? Explain with examples.

23. “किसी देश के अंतर्राष्ट्रीय व्यापार को आर्थिक बैरोमीटर कहा जाता है ।” तर्कों सहित कथन को न्यायसंगत ठहराइए । 5

“International trade is considered the economic barometer of a country.” Justify the statement with arguments.

24. निम्नलिखित राजनीतिक दलों के चुनाव चिह्नों एवं उनसे सम्बन्धित राज्यों की सूची बनाइए :  $1 \times 5 = 5$

- (i) शिरोमणी अकाली दल
- (ii) समाजवादी पार्टी
- (iii) ए.आई.ए.डी.एम.के.
- (iv) तृणमूल काँग्रेस
- (v) राष्ट्रीय जनता दल

Identify and list the symbols of the following political parties with their States :

- (i) Shiromani Akali Dal
- (ii) Samajwadi Party
- (iii) A.I.A.D.M.K.
- (iv) Trinamool Congress
- (v) Rashtriya Janata Dal





25. “उपभोक्ताओं को अनुचित सौदेबाज़ी और शोषण के विरुद्ध क्षतिपूर्ति निवारण का अधिकार है।” कथन की पुष्टि कीजिए।

5

“Consumers have the right to seek redressal against unfair trade practices and exploitation.” Support the statement.

### खण्ड घ

### SECTION D

26. (A) दो लक्षण 'a' और 'b' दिए गए **भारत** के राजनीतिक रेखा-मानचित्र (पृष्ठ 11 पर), में अंकित किए गए हैं। इन लक्षणों को निम्नलिखित जानकारी की सहायता से पहचानिए और उनके सही नाम उनके समीप खींची गई रेखाओं पर लिखिए :  $1 \times 2 = 2$
- (a) वह स्थान जहाँ भारतीय राष्ट्रीय काँग्रेस का अधिवेशन हुआ।
- (b) वह स्थान जहाँ से नील की खेती करने वाले किसानों का आंदोलन प्रारंभ हुआ।
- (B) इसी दिए गए **भारत** के राजनीतिक रेखा-मानचित्र में निम्नलिखित में से **किन्हीं तीन** को उपयुक्त चिह्नों से दर्शाइए और उनके नाम लिखिए :  $1 \times 3 = 3$
- (i) हीराकुड – बाँध
- (ii) कोच्चि – प्रमुख समुद्री पत्तन
- (iii) सेलम – लोहा और इस्पात केन्द्र
- (iv) हैदराबाद – सॉफ्टवेयर टेक्नोलॉजी पार्क
- (v) नरौरा – आण्विक ऊर्जा संयंत्र
- (A) Two features 'a' and 'b' are marked on the given political outline map of **India** (on page 11). Identify these features with the help of the following information and write their correct names on the lines marked near them :
- (a) The place where the Indian National Congress session was held.
- (b) The place from where the movement of Indigo planters was started.



(B) Locate and label **any three** of the following with appropriate symbols on the same given political outline map of **India** :

- (i) Hirakud – Dam
- (ii) Kochi – Major sea port
- (iii) Salem – Iron and Steel Centre
- (iv) Hyderabad – Software Technology Park
- (v) Naraura – Nuclear Power Plant

**नोट :** निम्नलिखित प्रश्न केवल दृष्टिबाधित परीक्षार्थियों के लिए प्रश्न संख्या 26 के स्थान पर हैं। किन्हीं पाँच प्रश्नों के उत्तर लिखिए :

**Note :** The following questions are for the **Visually Impaired Candidates** only, in lieu of Q. No. 26. Attempt **any five** questions :

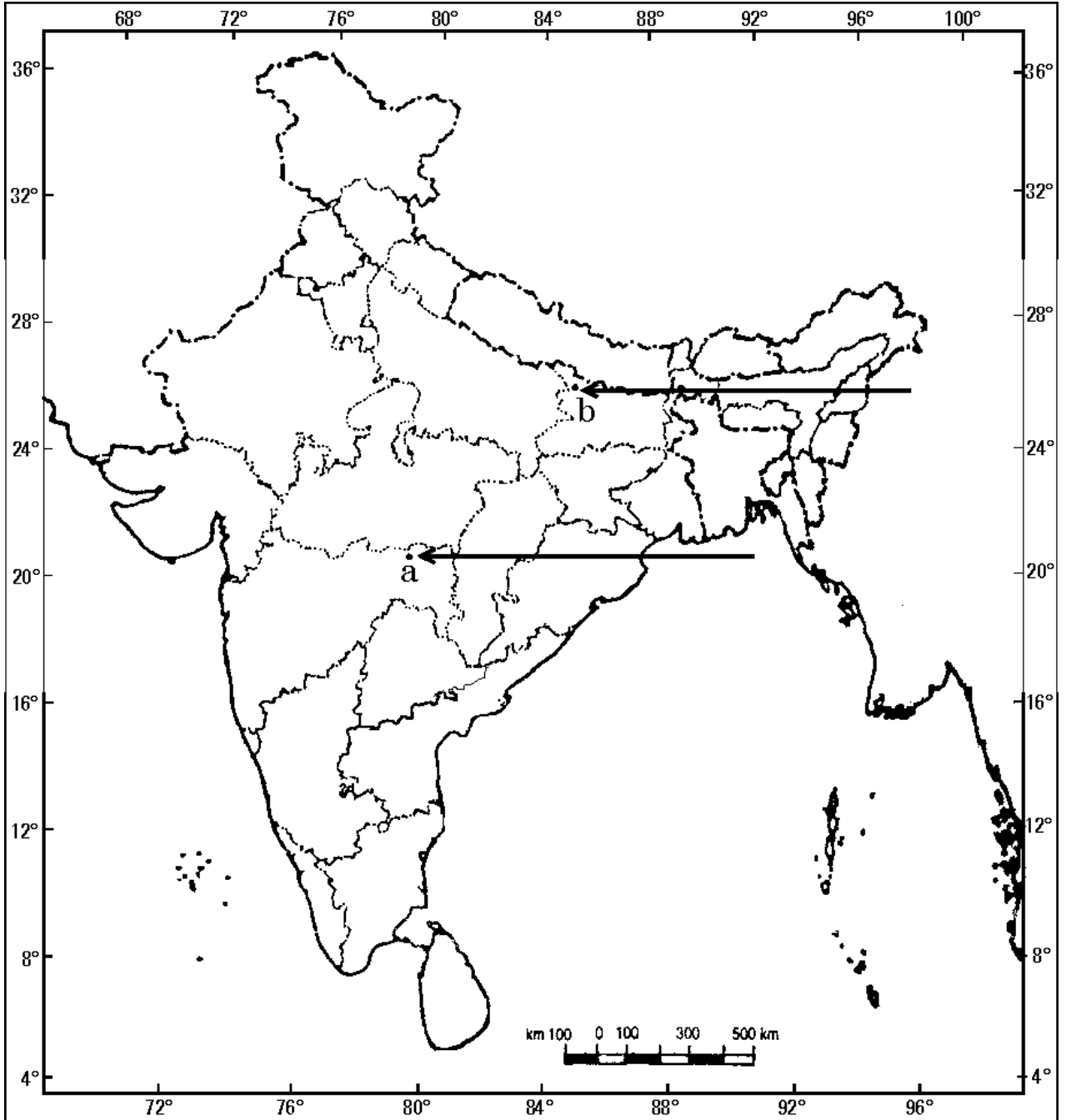
- (26.1) उस राज्य का नाम लिखिए, जहाँ जलियाँवाला बाग घटना हुई।
  - (26.2) उस स्थान का नाम लिखिए, जहाँ नील की खेती करने वाले किसानों ने सत्याग्रह किया।
  - (26.3) गुजरात के उस स्थान का नाम लिखिए, जहाँ किसानों ने सत्याग्रह किया।
  - (26.4) उस राज्य का नाम लिखिए, जहाँ बेल्लारी लौह-अयस्क खानें स्थित हैं।
  - (26.5) उस राज्य का नाम लिखिए, जहाँ कोच्चि समुद्री पत्तन स्थित है।
  - (26.6) उस राज्य का नाम लिखिए, जहाँ नरौरा आण्विक संयंत्र स्थित है।
  - (26.7) उस राज्य का नाम लिखिए, जहाँ दुर्गापुर लोहा तथा इस्पात संयंत्र स्थित है।  $1 \times 5 = 5$
- (26.1) Name the State where Jallianwala Bagh incident took place.
  - (26.2) Name the place where the Indigo planters organised Satyagraha.
  - (26.3) Name the place where the peasants started Satyagraha in Gujarat.
  - (26.4) Name the State where Bellary Iron-ore mines are located.
  - (26.5) Name the State where Kochchi Sea Port is located.
  - (26.6) Name the State where Naraura Nuclear Power Plant is located.
  - (26.7) Name the State where Durgapur Iron and Steel Plant is located.



प्रश्न सं. 26 के लिए

For question no. 26

भारत का रेखा-मानचित्र (राजनीतिक)  
Outline Map of India (Political)





**SET-3****Series JMS/3**कोड नं. **32/3/3**  
Code No.रोल नं. 

--	--	--	--	--	--	--

  
Roll No.

परीक्षार्थी कोड को उत्तर-पुस्तिका के मुख-पृष्ठ पर अवश्य लिखें ।

Candidates must write the Code on the title page of the answer-book.

- कृपया जाँच कर लें कि इस प्रश्न-पत्र में मुद्रित पृष्ठ **10 + 1** मानचित्र हैं ।
- प्रश्न-पत्र में दाहिने हाथ की ओर दिए गए कोड नम्बर को छात्र उत्तर-पुस्तिका के मुख-पृष्ठ पर लिखें ।
- कृपया जाँच कर लें कि इस प्रश्न-पत्र में **26** प्रश्न हैं ।
- कृपया प्रश्न का उत्तर लिखना शुरू करने से पहले, प्रश्न का क्रमांक अवश्य लिखें ।
- इस प्रश्न-पत्र को पढ़ने के लिए 15 मिनट का समय दिया गया है । प्रश्न-पत्र का वितरण पूर्वाह्न में 10.15 बजे किया जाएगा । 10.15 बजे से 10.30 बजे तक छात्र केवल प्रश्न-पत्र को पढ़ेंगे और इस अवधि के दौरान वे उत्तर-पुस्तिका पर कोई उत्तर नहीं लिखेंगे ।
- Please check that this question paper contains **10** printed pages + **1** Map.
- Code number given on the right hand side of the question paper should be written on the title page of the answer-book by the candidate.
- Please check that this question paper contains **26** questions.
- **Please write down the Serial Number of the question before attempting it.**
- 15 minute time has been allotted to read this question paper. The question paper will be distributed at 10.15 a.m. From 10.15 a.m. to 10.30 a.m., the students will read the question paper only and will not write any answer on the answer-book during this period.

## सामाजिक विज्ञान

### SOCIAL SCIENCE

निर्धारित समय : 3 घण्टे  
Time allowed : 3 hoursअधिकतम अंक : 80  
Maximum Marks : 80



### सामान्य निर्देश :

- (i) इस प्रश्न-पत्र को चार खण्डों में विभाजित किया गया है। खण्ड क, खण्ड ख, खण्ड ग और खण्ड घ।
- (ii) इस प्रश्न-पत्र में कुल 26 प्रश्न हैं।
- (iii) सभी प्रश्न अनिवार्य हैं।
- (iv) प्रत्येक प्रश्न के अंक उसके सामने दिए गए हैं।
- (v) प्रश्न संख्या 1 से 7 तक अति लघु-उत्तरीय प्रश्न हैं। प्रत्येक प्रश्न 1 अंक का है।
- (vi) प्रश्न संख्या 8 से 18 तक प्रत्येक प्रश्न 3 अंक का है। इनमें से प्रत्येक प्रश्न का उत्तर 80 शब्दों से अधिक का नहीं होना चाहिए।
- (vii) प्रश्न संख्या 19 से 25 तक प्रत्येक प्रश्न 5 अंक का है। इनमें से प्रत्येक प्रश्न का उत्तर 100 शब्दों से अधिक का नहीं होना चाहिए।
- (viii) प्रश्न संख्या 26 मानचित्र प्रश्न 5 अंक का है। इसके दो भाग हैं – 26 (A) और 26 (B)। 26 (A) 2 अंक का इतिहास से तथा 26 (B) 3 अंक का भूगोल से है। मानचित्र का प्रश्न पूर्ण होने पर उसे अपनी उत्तर-पुस्तिका के अन्दर नत्थी कीजिए।

### General Instructions :

- (i) The question paper is divided into four sections – Section A, Section B, Section C and Section D.
- (ii) The question paper has 26 questions in all.
- (iii) All questions are **compulsory**.
- (iv) Marks are indicated against each question.
- (v) Questions from serial number 1 to 7 are Very Short Answer Type Questions. Each question carries 1 mark.
- (vi) Questions from serial number 8 to 18 are 3 marks questions. Answers to these questions should not exceed 80 words each.
- (vii) Questions from serial number 19 to 25 are 5 marks questions. Answers to these questions should not exceed 100 words each.
- (viii) Question number 26 is a map question of 5 marks with two parts 26 (A) and 26 (B) – 26 (A) from History (2 marks) and 26 (B) from Geography (3 marks). After completion, attach the map inside your answer-book.



## खण्ड क

### SECTION A

1. झारखंड में खनन क्रियाएँ किस प्रकार भू-निम्नीकरण के लिए उत्तरदायी हैं ? 1
- अथवा**
- गुजरात में अति पशुचारण भू-निम्नीकरण के लिए कैसे उत्तरदायी है ? 1
- How are mining activities responsible for land degradation in Jharkhand ?
- OR**
- How is overgrazing responsible for land degradation in Gujarat ?
2. शहर के अमीर परिवार की एक लड़की के लिए विकास का लक्ष्य क्या हो सकता है ? 1
- अथवा**
- एक सम्पन्न किसान के लिए विकास का लक्ष्य क्या हो सकता है ? 1
- What may be a developmental goal of a girl who belongs to a rich urban family ?
- OR**
- What may be a developmental goal of a rich farmer ?
3. 1815 में अधिकतर 'रूढ़िवादी शासन व्यवस्थाओं' ने फ्रांसीसी क्रांति से जुड़ी मुद्रित सामग्री को नियंत्रित करने के लिए सेंसरशिप के नियम क्यों बनाए ? 1
- अथवा**
- 1907 में वियतनाम में 'टोंकिन फ्री स्कूल' क्यों खोला गया ? 1
- Why did most of 'conservative regimes' impose censorship laws to control printed material associated with the French Revolution in 1815 ?
- OR**
- Why was the 'Tonkin Free School' established in Vietnam in 1907 ?
4. डच और फ्रेंच बोलने वाले लोगों को बेल्जियम में 'सामुदायिक' सरकार में समायोजित कैसे किया गया ? 1
- How were Dutch and French speaking people accommodated in the 'Community' Government in Belgium ?
5. मुद्रण युग से पूर्व भारत में पाण्डुलिपियाँ व्यापक उपयोग में क्यों नहीं थीं ? 1
- अथवा**
- भारत में बीसवीं सदी के प्रारम्भिक दशकों में महिलाओं और बच्चों को उपन्यासों को पढ़ने से प्रायः हतोत्साहित क्यों किया गया ? 1





Why were manuscripts not widely used in India before the age of print ?

**OR**

Why were women and children often discouraged from reading novels in the early decades of the twentieth century in India ?

6. तृतीयक क्षेत्रक द्वारा प्रदान की गई किन्हीं दो मूलभूत सेवाओं के उदाहरण लिखिए ।  $\frac{1}{2} + \frac{1}{2} = 1$

State any two examples of the basic services provided by the tertiary sector.

7. किन्हीं दो बड़ी भारतीय कम्पनियों के नाम लिखिए, जो बहुराष्ट्रीय कम्पनियों के रूप में उभरी हैं ।  $\frac{1}{2} + \frac{1}{2} = 1$

Name any two large Indian companies that emerged as multinational companies.

**खण्ड ख**

**SECTION B**

8. हमें प्राकृतिक संसाधनों का उचित और विवेकपूर्वक ढंग से उपयोग क्यों करना चाहिए ? अपने विचारों को स्पष्ट कीजिए । 3

Why should we use natural resources properly and judiciously ? Explain your views.

9. अकेले कृषि क्षेत्र में ही अधिक रोज़गार कैसे उत्पन्न किए जा सकते हैं ? किन्हीं तीन उपायों की व्याख्या कीजिए ।  $1 \times 3 = 3$

**अथवा**

भारत में बेरोज़गारी की समस्या को कैसे दूर किया जा सकता है ? किन्हीं तीन उपायों की व्याख्या कीजिए । 3

How can more employment be created in agriculture sector alone ? Explain any three ways.

**OR**

How can the problem of unemployment be eradicated in India ? Explain any three ways.



10. “ऋण सकारात्मक भूमिका अदा कर सकता है ।” इस कथन को तर्क सहित न्यायसंगत ठहराइए । 3

**अथवा**

“ऋण नकारात्मक भूमिका अदा कर सकता है ।” इस कथन को तर्क सहित न्यायसंगत ठहराइए । 3

“Credit can play a positive role.” Justify the statement with arguments.

**OR**

“Credit can play a negative role.” Justify the statement with arguments.

11. “मानव कार्यकलापों ने भूमि के निम्नीकरण में मुख्य भूमिका निभाई है ।” तीन उदाहरण देकर कथन को न्यायसंगत ठहराइए । 1×3=3

“Human activities have contributed significantly in land degradation.” Justify the statement with three examples.

12. भारत में विदेशी निवेश को आकर्षित करने के लिए केन्द्र व राज्य सरकारों द्वारा उठाए गए किन्हीं तीन कदमों का वर्णन कीजिए । 1×3=3

Describe any three steps taken by the Central and State governments to attract foreign investment in India.

13. राजनीति में जाति किस प्रकार अनेक रूप ले सकती है ? उदाहरणों सहित व्याख्या कीजिए । 3

**अथवा**

हमारे देश में आज़ादी के बाद से महिलाओं की स्थिति में कैसे सुधार हुआ ? उदाहरणों सहित व्याख्या कीजिए । 3

How can caste take various forms in politics ? Explain with examples.

**OR**

How had the position of women improved in our country since independence ? Explain with examples.

14. “कानून बनाकर राजनीति को सुधारने की सोच पर लगाम लगाने की ज़रूरत है ।” कथन की पुष्टि उदाहरण देकर कीजिए । 3

“Legal ways of reforming politics need to be resisted.” Support the statement with examples.



15. “लोकतांत्रिक व्यवस्था की बड़ी सफलता नियमित और निष्पक्ष चुनावों में है।” इस कथन का विश्लेषण कीजिए। 3

“Democracies have had greater success in setting regular free and fair elections.” Analyse the statement.

16. ब्रिटेन कैसे राष्ट्र-राज्य के रूप में अस्तित्व में आया ? व्याख्या कीजिए। 3

**अथवा**

वियतनाम में स्कूल कैसे राजनीतिक और सांस्कृतिक संघर्ष के अखाड़ों में बदल गए ? व्याख्या कीजिए। 3

How did Britain come into existence as a nation-state ? Explain.

**OR**

How had schools in Vietnam become an important place for political and cultural battles ? Explain.

17. उन्नीसवीं शताब्दी में यूरोप में किस प्रकार बच्चों, महिलाओं और कामगारों के रूप में बड़ी संख्या में नए पाठक बढ़े ? उदाहरणों सहित व्याख्या कीजिए। 3

**अथवा**

औपनिवेशिक सरकार को देशी भाषाई उपन्यासों में देशी जीवन व रीति-रिवाजों से जुड़ी जानकारी का बहुमूल्य स्रोत कैसे नज़र आया ? उदाहरणों सहित व्याख्या कीजिए। 3

How had a large number of new readers among children, women and workers increased in nineteenth century Europe ? Explain with examples.

**OR**

How were vernacular novels a valuable source of information on native life and customs for colonial administration ? Explain with examples.

18. देश के आर्थिक विकास की रीढ़ के रूप में विनिर्माण उद्योगों के महत्त्व का वर्णन कीजिए। 3

**अथवा**

कृषि के विकास में उद्योगों के योगदान का वर्णन कीजिए। 3

Describe the importance of manufacturing industries as a backbone of economic development of the country.

**OR**

Describe the role of industries in the development of agriculture.



खण्ड ग

SECTION C

19. “किसी देश के अंतर्राष्ट्रीय व्यापार को आर्थिक बैरोमीटर कहा जाता है ।” तर्कों सहित कथन को न्यायसंगत ठहराइए । 5

“International trade is considered the economic barometer of a country.”  
Justify the statement with arguments.

20. भारत जैसे विशाल देश में त्रि-स्तरीय सरकार के महत्त्व का वर्णन कीजिए । 1×5=5

अथवा

संघवाद की किन्हीं पाँच विशेषताओं का वर्णन कीजिए । 1×5=5

Describe the importance of a third-tier of government in a vast country like India.

OR

Describe any five features of federalism.

21. वाणिज्यिक कृषि की किन्हीं पाँच विशेषताओं का वर्णन कीजिए । 1×5=5

Describe any five features of commercial farming.

22. महात्मा गाँधी के विचारों और स्वराज की अवधारणा के विषय में बाग़ान मज़दूरों की अपनी कैसी समझ थी ? व्याख्या कीजिए । 5

अथवा

भारत के विभिन्न भागों में किसानों और आदिवासियों ने ‘असहयोग आंदोलन’ में किस प्रकार भाग लिया ? व्याख्या कीजिए । 5

How did plantation workers have their own understanding of Mahatma Gandhi and the notion of Swaraj ? Explain.

OR

How had peasants and tribals participated in the ‘Non-Cooperation Movement’ in different parts of India ? Explain.





23. 1920 के प्रारंभिक दशक में किस प्रकार अमेरिकी अर्थव्यवस्था पुनः तेज़ी से तरक्की करने लगी ? उदाहरणों सहित व्याख्या कीजिए ।

5

**अथवा**

उन्नीसवीं शताब्दी के दौरान इंग्लैंड में बाज़ार में श्रम की बहुतायत से मज़दूरों की ज़िंदगी कैसे प्रभावित हुई ? उदाहरणों सहित व्याख्या कीजिए ।

5

**अथवा**

उन्नीसवीं शताब्दी में इंग्लैंड के घरों और कारखानों में कोयले के बड़े पैमाने पर इस्तेमाल से कैसे गंभीर समस्याएँ पैदा हो गई थीं ? उदाहरणों सहित व्याख्या कीजिए ।

5

How had the U.S. economy resumed its strong growth in the early 1920s ? Explain with examples.

**OR**

How did the abundance of labour in the market affect the lives of workers in England during the nineteenth century ? Explain with examples.

**OR**

How had widespread use of coal in homes and industries in nineteenth century England raised serious problems ? Explain with examples.

24. पाँच राज्यों के नाम नीचे दिए गए हैं । इनमें से प्रत्येक राज्य के किसी एक क्षेत्रीय राजनीतिक दल को उसके चुनाव चिह्न सहित लिखिए ।

1×5=5

- (i) जम्मू-कश्मीर
- (ii) तमिलनाडु
- (iii) महाराष्ट्र
- (iv) असम
- (v) उत्तर प्रदेश

Names of five States are given below. Write the name of any one regional political party of each State with election symbol.

- (i) Jammu & Kashmir
- (ii) Tamil Nadu
- (iii) Maharashtra
- (iv) Assam
- (v) Uttar Pradesh



25. “उपभोक्ताओं को वस्तुओं के विपणन और सेवाओं की प्राप्ति के खिलाफ सुरक्षित रहने का अधिकार होता है।” कथन की पुष्टि कीजिए।

5

“Consumers have the right to be protected against the marketing of goods and services.” Support the statement.

### खण्ड घ

### SECTION D

26. (A) दो लक्षण 'a' और 'b' दिए गए **भारत** के राजनीतिक रेखा-मानचित्र (पृष्ठ 11 पर), में अंकित किए गए हैं। इन लक्षणों को निम्नलिखित जानकारी की सहायता से पहचानिए और उनके सही नाम उनके समीप खींची गई रेखाओं पर लिखिए :  $1 \times 2 = 2$
- (a) वह स्थान जहाँ भारतीय राष्ट्रीय कांग्रेस का अधिवेशन हुआ।
- (b) वह स्थान जहाँ से नील की खेती करने वाले किसानों का आंदोलन प्रारंभ हुआ।
- (B) इसी दिए गए **भारत** के राजनीतिक रेखा-मानचित्र में निम्नलिखित में से **किन्हीं तीन** को उपयुक्त चिह्नों से दर्शाइए और उनके नाम लिखिए :  $1 \times 3 = 3$
- (i) हीराकुड – बाँध
- (ii) कोच्चि – प्रमुख समुद्री पत्तन
- (iii) सेलम – लोहा और इस्पात केन्द्र
- (iv) हैदराबाद – सॉफ्टवेयर टेक्नोलॉजी पार्क
- (v) नरौरा – आण्विक ऊर्जा संयंत्र
- (A) Two features 'a' and 'b' are marked on the given political outline map of **India** (on page 11). Identify these features with the help of the following information and write their correct names on the lines marked near them :
- (a) The place where the Indian National Congress session was held.
- (b) The place from where the movement of Indigo planters was started.



(B) Locate and label **any three** of the following with appropriate symbols on the same given political outline map of **India** :

- (i) Hirakud – Dam
- (ii) Kochi – Major sea port
- (iii) Salem – Iron and Steel Centre
- (iv) Hyderabad – Software Technology Park
- (v) Naraura – Nuclear Power Plant

**नोट :** निम्नलिखित प्रश्न केवल दृष्टिबाधित परीक्षार्थियों के लिए प्रश्न संख्या 26 के स्थान पर हैं। किन्हीं पाँच प्रश्नों के उत्तर लिखिए :

**Note :** The following questions are for the **Visually Impaired Candidates** only, in lieu of Q. No. 26. Attempt **any five** questions :

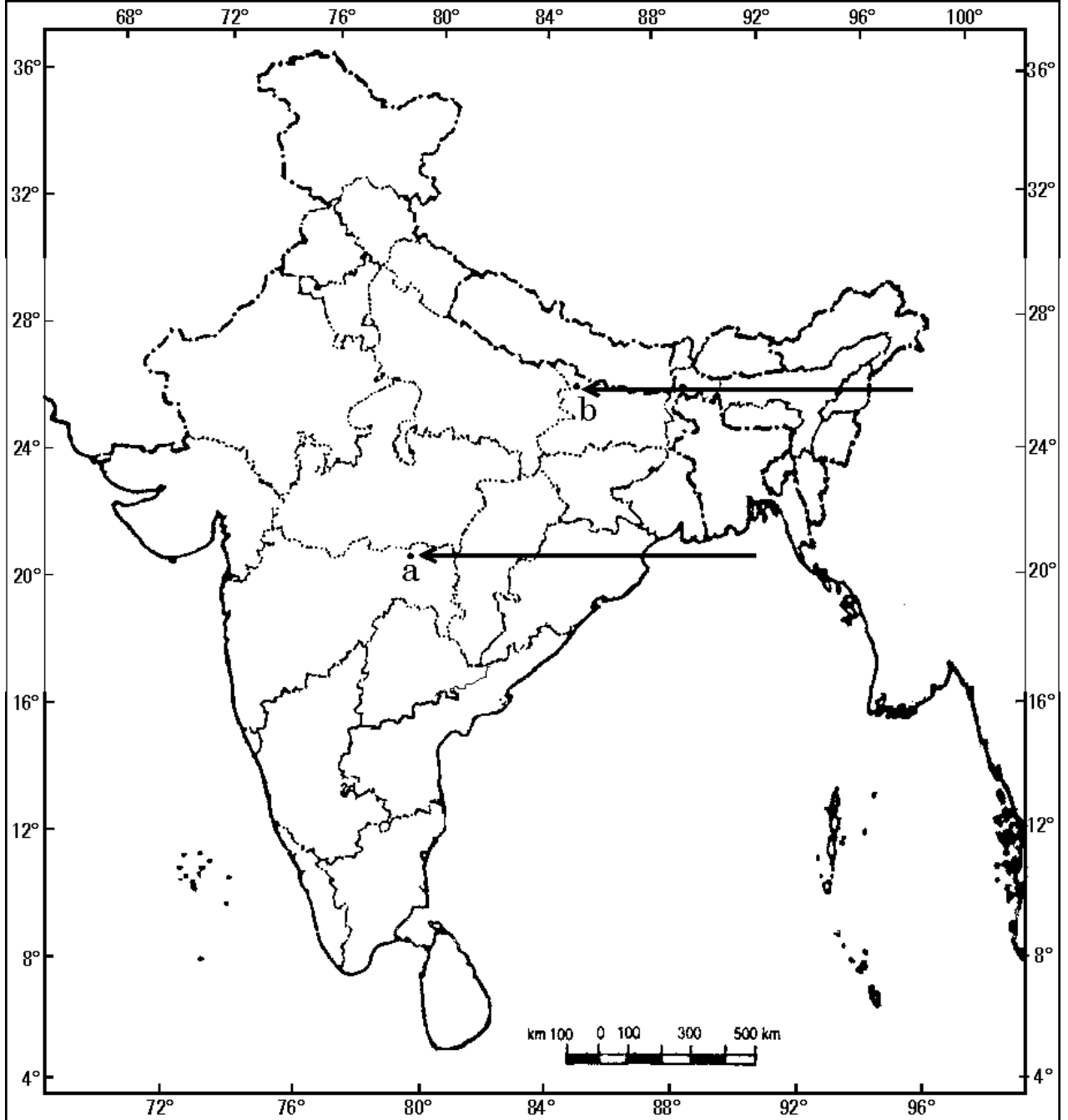
- (26.1) उस राज्य का नाम लिखिए, जहाँ जलियाँवाला बाग घटना हुई।
  - (26.2) उस स्थान का नाम लिखिए, जहाँ नील की खेती करने वाले किसानों ने सत्याग्रह किया।
  - (26.3) गुजरात के उस स्थान का नाम लिखिए, जहाँ किसानों ने सत्याग्रह किया।
  - (26.4) उस राज्य का नाम लिखिए, जहाँ बेल्लारी लौह-अयस्क खानें स्थित हैं।
  - (26.5) उस राज्य का नाम लिखिए, जहाँ कोच्चि समुद्री पत्तन स्थित है।
  - (26.6) उस राज्य का नाम लिखिए, जहाँ नरौरा आण्विक संयंत्र स्थित है।
  - (26.7) उस राज्य का नाम लिखिए, जहाँ दुर्गापुर लोहा तथा इस्पात संयंत्र स्थित है।  $1 \times 5 = 5$
- (26.1) Name the State where Jallianwala Bagh incident took place.
  - (26.2) Name the place where the Indigo planters organised Satyagraha.
  - (26.3) Name the place where the peasants started Satyagraha in Gujarat.
  - (26.4) Name the State where Bellary Iron-ore mines are located.
  - (26.5) Name the State where Kochchi Sea Port is located.
  - (26.6) Name the State where Naraura Nuclear Power Plant is located.
  - (26.7) Name the State where Durgapur Iron and Steel Plant is located.



प्रश्न सं. 26 के लिए

For question no. 26

भारत का रेखा-मानचित्र (राजनीतिक)  
Outline Map of India (Political)





**SET-1****Series JMS/4**कोड नं. **32/4/1**  
Code No.रोल नं. 

--	--	--	--	--	--	--

  
Roll No.

परीक्षार्थी कोड को उत्तर-पुस्तिका के मुख-पृष्ठ पर अवश्य लिखें ।

Candidates must write the Code on the title page of the answer-book.

- कृपया जाँच कर लें कि इस प्रश्न-पत्र में मुद्रित पृष्ठ **10 + 1** मानचित्र हैं ।
- प्रश्न-पत्र में दाहिने हाथ की ओर दिए गए कोड नम्बर को छात्र उत्तर-पुस्तिका के मुख-पृष्ठ पर लिखें ।
- कृपया जाँच कर लें कि इस प्रश्न-पत्र में **26** प्रश्न हैं ।
- कृपया प्रश्न का उत्तर लिखना शुरू करने से पहले, प्रश्न का क्रमांक अवश्य लिखें ।
- इस प्रश्न-पत्र को पढ़ने के लिए 15 मिनट का समय दिया गया है । प्रश्न-पत्र का वितरण पूर्वाह्न में 10.15 बजे किया जाएगा । 10.15 बजे से 10.30 बजे तक छात्र केवल प्रश्न-पत्र को पढ़ेंगे और इस अवधि के दौरान वे उत्तर-पुस्तिका पर कोई उत्तर नहीं लिखेंगे ।
- Please check that this question paper contains **10** printed pages + **1** Map.
- Code number given on the right hand side of the question paper should be written on the title page of the answer-book by the candidate.
- Please check that this question paper contains **26** questions.
- **Please write down the Serial Number of the question before attempting it.**
- 15 minute time has been allotted to read this question paper. The question paper will be distributed at 10.15 a.m. From 10.15 a.m. to 10.30 a.m., the students will read the question paper only and will not write any answer on the answer-book during this period.

## सामाजिक विज्ञान

### SOCIAL SCIENCE

निर्धारित समय : 3 घण्टे  
Time allowed : 3 hoursअधिकतम अंक : 80  
Maximum Marks : 80



### सामान्य निर्देश :

- (i) इस प्रश्न-पत्र को चार खण्डों में विभाजित किया गया है। खण्ड क, खण्ड ख, खण्ड ग और खण्ड घ।
- (ii) इस प्रश्न-पत्र में कुल 26 प्रश्न हैं।
- (iii) सभी प्रश्न अनिवार्य हैं।
- (iv) प्रत्येक प्रश्न के अंक उसके सामने दिए गए हैं।
- (v) प्रश्न संख्या 1 से 7 तक अति लघु-उत्तरीय प्रश्न हैं। प्रत्येक प्रश्न 1 अंक का है।
- (vi) प्रश्न संख्या 8 से 18 तक प्रत्येक प्रश्न 3 अंक का है। इनमें से प्रत्येक प्रश्न का उत्तर 80 शब्दों से अधिक का नहीं होना चाहिए।
- (vii) प्रश्न संख्या 19 से 25 तक प्रत्येक प्रश्न 5 अंक का है। इनमें से प्रत्येक प्रश्न का उत्तर 100 शब्दों से अधिक का नहीं होना चाहिए।
- (viii) प्रश्न संख्या 26 मानचित्र प्रश्न 5 अंक का है। इसके दो भाग हैं – 26 (A) और 26 (B)। 26 (A) 2 अंक का इतिहास से तथा 26 (B) 3 अंक का भूगोल से है। मानचित्र का प्रश्न पूर्ण होने पर उसे अपनी उत्तर-पुस्तिका के अन्दर नत्थी कीजिए।

### General Instructions :

- (i) The question paper is divided into four sections – Section A, Section B, Section C and Section D.
- (ii) The question paper has 26 questions in all.
- (iii) All questions are **compulsory**.
- (iv) Marks are indicated against each question.
- (v) Questions from serial number 1 to 7 are Very Short Answer Type Questions. Each question carries 1 mark.
- (vi) Questions from serial number 8 to 18 are 3 marks questions. Answers to these questions should not exceed 80 words each.
- (vii) Questions from serial number 19 to 25 are 5 marks questions. Answers to these questions should not exceed 100 words each.
- (viii) Question number 26 is a map question of 5 marks with two parts 26 (A) and 26 (B) – 26 (A) from History (2 marks) and 26 (B) from Geography (3 marks). After completion, attach the map inside your answer-book.



**खण्ड क**  
**SECTION A**

1. 1848 में फ्रेडरिक सॉर्यू ने अपने चित्रों में स्वप्नदर्शी प्रस्तुति क्यों की ? एक कारण स्पष्ट कीजिए । 1

**अथवा**

वियतनाम में टोंकिन फ्री स्कूल क्यों खोला गया ? एक कारण स्पष्ट कीजिए । 1

Why did Frédéric Sorrieu present utopian vision in his prints in 1848 ? Explain one reason.

**OR**

Why was the Tonkin Free School started in Vietnam ? Explain one reason.

2. भारत में उन्नीसवीं सदी के दौरान कुछ माता-पिता उपन्यासों को अपने बच्चों की पहुँच से बाहर क्यों रखते थे ? 1

**अथवा**

उन्नीसवीं सदी में अँग्रेजों ने 'देशी प्रेस' को बंद करने की माँग क्यों की ? 1

Why had some parents kept novels away from their children's reach during 19<sup>th</sup> century in India ?

**OR**

Why had Englishmen demanded a clamp down on the 'Vernacular Press' in the 19<sup>th</sup> century ?

3. काजू की फ़सल उगाने के लिए सबसे अधिक उपयुक्त मृदा कौन-सी है ? 1

**अथवा**

भारत में कौन-सी मृदा सर्वाधिक विस्तृत रूप से फैली और महत्वपूर्ण है ? 1

Which type of soil is most suitable for growing the crop of cashew nut ?

**OR**

Which type of soil in India is most widespread and important ?



4. उस देश का नाम लिखिए, जहाँ 1956 के बाद जातीय संघर्ष ने हिंसा और विद्रोह का रूप ले लिया । 1

Name the country where ethnic struggle led to violence and revolt after 1956.

5. 'करेंसी' का अर्थ स्पष्ट कीजिए । 1

**अथवा**

भारतीय रिज़र्व बैंक द्वारा ऋणों के औपचारिक स्रोतों के निरीक्षण की आवश्यकता का कारण स्पष्ट कीजिए । 1

Explain the meaning of 'Currency'.

**OR**

Explain the reason for necessity of supervision by the Reserve Bank of India of formal sources of loans.

6. वैश्वीकरण में संचार प्रौद्योगिकी के योगदान का विश्लेषण कीजिए । 1

Analyse the contribution of communication technology in globalisation.

7. मान लीजिए कि आपको बिजली का सामान (उपकरण) खरीदना है, तो उस सामान पर गुणवत्ता के लिए आप कौन-सा लोगो या शब्द चिह्न देखोगे ? 1

Suppose you have to buy electrical equipments, which logo or mark of quality will you see on the equipments ?

**खण्ड ख**

## **SECTION B**

8. उन्नीसवीं शताब्दी के दौरान यूरोपवासियों के बीच राष्ट्रवादी भावनाओं को विकसित करने में रूमानीवाद की भूमिका का वर्णन कीजिए । 3

**अथवा**

होआ हाओ आंदोलन का, वियतनाम की राष्ट्रवादी मुख्यधारा के रूप में वर्णन कीजिए । 3

Describe the role of Romanticism in developing nationalist feelings among Europeans during nineteenth century.

**OR**

Describe Hoa Hao movement as a mainstream nationalism of Vietnam.





9. “भारत में उन्नीसवीं सदी के अंत में जाति-भेद के बारे में तरह-तरह की मुद्रित पुस्तिकाओं और निबन्धों में लिखा जाने लगा था।” इस कथन की पुष्टि दो उपयुक्त उदाहरणों सहित कीजिए। 3

अथवा

“प्रेमचंद के विभिन्न उपन्यासों के पात्र जनवादी मूल्यों पर आधारित समाज बनाते दिखते हैं।” इस कथन की पुष्टि दो उपयुक्त उदाहरणों सहित कीजिए। 3

“Issues of caste discrimination began to be written about in many printed tracts and essays in India in the late nineteenth century.” Support the statement with two suitable examples.

OR

“Premchand’s characters in different novels create a community based on democratic values.” Support the statement with two suitable examples.

10. “बहु-उद्देशीय परियोजनाएँ और बड़े बाँध अनेक नए सामाजिक आंदोलनों के कारण बन गए हैं।” ऐसे आंदोलनों से सम्बन्धित सरोकारों को उजागर कीजिए। 3

अथवा

“पारंपरिक वर्षा-जल संग्रहण प्रणाली जल संरक्षण और जल भण्डारण के लिए उपयोगी है।” इस प्रणाली की महत्ता को दो उदाहरणों सहित उजागर कीजिए। 3

“Multi-purpose projects and large dams have been the cause of many new social movements.” Highlight the concerns related to such movements.

OR

“Traditional harvesting system is a useful system to conserve and store water.” Highlight the importance of this system with two examples.

11. खरीफ शस्य ऋतु और रबी शस्य ऋतु के बीच किन्हीं तीन अन्तरों को उजागर कीजिए।  $1 \times 3 = 3$   
Highlight any three differences between Kharif cropping season and Rabi cropping season.

12. लोकतंत्र में स्थानीय स्वशासी निकायों (स्व-शासन) की शक्तियों और सीमाओं का मूल्यांकन कीजिए। 3

अथवा

भारत में सत्ता की साझेदारी पद्धति का मूल्यांकन कीजिए। 3

Evaluate the strengths and limitations of local self-government in a democracy.

OR

Evaluate the power sharing system in India.



13. “सामाजिक विभाजनों के बीच सामंजस्य बैठाने के लिए लोकतंत्र सबसे अच्छा तरीका है।”  
कथन को न्यायोचित ठहराइए। 3

“Democracy is the best way to accommodate social division.” Justify the statement.

14. “शिकायतों का बने रहना, लोकतंत्र की सफलता की गवाही देता है।” उदाहरणों सहित कथन की पुष्टि कीजिए। 3

“Complaints are treated as testimony to the success of democracy.” Support the statement with examples.

15. “औसत आय तुलना के लिए उपयोगी है, परन्तु यह असमानताओं को छिपा सकती है।”  
उपयुक्त तर्कों सहित कथन की पुष्टि कीजिए। 3

“Average income is useful for comparison but it may hide disparities.” Support the statement with suitable arguments.

16. बैंकों और सहकारी समितियों को अपनी ऋण देने की गतिविधियों को ग्रामीण क्षेत्रों में बढ़ाने के किन्हीं तीन कारणों की व्याख्या कीजिए। 1×3=3

Explain any three reasons for the banks and cooperative societies to increase their lending facilities in rural areas.

17. वैश्वीकरण के किन्हीं तीन लाभों का मूल्यांकन कीजिए। 1×3=3

**अथवा**

बहुराष्ट्रीय कम्पनियों के किन्हीं तीन लाभों का मूल्यांकन कीजिए। 1×3=3

Assess any three advantages of globalisation.

**OR**

Assess any three advantages of multinational corporations.

18. उपभोक्ताओं के लिए ‘सूचना पाने के अधिकार (आर.टी.आई.)’ के महत्त्व का वर्णन कीजिए। 3

**अथवा**

उपभोक्ताओं के लिए ‘क्षतिपूर्ति निवारण के अधिकार’ के महत्त्व का वर्णन कीजिए। 3

Describe the importance of the ‘Right to Information (RTI)’ for consumers.

**OR**

Describe the importance of the ‘Right to Seek Redressal’ for consumers.



खण्ड ग

SECTION C

19. उन्नीसवीं सदी के दौरान भारत से अनुबंधित प्रवासी श्रमिकों की स्थिति का वर्णन कीजिए । 5

अथवा

भारत के प्रारंभिक उद्यमियों की उद्योगों के विकास में भूमिका का वर्णन कीजिए । 5

अथवा

उन्नीसवीं सदी के अन्त में और बीसवीं सदी के प्रारम्भ में बम्बई (मुम्बई) में 'भूमि विकास' की प्रक्रिया का वर्णन कीजिए । 5

Describe the condition of indentured labour that migrated from India during the nineteenth century.

OR

Describe the role of early entrepreneurs of India in the development of industries.

OR

Describe the 'land reclamation' process in Bombay during the late nineteenth and the early twentieth centuries.

20. महात्मा गाँधी ने 'सविनय अवज्ञा आंदोलन' क्यों प्रारम्भ किया ? इस आंदोलन ने देश को किस प्रकार जोड़ा ? व्याख्या कीजिए । 5

अथवा

महात्मा गाँधी ने 'असहयोग आंदोलन' क्यों शुरू किया ? इस आंदोलन ने देश को किस प्रकार जोड़ा ? व्याख्या कीजिए । 5

Why did Mahatma Gandhi start the 'Civil Disobedience Movement' ? How did this movement unite the country ? Explain.

OR

Why did Mahatma Gandhi launch the 'Non-Cooperation Movement' ? How did this movement unite the country ? Explain.



21. छोटा-नागपुर के क्षेत्र में और इसके चारों ओर लोहा और इस्पात उद्योगों के संकेन्द्रित होने के कारणों को स्पष्ट कीजिए । 5

Explain the reasons for concentration of iron and steel industries in and around Chotanagpur region.

22. किसी देश के विकास के लिए, पूर्व अपेक्षित के रूप में परिवहन के साधनों के महत्त्व को स्पष्ट कीजिए । 5

Explain the importance of means of transport as a prerequisite for the development of a country.

23. विभिन्न तरीकों का वर्णन कीजिए, जिनके माध्यम से भारत में महिलाओं के साथ भेदभाव और उनका दमन होता है । 5

Describe the different ways through which women face discrimination and oppression in India.

24. लोकतंत्र में राजनीतिक दलों की भूमिका को स्पष्ट कीजिए । 5

**अथवा**

- लोकतंत्र में राजनीतिक दलों की आवश्यकता की व्याख्या कीजिए । 5

Explain the role of Political Parties in a democracy.

**OR**

Explain the necessity of Political Parties in a democracy.

25. देश के आर्थिक विकास में सार्वजनिक क्षेत्रक के योगदान को उजागर कीजिए । 5

Highlight the contribution of public sector in the economic development of a country.





**खण्ड घ**  
**SECTION D**

26. (A) दो लक्षण 'a' और 'b' दिए गए **भारत** के राजनीतिक रेखा-मानचित्र (पृष्ठ 11 पर), में अंकित किए गए हैं। इन लक्षणों को निम्नलिखित जानकारी की सहायता से पहचानिए और उनके सही नाम उनके समीप खींची गई रेखाओं पर लिखिए :  $1 \times 2 = 2$
- (a) वह स्थान जहाँ भारतीय राष्ट्रीय काँग्रेस का अधिवेशन हुआ।
- (b) वह स्थान जहाँ गाँधीजी ने नील की खेती करने वाले किसानों के पक्ष में सत्याग्रह आयोजित किया।
- (B) इसी दिए गए **भारत** के राजनीतिक रेखा-मानचित्र में निम्नलिखित में से **किन्हीं तीन** को उपयुक्त चिह्नों से दर्शाइए और उनके नाम लिखिए :  $1 \times 3 = 3$
- (i) तारापुर – आण्विक ऊर्जा संयंत्र
- (ii) तुंगभद्रा – बाँध
- (iii) मोहाली – सॉफ्टवेयर टेक्नोलॉजी पार्क
- (iv) कांडला – प्रमुख समुद्री पत्तन
- (v) दुर्गापुर – लोहा और इस्पात संयंत्र
- (A) Two features 'a' and 'b' are marked on the given political outline map of **India** (on page 11). Identify these features with the help of the following information and write their correct names on the lines marked near them :
- (a) The place where the Indian National Congress Session was held.
- (b) The place from where Gandhiji organized Satyagraha in favour of Indigo planters.
- (B) Locate and label **any three** of the following with appropriate symbols on the same given political outline map of **India** :
- (i) Tarapur – Nuclear Power Plant
- (ii) Tungabhadra – Dam
- (iii) Mohali – Software Technology Park
- (iv) Kandla – Major Sea Port
- (v) Durgapur – Iron and Steel Plant



**नोट :** निम्नलिखित प्रश्न केवल दृष्टिबाधित परीक्षार्थियों के लिए प्रश्न संख्या 26 के स्थान पर हैं । किन्हीं पाँच प्रश्नों के उत्तर लिखिए :

**Note :** The following questions are for the **Visually Impaired Candidates** only, in lieu of Q. No. 26. Attempt **any five** questions :

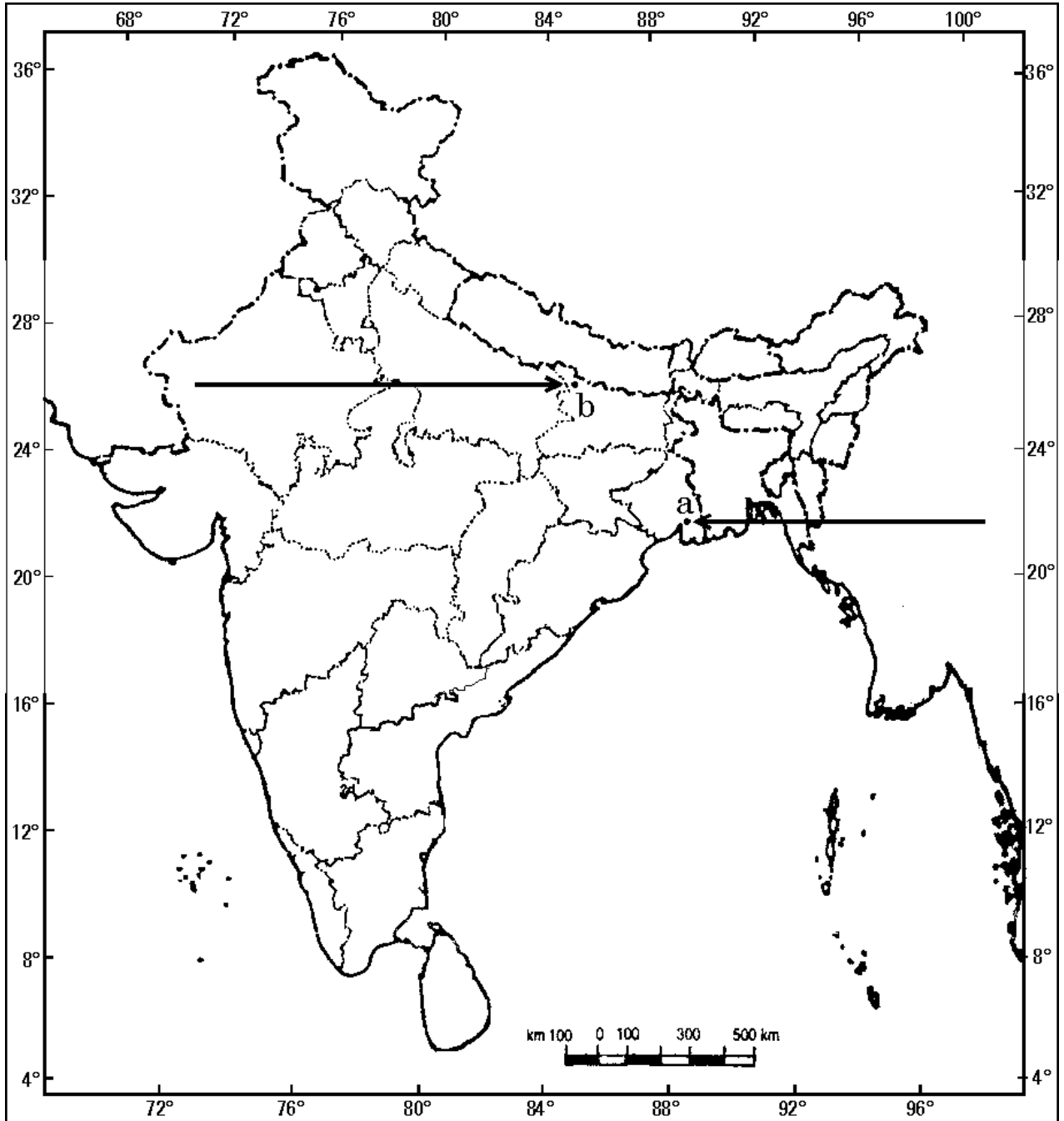
- (26.1) असहयोग आंदोलन को वापस लेने से संबंधित स्थान का नाम लिखिए ।
- (26.2) भारतीय राष्ट्रीय काँग्रेस का गठन कहाँ हुआ था ?
- (26.3) जलियाँवाला बाग घटना किस राज्य में घटित हुई ?
- (26.4) तारापुर आण्विक ऊर्जा संयंत्र किस राज्य में स्थित है ?
- (26.5) उस राज्य का नाम लिखिए, जहाँ मोहाली सॉफ्टवेयर टेक्नोलॉजी पार्क स्थित है ।
- (26.6) उस राज्य का नाम लिखिए, जहाँ दुर्गापुर लोहा और इस्पात संयंत्र स्थित है ।
- (26.7) कांडला समुद्री पत्तन भारत के किस तट पर स्थित है ? 1×5=5
- (26.1) Name the place related to the calling off of the Non-Cooperation Movement.
- (26.2) Where was the Indian National Congress formed ?
- (26.3) In which State did Jallianwala Bagh incident happen ?
- (26.4) In which State is Tarapur Nuclear Power Plant situated ?
- (26.5) Name the State where Mohali Software Technology Park is situated.
- (26.6) Name the State where Durgapur Iron and Steel Plant is located.
- (26.7) On which coast of India is Kandla Sea Port located ?



प्रश्न सं. 26 के लिए

For question no. 26

भारत का रेखा-मानचित्र (राजनीतिक)  
Outline Map of India (Political)



**SET-2****Series JMS/4**कोड नं. **32/4/2**  
Code No.रोल नं. 

--	--	--	--	--	--	--

  
Roll No.

परीक्षार्थी कोड को उत्तर-पुस्तिका के मुख-पृष्ठ पर अवश्य लिखें ।

Candidates must write the Code on the title page of the answer-book.

- कृपया जाँच कर लें कि इस प्रश्न-पत्र में मुद्रित पृष्ठ **10 + 1** मानचित्र हैं ।
- प्रश्न-पत्र में दाहिने हाथ की ओर दिए गए कोड नम्बर को छात्र उत्तर-पुस्तिका के मुख-पृष्ठ पर लिखें ।
- कृपया जाँच कर लें कि इस प्रश्न-पत्र में **26** प्रश्न हैं ।
- कृपया प्रश्न का उत्तर लिखना शुरू करने से पहले, प्रश्न का क्रमांक अवश्य लिखें ।
- इस प्रश्न-पत्र को पढ़ने के लिए 15 मिनट का समय दिया गया है । प्रश्न-पत्र का वितरण पूर्वाह्न में 10.15 बजे किया जाएगा । 10.15 बजे से 10.30 बजे तक छात्र केवल प्रश्न-पत्र को पढ़ेंगे और इस अवधि के दौरान वे उत्तर-पुस्तिका पर कोई उत्तर नहीं लिखेंगे ।
- Please check that this question paper contains **10** printed pages + **1** Map.
- Code number given on the right hand side of the question paper should be written on the title page of the answer-book by the candidate.
- Please check that this question paper contains **26** questions.
- **Please write down the Serial Number of the question before attempting it.**
- 15 minute time has been allotted to read this question paper. The question paper will be distributed at 10.15 a.m. From 10.15 a.m. to 10.30 a.m., the students will read the question paper only and will not write any answer on the answer-book during this period.

## सामाजिक विज्ञान

### SOCIAL SCIENCE

निर्धारित समय : 3 घण्टे  
Time allowed : 3 hoursअधिकतम अंक : 80  
Maximum Marks : 80





### सामान्य निर्देश :

- (i) इस प्रश्न-पत्र को चार खण्डों में विभाजित किया गया है। खण्ड क, खण्ड ख, खण्ड ग और खण्ड घ।
- (ii) इस प्रश्न-पत्र में कुल 26 प्रश्न हैं।
- (iii) सभी प्रश्न अनिवार्य हैं।
- (iv) प्रत्येक प्रश्न के अंक उसके सामने दिए गए हैं।
- (v) प्रश्न संख्या 1 से 7 तक अति लघु-उत्तरीय प्रश्न हैं। प्रत्येक प्रश्न 1 अंक का है।
- (vi) प्रश्न संख्या 8 से 18 तक प्रत्येक प्रश्न 3 अंक का है। इनमें से प्रत्येक प्रश्न का उत्तर 80 शब्दों से अधिक का नहीं होना चाहिए।
- (vii) प्रश्न संख्या 19 से 25 तक प्रत्येक प्रश्न 5 अंक का है। इनमें से प्रत्येक प्रश्न का उत्तर 100 शब्दों से अधिक का नहीं होना चाहिए।
- (viii) प्रश्न संख्या 26 मानचित्र प्रश्न 5 अंक का है। इसके दो भाग हैं – 26 (A) और 26 (B)। 26 (A) 2 अंक का इतिहास से तथा 26 (B) 3 अंक का भूगोल से है। मानचित्र का प्रश्न पूर्ण होने पर उसे अपनी उत्तर-पुस्तिका के अन्दर नत्थी कीजिए।

### General Instructions :

- (i) The question paper is divided into four sections – Section A, Section B, Section C and Section D.
- (ii) The question paper has 26 questions in all.
- (iii) All questions are **compulsory**.
- (iv) Marks are indicated against each question.
- (v) Questions from serial number 1 to 7 are Very Short Answer Type Questions. Each question carries 1 mark.
- (vi) Questions from serial number 8 to 18 are 3 marks questions. Answers to these questions should not exceed 80 words each.
- (vii) Questions from serial number 19 to 25 are 5 marks questions. Answers to these questions should not exceed 100 words each.
- (viii) Question number 26 is a map question of 5 marks with two parts 26 (A) and 26 (B) – 26 (A) from History (2 marks) and 26 (B) from Geography (3 marks). After completion, attach the map inside your answer-book.



खण्ड क  
SECTION A

1. 'करेंसी' का अर्थ स्पष्ट कीजिए । 1

अथवा

भारतीय रिज़र्व बैंक द्वारा ऋणों के औपचारिक स्रोतों के निरीक्षण की आवश्यकता का कारण स्पष्ट कीजिए । 1

Explain the meaning of 'Currency'.

OR

Explain the reason for necessity of supervision by the Reserve Bank of India of formal sources of loans.

2. काजू की फ़सल उगाने के लिए सबसे अधिक उपयुक्त मृदा कौन-सी है ? 1

अथवा

भारत में कौन-सी मृदा सर्वाधिक विस्तृत रूप से फैली और महत्वपूर्ण है ? 1

Which type of soil is most suitable for growing the crop of cashew nut ?

OR

Which type of soil in India is most widespread and important ?

3. भारत में उन्नीसवीं सदी के दौरान कुछ माता-पिता उपन्यासों को अपने बच्चों की पहुँच से बाहर क्यों रखते थे ? 1

अथवा

उन्नीसवीं सदी में अँग्रेज़ों ने 'देशी प्रेस' को बंद करने की माँग क्यों की ? 1

Why had some parents kept novels away from their children's reach during 19<sup>th</sup> century in India ?

OR

Why had Englishmen demanded a clamp down on the 'Vernacular Press' in the 19<sup>th</sup> century ?



4. उस देश का नाम लिखिए, जहाँ संविधान में चार बार संशोधन करके क्षेत्रीय अन्तर्गत और सांस्कृतिक विविधताओं को समायोजित किया गया । 1

Name the country where the Constitution was amended four times to accommodate the regional differences and cultural diversities.

5. 1848 में फ्रेडरिक सॉरर्यू ने अपने चित्रों में स्वप्नदर्शी प्रस्तुति क्यों की ? एक कारण स्पष्ट कीजिए । 1

**अथवा**

वियतनाम में टोंकिन फ्री स्कूल क्यों खोला गया ? एक कारण स्पष्ट कीजिए । 1

Why did Frédéric Sorrieu present utopian vision in his prints in 1848 ? Explain one reason.

**OR**

Why was the Tonkin Free School started in Vietnam ? Explain one reason.

6. वैश्वीकरण में तीव्र परिवहन के योगदान का विश्लेषण कीजिए । 1

Analyse the contribution of fast transport in globalisation.

7. बिजली के उपकरणों पर गुणवत्ता का कौन-सा शब्द चिह्न (लोगो) अंकित होता है ? 1

Which logo of quality is marked on the electrical instruments ?

**खण्ड ख**

### **SECTION B**

8. “बहु-उद्देशीय परियोजनाएँ और बड़े बाँध अनेक नए सामाजिक आंदोलनों के कारण बन गए हैं ।” ऐसे आंदोलनों से सम्बन्धित सरोकारों को उजागर कीजिए । 3

**अथवा**

“पारंपरिक वर्षा-जल संग्रहण प्रणाली जल संरक्षण और जल भण्डारण के लिए उपयोगी है ।” इस प्रणाली की महत्ता को दो उदाहरणों सहित उजागर कीजिए । 3

“Multi-purpose projects and large dams have been the cause of many new social movements.” Highlight the concerns related to such movements.

**OR**

“Traditional harvesting system is a useful system to conserve and store water.” Highlight the importance of this system with two examples.



9. उपभोक्ताओं के लिए 'सूचना पाने के अधिकार (आर.टी.आई.)' के महत्त्व का वर्णन कीजिए । 3  
अथवा  
उपभोक्ताओं के लिए 'क्षतिपूर्ति निवारण के अधिकार' के महत्त्व का वर्णन कीजिए । 3  
Describe the importance of the 'Right to Information (RTI)' for consumers.  
OR  
Describe the importance of the 'Right to Seek Redressal' for consumers.
10. वैश्वीकरण के किन्हीं तीन लाभों का मूल्यांकन कीजिए । 1×3=3  
अथवा  
बहुराष्ट्रीय कम्पनियों के किन्हीं तीन लाभों का मूल्यांकन कीजिए । 1×3=3  
Assess any three advantages of globalisation.  
OR  
Assess any three advantages of multinational corporations.
11. प्रारंभिक जीविका कृषि और वाणिज्यिक कृषि में कोई तीन अन्तर उजागर कीजिए । 3  
Highlight any three differences between primitive subsistence farming and commercial farming.
12. "औसत आय तुलना के लिए उपयोगी है, परन्तु यह असमानताओं को छिपा सकती है ।"  
उपयुक्त तर्कों सहित कथन की पुष्टि कीजिए । 3  
"Average income is useful for comparison but it may hide disparities."  
Support the statement with suitable arguments.
13. "भारत में अभी भी जातिगत असमानताएँ विद्यमान हैं ।" कथन की परख कीजिए । 3  
"Caste inequalities are still prevalent in India." Examine the statement.
14. बैंकों और सहकारी समितियों को अपनी ऋण देने की गतिविधियों को ग्रामीण क्षेत्रों में बढ़ाने के किन्हीं तीन कारणों की व्याख्या कीजिए । 1×3=3  
Explain any three reasons for the banks and cooperative societies to increase their lending facilities in rural areas.





15. उन्नीसवीं शताब्दी के दौरान यूरोपवासियों के बीच राष्ट्रवादी भावनाओं को विकसित करने में रूमानीवाद की भूमिका का वर्णन कीजिए । 3

**अथवा**

होआ हाओ आंदोलन का, वियतनाम की राष्ट्रवादी मुख्यधारा के रूप में वर्णन कीजिए । 3

Describe the role of Romanticism in developing nationalist feelings among Europeans during nineteenth century.

**OR**

Describe Hoa Hao movement as a mainstream nationalism of Vietnam.

16. “भारत में उन्नीसवीं सदी के अंत में जाति-भेद के बारे में तरह-तरह की मुद्रित पुस्तिकाओं और निबन्धों में लिखा जाने लगा था ।” इस कथन की पुष्टि दो उपयुक्त उदाहरणों सहित कीजिए । 3

**अथवा**

“प्रेमचंद के विभिन्न उपन्यासों के पात्र जनवादी मूल्यों पर आधारित समाज बनाते दिखते हैं ।” इस कथन की पुष्टि दो उपयुक्त उदाहरणों सहित कीजिए । 3

“Issues of caste discrimination began to be written about in many printed tracts and essays in India in the late nineteenth century.” Support the statement with two suitable examples.

**OR**

“Premchand’s characters in different novels create a community based on democratic values.” Support the statement with two suitable examples.

17. लोकतंत्र में स्थानीय स्वशासी निकायों (स्व-शासन) की शक्तियों और सीमाओं का मूल्यांकन कीजिए । 3

**अथवा**

भारत में सत्ता की साझेदारी पद्धति का मूल्यांकन कीजिए । 3

Evaluate the strengths and limitations of local self-government in a democracy.

**OR**

Evaluate the power sharing system in India.

18. “शिकायतों का बने रहना, लोकतंत्र की सफलता की गवाही देता है ।” उदाहरणों सहित कथन की पुष्टि कीजिए । 3

“Complaints are treated as testimony to the success of democracy.” Support the statement with examples.



खण्ड ग

SECTION C

19. महात्मा गाँधी ने 'सविनय अवज्ञा आंदोलन' क्यों प्रारम्भ किया ? इस आंदोलन ने देश को किस प्रकार जोड़ा ? व्याख्या कीजिए । 5

अथवा

महात्मा गाँधी ने 'असहयोग आंदोलन' क्यों शुरू किया ? इस आंदोलन ने देश को किस प्रकार जोड़ा ? व्याख्या कीजिए । 5

Why did Mahatma Gandhi start the 'Civil Disobedience Movement' ? How did this movement unite the country ? Explain.

OR

Why did Mahatma Gandhi launch the 'Non-Cooperation Movement' ? How did this movement unite the country ? Explain.

20. छोटा-नागपुर के क्षेत्र में और इसके चारों ओर लोहा और इस्पात उद्योगों के संकेन्द्रित होने के कारणों को स्पष्ट कीजिए । 5

Explain the reasons for concentration of iron and steel industries in and around Chotanagpur region.

21. लोकतंत्र में राजनीतिक दलों की भूमिका को स्पष्ट कीजिए । 5

अथवा

लोकतंत्र में राजनीतिक दलों की आवश्यकता की व्याख्या कीजिए । 5

Explain the role of Political Parties in a democracy.

OR

Explain the necessity of Political Parties in a democracy.



22. परिवहन के साधन के रूप में रेलवे के महत्त्व को स्पष्ट कीजिए । 5  
Explain the importance of Railways as a means of transport.
23. भारत में धर्मनिरपेक्षता के किन्हीं पाँच लक्षणों का वर्णन कीजिए । 1×5=5  
Describe any five features of secularism in India.
24. उन्नीसवीं सदी के दौरान भारत से अनुबंधित प्रवासी श्रमिकों की स्थिति का वर्णन कीजिए । 5  
अथवा  
भारत के प्रारंभिक उद्यमियों की उद्योगों के विकास में भूमिका का वर्णन कीजिए । 5  
अथवा  
उन्नीसवीं सदी के अन्त में और बीसवीं सदी के प्रारम्भ में बम्बई (मुम्बई) में 'भूमि विकास' की प्रक्रिया का वर्णन कीजिए । 5  
Describe the condition of indentured labour that migrated from India during the nineteenth century.
- OR**
- Describe the role of early entrepreneurs of India in the development of industries.
- OR**
- Describe the 'land reclamation' process in Bombay during the late nineteenth and the early twentieth centuries.
25. भारत में तृतीयक क्षेत्रक के महत्त्व के किन्हीं पाँच कारणों को उजागर कीजिए । 1×5=5  
Highlight any five reasons for the importance of tertiary sector in India.



**खण्ड घ**  
**SECTION D**

26. (A) दो लक्षण 'a' और 'b' दिए गए **भारत** के राजनीतिक रेखा-मानचित्र (पृष्ठ 11 पर), में अंकित किए गए हैं। इन लक्षणों को निम्नलिखित जानकारी की सहायता से पहचानिए और उनके सही नाम उनके समीप खींची गई रेखाओं पर लिखिए :  $1 \times 2 = 2$
- (a) वह स्थान जहाँ भारतीय राष्ट्रीय काँग्रेस का अधिवेशन हुआ।
- (b) वह स्थान जहाँ गाँधीजी ने नील की खेती करने वाले किसानों के पक्ष में सत्याग्रह आयोजित किया।
- (B) इसी दिए गए **भारत** के राजनीतिक रेखा-मानचित्र में निम्नलिखित में से **किन्हीं तीन** को उपयुक्त चिह्नों से दर्शाइए और उनके नाम लिखिए :  $1 \times 3 = 3$
- (i) तारापुर – आण्विक ऊर्जा संयंत्र
- (ii) तुंगभद्रा – बाँध
- (iii) मोहाली – सॉफ्टवेयर टेक्नोलॉजी पार्क
- (iv) कांडला – प्रमुख समुद्री पत्तन
- (v) दुर्गापुर – लोहा और इस्पात संयंत्र
- (A) Two features 'a' and 'b' are marked on the given political outline map of **India** (on page 11). Identify these features with the help of the following information and write their correct names on the lines marked near them :
- (a) The place where the Indian National Congress Session was held.
- (b) The place from where Gandhiji organized Satyagraha in favour of Indigo planters.
- (B) Locate and label **any three** of the following with appropriate symbols on the same given political outline map of **India** :
- (i) Tarapur – Nuclear Power Plant
- (ii) Tungabhadra – Dam
- (iii) Mohali – Software Technology Park
- (iv) Kandla – Major Sea Port
- (v) Durgapur – Iron and Steel Plant





**नोट :** निम्नलिखित प्रश्न केवल दृष्टिबाधित परीक्षार्थियों के लिए प्रश्न संख्या 26 के स्थान पर हैं । किन्हीं पाँच प्रश्नों के उत्तर लिखिए :

**Note :** The following questions are for the **Visually Impaired Candidates** only, in lieu of Q. No. 26. Attempt **any five** questions :

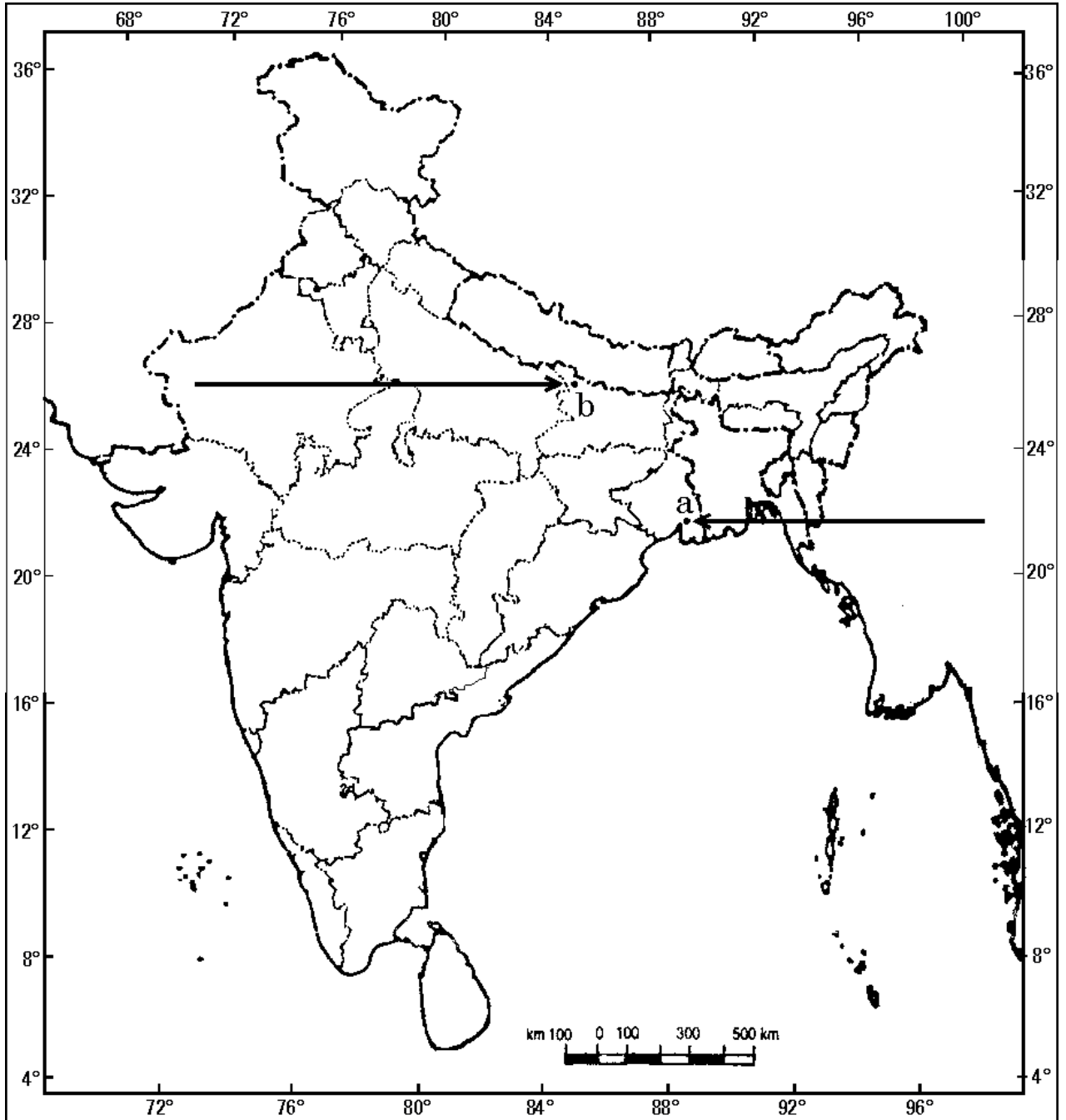
- (26.1) असहयोग आंदोलन को वापस लेने से संबंधित स्थान का नाम लिखिए ।
- (26.2) भारतीय राष्ट्रीय कांग्रेस का गठन कहाँ हुआ था ?
- (26.3) जलियाँवाला बाग घटना किस राज्य में घटित हुई ?
- (26.4) तारापुर आण्विक ऊर्जा संयंत्र किस राज्य में स्थित है ?
- (26.5) उस राज्य का नाम लिखिए, जहाँ मोहाली सॉफ्टवेयर टेक्नोलॉजी पार्क स्थित है ।
- (26.6) उस राज्य का नाम लिखिए, जहाँ दुर्गापुर लोहा और इस्पात संयंत्र स्थित है ।
- (26.7) कांडला समुद्री पत्तन भारत के किस तट पर स्थित है ? 1×5=5
- (26.1) Name the place related to the calling off of the Non-Cooperation Movement.
- (26.2) Where was the Indian National Congress formed ?
- (26.3) In which State did Jallianwala Bagh incident happen ?
- (26.4) In which State is Tarapur Nuclear Power Plant situated ?
- (26.5) Name the State where Mohali Software Technology Park is situated.
- (26.6) Name the State where Durgapur Iron and Steel Plant is located.
- (26.7) On which coast of India is Kandla Sea Port located ?



प्रश्न सं. 26 के लिए

For question no. 26

भारत का रेखा-मानचित्र (राजनीतिक)  
Outline Map of India (Political)



**SET-3****Series JMS/4**कोड नं. **32/4/3**  
Code No.रोल नं. 

--	--	--	--	--	--	--

  
Roll No.

परीक्षार्थी कोड को उत्तर-पुस्तिका के मुख-पृष्ठ पर अवश्य लिखें ।

Candidates must write the Code on the title page of the answer-book.

- कृपया जाँच कर लें कि इस प्रश्न-पत्र में मुद्रित पृष्ठ **10 + 1** मानचित्र हैं ।
- प्रश्न-पत्र में दाहिने हाथ की ओर दिए गए कोड नम्बर को छात्र उत्तर-पुस्तिका के मुख-पृष्ठ पर लिखें ।
- कृपया जाँच कर लें कि इस प्रश्न-पत्र में **26** प्रश्न हैं ।
- कृपया प्रश्न का उत्तर लिखना शुरू करने से पहले, प्रश्न का क्रमांक अवश्य लिखें ।
- इस प्रश्न-पत्र को पढ़ने के लिए 15 मिनट का समय दिया गया है । प्रश्न-पत्र का वितरण पूर्वाह्न में 10.15 बजे किया जाएगा । 10.15 बजे से 10.30 बजे तक छात्र केवल प्रश्न-पत्र को पढ़ेंगे और इस अवधि के दौरान वे उत्तर-पुस्तिका पर कोई उत्तर नहीं लिखेंगे ।
- Please check that this question paper contains **10** printed pages + **1** Map.
- Code number given on the right hand side of the question paper should be written on the title page of the answer-book by the candidate.
- Please check that this question paper contains **26** questions.
- **Please write down the Serial Number of the question before attempting it.**
- 15 minute time has been allotted to read this question paper. The question paper will be distributed at 10.15 a.m. From 10.15 a.m. to 10.30 a.m., the students will read the question paper only and will not write any answer on the answer-book during this period.

## सामाजिक विज्ञान

### SOCIAL SCIENCE

निर्धारित समय : 3 घण्टे  
Time allowed : 3 hoursअधिकतम अंक : 80  
Maximum Marks : 80



### सामान्य निर्देश :

- (i) इस प्रश्न-पत्र को चार खण्डों में विभाजित किया गया है। खण्ड क, खण्ड ख, खण्ड ग और खण्ड घ।
- (ii) इस प्रश्न-पत्र में कुल 26 प्रश्न हैं।
- (iii) सभी प्रश्न अनिवार्य हैं।
- (iv) प्रत्येक प्रश्न के अंक उसके सामने दिए गए हैं।
- (v) प्रश्न संख्या 1 से 7 तक अति लघु-उत्तरीय प्रश्न हैं। प्रत्येक प्रश्न 1 अंक का है।
- (vi) प्रश्न संख्या 8 से 18 तक प्रत्येक प्रश्न 3 अंक का है। इनमें से प्रत्येक प्रश्न का उत्तर 80 शब्दों से अधिक का नहीं होना चाहिए।
- (vii) प्रश्न संख्या 19 से 25 तक प्रत्येक प्रश्न 5 अंक का है। इनमें से प्रत्येक प्रश्न का उत्तर 100 शब्दों से अधिक का नहीं होना चाहिए।
- (viii) प्रश्न संख्या 26 मानचित्र प्रश्न 5 अंक का है। इसके दो भाग हैं – 26 (A) और 26 (B)। 26 (A) 2 अंक का इतिहास से तथा 26 (B) 3 अंक का भूगोल से है। मानचित्र का प्रश्न पूर्ण होने पर उसे अपनी उत्तर-पुस्तिका के अन्दर नत्थी कीजिए।

### General Instructions :

- (i) The question paper is divided into four sections – Section A, Section B, Section C and Section D.
- (ii) The question paper has 26 questions in all.
- (iii) All questions are **compulsory**.
- (iv) Marks are indicated against each question.
- (v) Questions from serial number 1 to 7 are Very Short Answer Type Questions. Each question carries 1 mark.
- (vi) Questions from serial number 8 to 18 are 3 marks questions. Answers to these questions should not exceed 80 words each.
- (vii) Questions from serial number 19 to 25 are 5 marks questions. Answers to these questions should not exceed 100 words each.
- (viii) Question number 26 is a map question of 5 marks with two parts 26 (A) and 26 (B) – 26 (A) from History (2 marks) and 26 (B) from Geography (3 marks). After completion, attach the map inside your answer-book.



**खण्ड क**  
**SECTION A**

1. काजू की फ़सल उगाने के लिए सबसे अधिक उपयुक्त मृदा कौन-सी है ? 1

**अथवा**

भारत में कौन-सी मृदा सर्वाधिक विस्तृत रूप से फैली और महत्वपूर्ण है ? 1

Which type of soil is most suitable for growing the crop of cashew nut ?

**OR**

Which type of soil in India is most widespread and important ?

2. 'करेंसी' का अर्थ स्पष्ट कीजिए । 1

**अथवा**

भारतीय रिज़र्व बैंक द्वारा ऋणों के औपचारिक स्रोतों के निरीक्षण की आवश्यकता का कारण स्पष्ट कीजिए । 1

Explain the meaning of 'Currency'.

**OR**

Explain the reason for necessity of supervision by the Reserve Bank of India of formal sources of loans.

3. 1848 में फ़्रेड्रिक सॉरर्यू ने अपने चित्रों में स्वप्नदर्शी प्रस्तुति क्यों की ? एक कारण स्पष्ट कीजिए । 1

**अथवा**

वियतनाम में टोंकिन फ्री स्कूल क्यों खोला गया ? एक कारण स्पष्ट कीजिए । 1

Why did Frédéric Sorrieu present utopian vision in his prints in 1848 ? Explain one reason.

**OR**

Why was the Tonkin Free School started in Vietnam ? Explain one reason.

4. श्रीलंका के दो मुख्य जातीय समुदायों के नाम लिखिए । 1

Name the two major ethnic communities of Sri Lanka.





5. भारत में उन्नीसवीं सदी के दौरान कुछ माता-पिता उपन्यासों को अपने बच्चों की पहुँच से बाहर क्यों रखते थे ? 1

अथवा

- उन्नीसवीं सदी में अँग्रेजों ने 'देशी प्रेस' को बंद करने की माँग क्यों की ? 1

Why had some parents kept novels away from their children's reach during 19<sup>th</sup> century in India ?

OR

Why had Englishmen demanded a clamp down on the 'Vernacular Press' in the 19<sup>th</sup> century ?

6. वैश्वीकरण में विदेशी निवेश के योगदान का विश्लेषण कीजिए । 1

Analyse the contribution of foreign investment in globalisation.

7. डिब्बाबन्द खाद्य पदार्थों पर गुणवत्ता का कौन-सा शब्द चिह्न (लोगो) अंकित होता है ? 1

Which logo of quality is marked on the packaged food items ?

खण्ड ख

### SECTION B

8. "भारत में उन्नीसवीं सदी के अंत में जाति-भेद के बारे में तरह-तरह की मुद्रित पुस्तिकाओं और निबन्धों में लिखा जाने लगा था ।" इस कथन की पुष्टि दो उपयुक्त उदाहरणों सहित कीजिए । 3

अथवा

"प्रेमचंद के विभिन्न उपन्यासों के पात्र जनवादी मूल्यों पर आधारित समाज बनाते दिखते हैं ।" इस कथन की पुष्टि दो उपयुक्त उदाहरणों सहित कीजिए । 3

"Issues of caste discrimination began to be written about in many printed tracts and essays in India in the late nineteenth century." Support the statement with two suitable examples.

OR

"Premchand's characters in different novels create a community based on democratic values." Support the statement with two suitable examples.



9. वैश्वीकरण के किन्हीं तीन लाभों का मूल्यांकन कीजिए । 1×3=3
- अथवा**
- बहुराष्ट्रीय कम्पनियों के किन्हीं तीन लाभों का मूल्यांकन कीजिए । 1×3=3
- Assess any three advantages of globalisation.
- OR**
- Assess any three advantages of multinational corporations.
10. उपभोक्ताओं के लिए 'सूचना पाने के अधिकार (आर.टी.आई.)' के महत्त्व का वर्णन कीजिए । 3
- अथवा**
- उपभोक्ताओं के लिए 'क्षतिपूर्ति निवारण के अधिकार' के महत्त्व का वर्णन कीजिए । 3
- Describe the importance of the 'Right to Information (RTI)' for consumers.
- OR**
- Describe the importance of the 'Right to Seek Redressal' for consumers.
11. प्रारंभिक जीविका कृषि और गहन जीविका कृषि में कोई तीन अन्तर उजागर कीजिए । 3
- Highlight any three differences between primitive subsistence farming and intensive subsistence farming.
12. बैंकों और सहकारी समितियों को अपनी ऋण देने की गतिविधियों को ग्रामीण क्षेत्रों में बढ़ाने के किन्हीं तीन कारणों की व्याख्या कीजिए । 1×3=3
- Explain any three reasons for the banks and cooperative societies to increase their lending facilities in rural areas.
13. "सांप्रदायिक राजनीति इस सोच पर आधारित होती है कि धर्म ही सामाजिक समुदायों का मुख्य आधार है ।" कथन को न्यायसंगत ठहराइए । 3
- "Communal politics is based on the idea that religion is the principal basis of social community." Justify the statement.
14. "बहु-उद्देशीय परियोजनाएँ और बड़े बाँध अनेक नए सामाजिक आंदोलनों के कारण बन गए हैं ।" ऐसे आंदोलनों से सम्बन्धित सरोकारों को उजागर कीजिए । 3
- अथवा**
- "पारंपरिक वर्षा-जल संग्रहण प्रणाली जल संरक्षण और जल भण्डारण के लिए उपयोगी है ।" इस प्रणाली की महत्ता को दो उदाहरणों सहित उजागर कीजिए । 3



“Multi-purpose projects and large dams have been the cause of many new social movements.” Highlight the concerns related to such movements.

**OR**

“Traditional harvesting system is a useful system to conserve and store water.” Highlight the importance of this system with two examples.

15. लोकतंत्र में स्थानीय स्वशासी निकायों (स्व-शासन) की शक्तियों और सीमाओं का मूल्यांकन कीजिए । 3

**अथवा**

भारत में सत्ता की साझेदारी पद्धति का मूल्यांकन कीजिए । 3

Evaluate the strengths and limitations of local self-government in a democracy.

**OR**

Evaluate the power sharing system in India.

16. “शिकायतों का बने रहना, लोकतंत्र की सफलता की गवाही देता है ।” उदाहरणों सहित कथन की पुष्टि कीजिए । 3

“Complaints are treated as testimony to the success of democracy.” Support the statement with examples.

17. उन्नीसवीं शताब्दी के दौरान यूरोपवासियों के बीच राष्ट्रवादी भावनाओं को विकसित करने में रूमानीवाद की भूमिका का वर्णन कीजिए । 3

**अथवा**

होआ हाओ आंदोलन का, वियतनाम की राष्ट्रवादी मुख्यधारा के रूप में वर्णन कीजिए । 3

Describe the role of Romanticism in developing nationalist feelings among Europeans during nineteenth century.

**OR**

Describe Hoa Hao movement as a mainstream nationalism of Vietnam.

18. “औसत आय तुलना के लिए उपयोगी है, परन्तु यह असमानताओं को छिपा सकती है ।” उपयुक्त तर्कों सहित कथन की पुष्टि कीजिए । 3

“Average income is useful for comparison but it may hide disparities.” Support the statement with suitable arguments.



खण्ड ग

**SECTION C**

19. लोकतंत्र में राजनीतिक दलों की भूमिका को स्पष्ट कीजिए । 5

**अथवा**

लोकतंत्र में राजनीतिक दलों की आवश्यकता की व्याख्या कीजिए । 5

Explain the role of Political Parties in a democracy.

**OR**

Explain the necessity of Political Parties in a democracy.

20. छोटा-नागपुर के क्षेत्र में और इसके चारों ओर लोहा और इस्पात उद्योगों के संकेन्द्रित होने के कारणों को स्पष्ट कीजिए । 5

Explain the reasons for concentration of iron and steel industries in and around Chotanagpur region.

21. उन्नीसवीं सदी के दौरान भारत से अनुबंधित प्रवासी श्रमिकों की स्थिति का वर्णन कीजिए । 5

**अथवा**

भारत के प्रारंभिक उद्यमियों की उद्योगों के विकास में भूमिका का वर्णन कीजिए । 5

**अथवा**

उन्नीसवीं सदी के अन्त में और बीसवीं सदी के प्रारम्भ में बम्बई (मुम्बई) में 'भूमि विकास' की प्रक्रिया का वर्णन कीजिए । 5

Describe the condition of indentured labour that migrated from India during the nineteenth century.

**OR**

Describe the role of early entrepreneurs of India in the development of industries.

**OR**

Describe the 'land reclamation' process in Bombay during the late nineteenth and the early twentieth centuries.



22. परिवहन के एक साधन के रूप में सड़क परिवहन के महत्त्व को स्पष्ट कीजिए । 5

Explain the importance of Roadways as a means of transport.

23. भारत में 'राजनीति में जाति' की किन्हीं पाँच विशेषताओं का वर्णन कीजिए । 1×5=5

Describe any five features of 'caste in politics' in India.

24. महात्मा गाँधी ने 'सविनय अवज्ञा आंदोलन' क्यों प्रारम्भ किया ? इस आंदोलन ने देश को किस प्रकार जोड़ा ? व्याख्या कीजिए । 5

**अथवा**

महात्मा गाँधी ने 'असहयोग आंदोलन' क्यों शुरू किया ? इस आंदोलन ने देश को किस प्रकार जोड़ा ? व्याख्या कीजिए । 5

Why did Mahatma Gandhi start the 'Civil Disobedience Movement' ? How did this movement unite the country ? Explain.

**OR**

Why did Mahatma Gandhi launch the 'Non-Cooperation Movement' ? How did this movement unite the country ? Explain.

25. भारत में रोज़गार बढ़ाने के किन्हीं पाँच तरीकों को उजागर कीजिए । 1×5=5

Highlight any five ways to increase employment in India.





**खण्ड घ**  
**SECTION D**

26. (A) दो लक्षण 'a' और 'b' दिए गए **भारत** के राजनीतिक रेखा-मानचित्र (पृष्ठ 11 पर), में अंकित किए गए हैं। इन लक्षणों को निम्नलिखित जानकारी की सहायता से पहचानिए और उनके सही नाम उनके समीप खींची गई रेखाओं पर लिखिए :  $1 \times 2 = 2$
- (a) वह स्थान जहाँ भारतीय राष्ट्रीय काँग्रेस का अधिवेशन हुआ।
- (b) वह स्थान जहाँ गाँधीजी ने नील की खेती करने वाले किसानों के पक्ष में सत्याग्रह आयोजित किया।
- (B) इसी दिए गए **भारत** के राजनीतिक रेखा-मानचित्र में निम्नलिखित में से **किन्हीं तीन** को उपयुक्त चिह्नों से दर्शाइए और उनके नाम लिखिए :  $1 \times 3 = 3$
- (i) तारापुर – आण्विक ऊर्जा संयंत्र
- (ii) तुंगभद्रा – बाँध
- (iii) मोहाली – सॉफ्टवेयर टेक्नोलॉजी पार्क
- (iv) कांडला – प्रमुख समुद्री पत्तन
- (v) दुर्गापुर – लोहा और इस्पात संयंत्र
- (A) Two features 'a' and 'b' are marked on the given political outline map of **India** (on page 11). Identify these features with the help of the following information and write their correct names on the lines marked near them :
- (a) The place where the Indian National Congress Session was held.
- (b) The place from where Gandhiji organized Satyagraha in favour of Indigo planters.
- (B) Locate and label **any three** of the following with appropriate symbols on the same given political outline map of **India** :
- (i) Tarapur – Nuclear Power Plant
- (ii) Tungabhadra – Dam
- (iii) Mohali – Software Technology Park
- (iv) Kandla – Major Sea Port
- (v) Durgapur – Iron and Steel Plant



**नोट :** निम्नलिखित प्रश्न केवल दृष्टिबाधित परीक्षार्थियों के लिए प्रश्न संख्या 26 के स्थान पर हैं । किन्हीं पाँच प्रश्नों के उत्तर लिखिए :

**Note :** The following questions are for the **Visually Impaired Candidates** only, in lieu of Q. No. 26. Attempt **any five** questions :

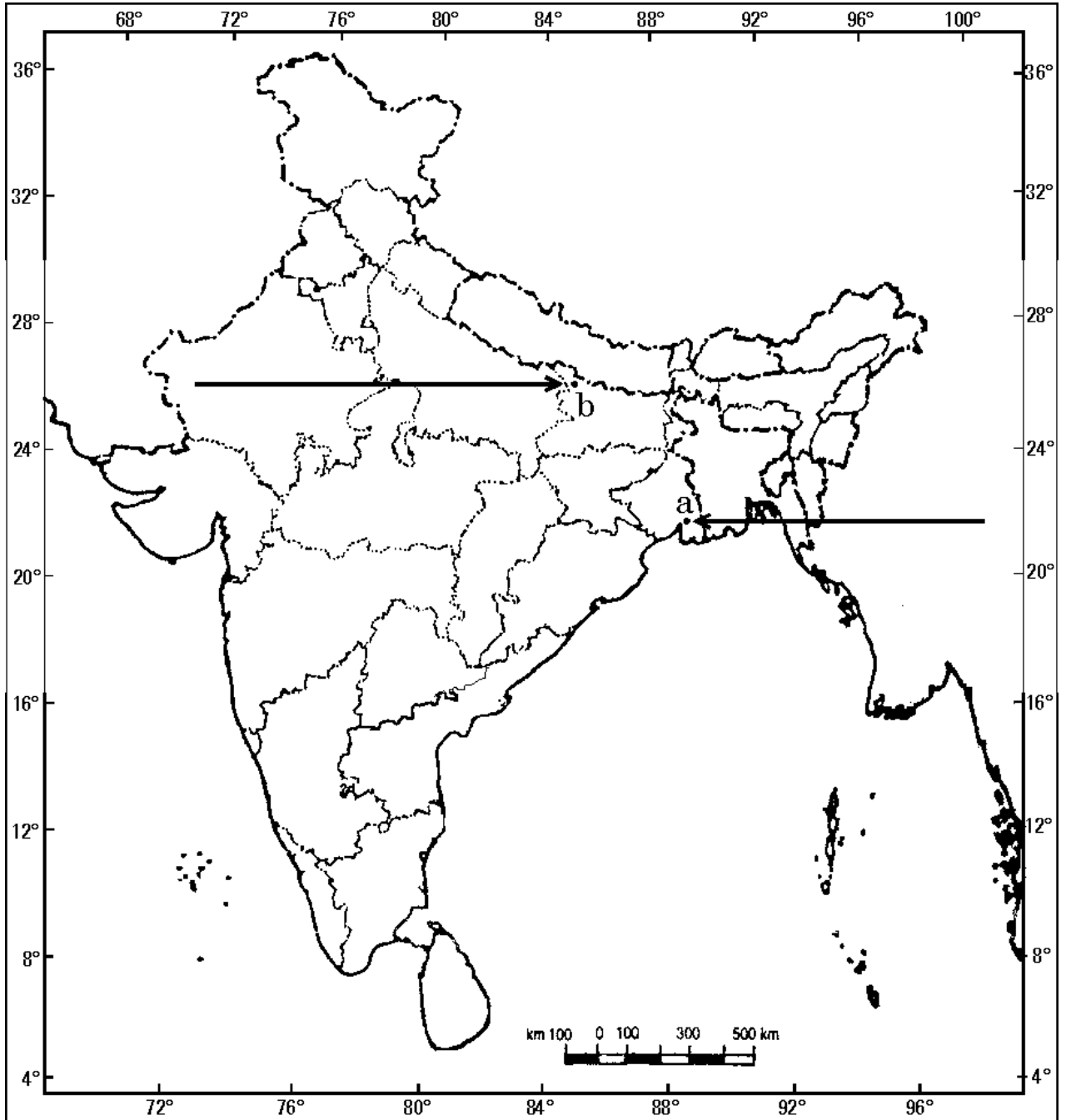
- (26.1) असहयोग आंदोलन को वापस लेने से संबंधित स्थान का नाम लिखिए ।
- (26.2) भारतीय राष्ट्रीय काँग्रेस का गठन कहाँ हुआ था ?
- (26.3) जलियाँवाला बाग घटना किस राज्य में घटित हुई ?
- (26.4) तारापुर आण्विक ऊर्जा संयंत्र किस राज्य में स्थित है ?
- (26.5) उस राज्य का नाम लिखिए, जहाँ मोहाली सॉफ्टवेयर टेक्नोलॉजी पार्क स्थित है ।
- (26.6) उस राज्य का नाम लिखिए, जहाँ दुर्गापुर लोहा और इस्पात संयंत्र स्थित है ।
- (26.7) कांडला समुद्री पत्तन भारत के किस तट पर स्थित है ? 1×5=5
- (26.1) Name the place related to the calling off of the Non-Cooperation Movement.
- (26.2) Where was the Indian National Congress formed ?
- (26.3) In which State did Jallianwala Bagh incident happen ?
- (26.4) In which State is Tarapur Nuclear Power Plant situated ?
- (26.5) Name the State where Mohali Software Technology Park is situated.
- (26.6) Name the State where Durgapur Iron and Steel Plant is located.
- (26.7) On which coast of India is Kandla Sea Port located ?



प्रश्न सं. 26 के लिए

For question no. 26

भारत का रेखा-मानचित्र (राजनीतिक)  
Outline Map of India (Political)



**SET-1****Series JMS/5**कोड नं. **32/5/1**  
Code No.रोल नं. 

--	--	--	--	--	--	--

  
Roll No.

परीक्षार्थी कोड को उत्तर-पुस्तिका के मुख-पृष्ठ पर अवश्य लिखें ।

Candidates must write the Code on the title page of the answer-book.

- कृपया जाँच कर लें कि इस प्रश्न-पत्र में मुद्रित पृष्ठ **10 + 1** मानचित्र हैं ।
- प्रश्न-पत्र में दाहिने हाथ की ओर दिए गए कोड नम्बर को छात्र उत्तर-पुस्तिका के मुख-पृष्ठ पर लिखें ।
- कृपया जाँच कर लें कि इस प्रश्न-पत्र में **26** प्रश्न हैं ।
- कृपया प्रश्न का उत्तर लिखना शुरू करने से पहले, प्रश्न का क्रमांक अवश्य लिखें ।
- इस प्रश्न-पत्र को पढ़ने के लिए 15 मिनट का समय दिया गया है । प्रश्न-पत्र का वितरण पूर्वाह्न में 10.15 बजे किया जाएगा । 10.15 बजे से 10.30 बजे तक छात्र केवल प्रश्न-पत्र को पढ़ेंगे और इस अवधि के दौरान वे उत्तर-पुस्तिका पर कोई उत्तर नहीं लिखेंगे ।
- Please check that this question paper contains **10** printed pages + **1** Map.
- Code number given on the right hand side of the question paper should be written on the title page of the answer-book by the candidate.
- Please check that this question paper contains **26** questions.
- **Please write down the Serial Number of the question before attempting it.**
- 15 minute time has been allotted to read this question paper. The question paper will be distributed at 10.15 a.m. From 10.15 a.m. to 10.30 a.m., the students will read the question paper only and will not write any answer on the answer-book during this period.

## सामाजिक विज्ञान

### SOCIAL SCIENCE

निर्धारित समय : 3 घण्टे  
Time allowed : 3 hoursअधिकतम अंक : 80  
Maximum Marks : 80



### सामान्य निर्देश :

- (i) इस प्रश्न-पत्र को चार खण्डों में विभाजित किया गया है। खण्ड क, खण्ड ख, खण्ड ग और खण्ड घ।
- (ii) इस प्रश्न-पत्र में कुल 26 प्रश्न हैं।
- (iii) सभी प्रश्न अनिवार्य हैं।
- (iv) प्रत्येक प्रश्न के अंक उसके सामने दिए गए हैं।
- (v) प्रश्न संख्या 1 से 7 तक अति लघु-उत्तरीय प्रश्न हैं। प्रत्येक प्रश्न 1 अंक का है।
- (vi) प्रश्न संख्या 8 से 18 तक प्रत्येक प्रश्न 3 अंक का है। इनमें से प्रत्येक प्रश्न का उत्तर 80 शब्दों से अधिक का नहीं होना चाहिए।
- (vii) प्रश्न संख्या 19 से 25 तक प्रत्येक प्रश्न 5 अंक का है। इनमें से प्रत्येक प्रश्न का उत्तर 100 शब्दों से अधिक का नहीं होना चाहिए।
- (viii) प्रश्न संख्या 26 मानचित्र प्रश्न 5 अंक का है। इसके दो भाग हैं – 26 (A) और 26 (B)। 26 (A) 2 अंक का इतिहास से तथा 26 (B) 3 अंक का भूगोल से है। मानचित्र का प्रश्न पूर्ण होने पर उसे अपनी उत्तर-पुस्तिका के अन्दर नत्थी कीजिए।

### General Instructions :

- (i) The question paper is divided into four sections – Section A, Section B, Section C and Section D.
- (ii) The question paper has 26 questions in all.
- (iii) All questions are **compulsory**.
- (iv) Marks are indicated against each question.
- (v) Questions from serial number 1 to 7 are Very Short Answer Type Questions. Each question carries 1 mark.
- (vi) Questions from serial number 8 to 18 are 3 marks questions. Answers to these questions should not exceed 80 words each.
- (vii) Questions from serial number 19 to 25 are 5 marks questions. Answers to these questions should not exceed 100 words each.
- (viii) Question number 26 is a map question of 5 marks with two parts 26 (A) and 26 (B) – 26 (A) from History (2 marks) and 26 (B) from Geography (3 marks). After completion, attach the map inside your answer-book.





खण्ड क  
SECTION A

1. कौन-सा राष्ट्र सॉर्यू के सपने के संसार में क्रांतिकारी तिरंगे से पहचाना गया ? 1

अथवा

औपनिवेशिक काल में फ्रांसीसियों द्वारा वियतनामवासियों को आधुनिक दिखने के लिए किस प्रकार प्रोत्साहित किया गया ? 1

Which nation was identifiable in the revolutionary tricolour in Sorrieu's utopian vision ?

OR

How were the Vietnamese encouraged by the French to look modern, during the colonial period ?

2. 'खुशनवीसी' शब्द के अर्थ की व्याख्या कीजिए । 1

अथवा

'पत्रात्मक' शब्द के अर्थ की व्याख्या कीजिए । 1

Explain the meaning of the term 'Calligraphy'.

OR

Explain the meaning of the term 'Epistolary'.

3. भूमि एक बहुत महत्वपूर्ण प्राकृतिक संसाधन के रूप में जाना जाता है, इसका एक कारण उजागर कीजिए । 1

अथवा

समोच्च जुताई के महत्व को उजागर कीजिए । 1

Highlight the reason for land being known as an utmost important natural resource.

OR

Highlight the importance of contour ploughing.

4. लोकतांत्रिक व्यवस्थाओं में सत्ता की साझेदारी क्यों अच्छी है ? एक कारण स्पष्ट कीजिए । 1

Why is power sharing good for democracies ? Explain one reason.



5. मुद्रा को विनिमय का माध्यम क्यों कहा जाता है ? 1  
अथवा  
माँग जमाओं को मुद्रा के रूप में क्यों समझा जाता है ? 1  
Why is money called a medium of exchange ?

**OR**

Why are demand deposits considered as money ?

6. बहुराष्ट्रीय कम्पनियों और घरेलू कम्पनियों में अन्तर स्पष्ट कीजिए । 1  
Differentiate between multinational corporations and domestic companies.
7. मान लीजिए कि आपको शहद की एक शीशी खरीदनी है । इसकी गुणवत्ता सुनिश्चित करने के लिए आप कौन-सा शब्द चिह्न (लोगो) देखना चाहेंगे ? 1  
Suppose you have to purchase a bottle of honey. Which logo of quality would you like to see to ensure its quality ?

**खण्ड ख**

**SECTION B**

8. जर्मनी के निर्माण में ऑटो वॉन बिस्मार्क की भूमिका का वर्णन कीजिए । 3  
अथवा  
वियतनाम में 'साम्राज्य विरोधी आंदोलन' में महिलाओं की भूमिका का वर्णन कीजिए । 3  
Describe the role of Otto von Bismarck in the making of Germany.

**OR**

Describe the role of women in the 'Anti-Imperialist Movement' in Vietnam.

9. "सोलहवीं सदी यूरोप में मुद्रण क्रांति ने लोगों का जीवन बदल दिया ।" उपयुक्त तर्कों सहित इस कथन की पुष्टि कीजिए । 3  
अथवा  
"उन्नीसवीं सदी के यूरोपीय उपन्यासों ने महिलाओं के शामिल होने को चित्रित किया ।" इस कथन की उपयुक्त उदाहरणों सहित पुष्टि कीजिए । 3



“Print Revolution in sixteenth century Europe transformed the lives of people.” Support the statement with suitable arguments.

**OR**

“The nineteenth century European novels depicted the involvement of women.” Support the statement with suitable examples.

10. “नगरीकरण ने जल की दुर्लभता को बढ़ाया है ।” तर्कों सहित इस कथन की पुष्टि कीजिए । 3

**अथवा**

“वर्षा-जल संग्रहण पद्धति, जल की दुर्लभता की समस्या को कम करने का एक प्रभावी उपाय है ।” कथन को न्यायोचित ठहराइए । 3

“Urbanisation has added to water scarcity.” Support the statement with arguments.

**OR**

“Water harvesting system is an effective measure to reduce the problem of water scarcity.” Justify the statement.

11. निम्नलिखित को खरीफ फ़सलों और रबी फ़सलों में वर्गीकृत कीजिए : 3

- (i) गेहूँ
- (ii) मक्का
- (iii) जौ
- (iv) मटर
- (v) बाजरा
- (vi) तुर (अरहर)

Categorise the following as Kharif crops and Rabi crops :

- (i) Wheat
- (ii) Maize
- (iii) Barley
- (iv) Peas
- (v) Bajra
- (vi) Tur (Arhar)



12. 'संघवाद' की किन्हीं तीन विशेषताओं का वर्णन कीजिए ।

1×3=3

**अथवा**

सांविधानिक संशोधन, 1992 द्वारा स्थानीय स्वशासी निकायों को सशक्त बनाने के लिए उठाए गए किन्हीं तीन कदमों का वर्णन कीजिए ।

1×3=3

Describe any three features of 'federalism'.

**OR**

Describe any three steps taken to strengthen the local self-governments, by the Constitutional Amendment, 1992.

13. "राजनीति और सामाजिक विभाजनों का आपस में मेल नहीं होना चाहिए ।" कथन को न्यायसंगत ठहराइए ।

3

"Politics and social divisions should not be allowed to mix." Justify the statement.

14. "लोकतांत्रिक शासन व्यवस्थाएँ विविध सामाजिक विभाजनों में सामंजस्य बैठाती हैं ।" इस कथन की पुष्टि कीजिए ।

3

"Democracies accommodate various social divisions." Support the statement.

15. अलग-अलग लोगों के विकास के लक्ष्य किस प्रकार भिन्न होते हैं ? उदाहरणों सहित स्पष्ट कीजिए ।

3

How do different persons have different developmental goals ? Explain with examples.

16. भारतीय रिज़र्व बैंक के किन्हीं तीन कार्यों को स्पष्ट कीजिए ।

1×3=3

**अथवा**

ऋण की तीन महत्वपूर्ण शर्तों की व्याख्या कीजिए ।

1×3=3

Explain any three functions of the Reserve Bank of India.

**OR**

Explain the three important terms of credit.



17. वैश्वीकरण को अधिक न्यायसंगत बनाने के किन्हीं तीन कारकों का विश्लेषण कीजिए ।  $1 \times 3 = 3$

**अथवा**

भारत में बहुराष्ट्रीय कम्पनियों (एम.एन.सी.) पर वैश्वीकरण के प्रभावों का विश्लेषण कीजिए । 3

Analyse any three factors that make globalization more fair.

**OR**

Analyse the impact of globalization on Multi-national Corporations (MNCs) in India.

18. उपभोक्ताओं के किन्हीं तीन अधिकारों को उजागर कीजिए ।  $1 \times 3 = 3$

Highlight any three rights of consumers.

**खण्ड ग**

### **SECTION C**

19. अफ्रीका में 1890 के दशक में 'रिंडरपेस्ट' के प्रभावों का वर्णन कीजिए । 5

**अथवा**

'औद्योगिक क्रान्ति' के बाद यूरोप में मज़दूरों की दशाओं का वर्णन कीजिए । 5

**अथवा**

उन्नीसवीं सदी के मध्य में लंदन में अपराधीकरण के विरोध में परोपकारी समाज द्वारा किए गए प्रयासों का वर्णन कीजिए । 5

Describe the impact of 'Rinderpest' in Africa in the 1890s.

**OR**

Describe the conditions of workers in Europe after the Industrial Revolution.

**OR**

Describe the efforts made by philanthropists to counter criminalisation in London in the mid-nineteenth century.





20. 'सविनय अवज्ञा आंदोलन' की सीमाओं की व्याख्या कीजिए ।

5

**अथवा**

भारत की आर्थिक और राजनीतिक स्थिति पर 'प्रथम विश्व युद्ध' के परिणामों की व्याख्या कीजिए ।

5

Explain the limitations of the 'Civil Disobedience Movement'.

**OR**

Explain the implications of the 'First World War' on the economic and political situation of India.

21. भारतीय अर्थव्यवस्था में वस्त्र उद्योग का विशिष्ट महत्त्व क्यों है ? स्पष्ट कीजिए ।

5

Why does the textile industry occupy an important position in the Indian economy ? Explain.

22. भारत में पर्यटन के किन्हीं पाँच लाभों का वर्णन कीजिए ।

1×5=5

Describe any five benefits of tourism in India.

23. 'धर्मनिरपेक्षता' शब्द को परिभाषित कीजिए । भारत में धर्मनिरपेक्षता की किन्हीं चार विशेषताओं की व्याख्या कीजिए ।

1+4=5

Define the term 'Secularism'. Explain any four features of secularism in India.

24. लोकतंत्र को मज़बूत करने में राजनीतिक दलों के किन्हीं पाँच कार्यों को उजागर कीजिए ।

1×5=5

**अथवा**

हमारे लिए राजनीतिक दलों की ज़रूरत क्यों है ? किन्हीं पाँच कारणों को उजागर कीजिए ।

1×5=5

Highlight any five functions of political parties to strengthen democracy.

**OR**

Why do we need political parties ? Highlight any five reasons.

25. संगठित क्षेत्रक के किन्हीं पाँच लाभों को उदाहरणों सहित उजागर कीजिए ।

1×5=5

Highlight any five benefits of organised sector, with examples.



## खण्ड घ

### SECTION D

26. (A) दो लक्षण 'a' और 'b' दिए गए **भारत** के राजनीतिक रेखा-मानचित्र (पृष्ठ 11 पर), में अंकित किए गए हैं। इन लक्षणों को निम्नलिखित जानकारी की सहायता से पहचानिए और उनके सही नाम उनके समीप खींची गई रेखाओं पर लिखिए :  $1 \times 2 = 2$
- (a) वह स्थान जहाँ भारतीय राष्ट्रीय कांग्रेस का अधिवेशन हुआ।
- (b) वह स्थान जहाँ गाँधीजी ने सूती मिल मज़दूरों के पक्ष में सत्याग्रह किया।
- (B) इसी दिए गए **भारत** के राजनीतिक रेखा-मानचित्र में निम्नलिखित में से **किन्हीं तीन** को उपयुक्त चिह्नों से दर्शाइए और उनके नाम लिखिए :  $1 \times 3 = 3$
- (i) राजा सांसी – अन्तर्राष्ट्रीय हवाई पत्तन
- (ii) भद्रावती – लोहा और इस्पात संयंत्र
- (iii) पश्चिम बंगाल का सॉफ्टवेयर टेक्नोलॉजी पार्क
- (iv) टिहरी – बाँध
- (v) कैगा – आण्विक ऊर्जा संयंत्र
- (A) Two features 'a' and 'b' are marked on the given political outline map of **India** (on page 11). Identify these features with the help of the following information and write their correct names on the lines marked near them :
- (a) The place where the Indian National Congress Session was held.
- (b) The place where Gandhiji organized Satyagraha in favour of cotton mill workers.
- (B) Locate and label **any three** of the following with appropriate symbols on the same given political outline map of **India** :
- (i) Raja Sansi – International Airport
- (ii) Bhadravati – Iron and Steel Plant
- (iii) Software Technology Park of West Bengal
- (iv) Tehri – Dam
- (v) Kaiga – Nuclear Power Plant



**नोट :** निम्नलिखित प्रश्न केवल दृष्टिबाधित परीक्षार्थियों के लिए प्रश्न संख्या 26 के स्थान पर हैं । किन्हीं पाँच प्रश्नों के उत्तर लिखिए :

**Note :** The following questions are for the **Visually Impaired Candidates** only, in lieu of Q. No. 26. Attempt **any five** questions :

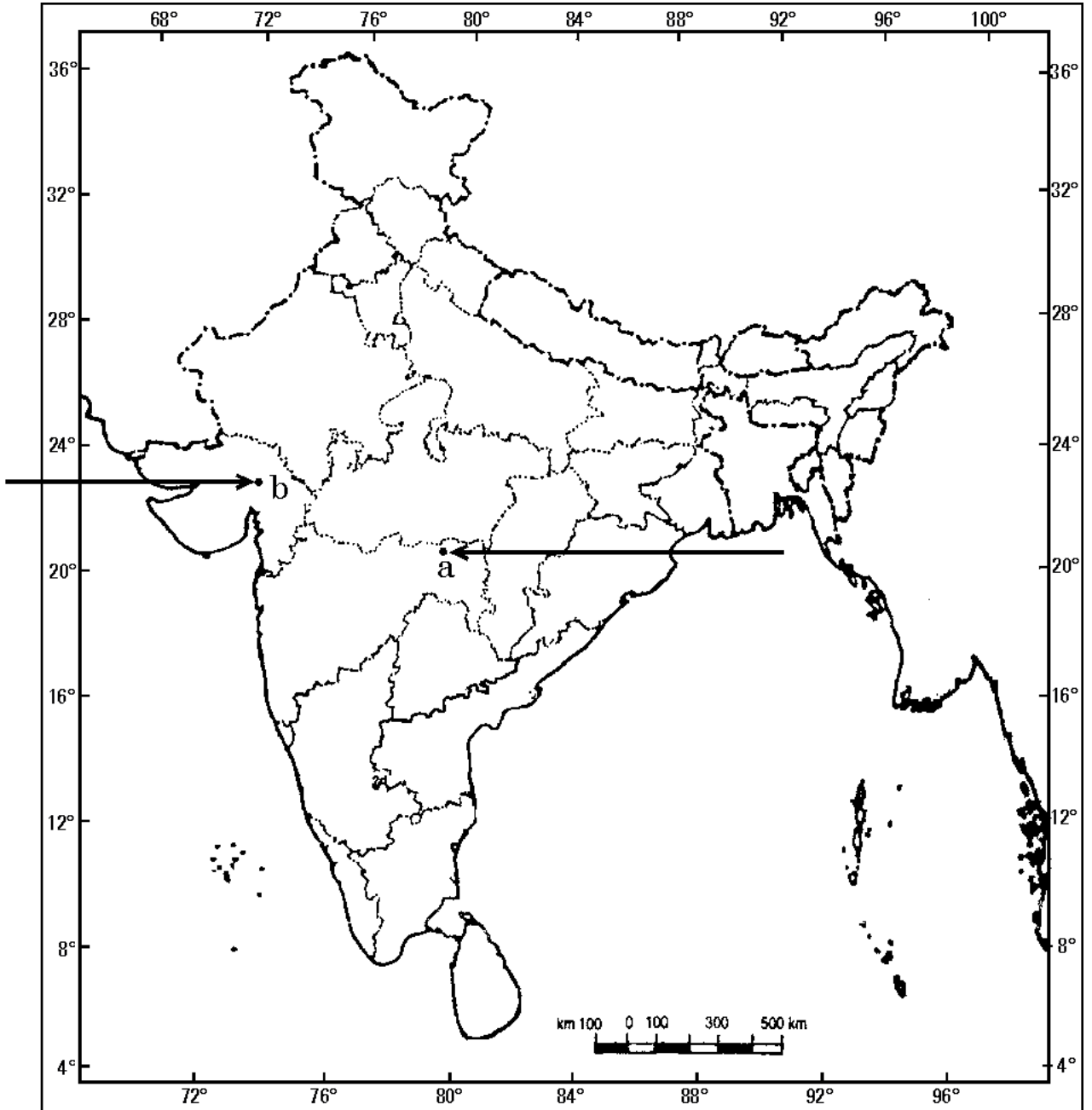
- (26.1) उस राज्य का नाम लिखिए, जहाँ नील की खेती करने वाले किसानों ने सत्याग्रह किया ।
- (26.2) उस राज्य का नाम लिखिए, जहाँ गाँधीजी ने नमक कानून को तोड़ा ।
- (26.3) उस राज्य का नाम लिखिए, जहाँ जलियाँवाला बाग हत्याकांड हुआ ।
- (26.4) उस राज्य का नाम लिखिए, जहाँ राजा सांसी अन्तर्राष्ट्रीय हवाई पत्तन स्थित है ।
- (26.5) उस राज्य का नाम लिखिए, जहाँ सेलम लोहा और इस्पात संयंत्र स्थित है ।
- (26.6) उस राज्य का नाम लिखिए, जहाँ नरोरा आण्विक ऊर्जा संयंत्र स्थित है ।
- (26.7) पश्चिम बंगाल के सॉफ्टवेयर टेक्नोलॉजी पार्क का नाम लिखिए । 1×5=5
- (26.1) Name the State where the Indigo planters organized Satyagraha.
- (26.2) Name the State where Gandhiji violated the salt law.
- (26.3) Name the State where the Jallianwala Bagh Massacre took place.
- (26.4) Name the State where Raja Sansi International Airport is located.
- (26.5) Name the State where Salem Iron and Steel Plant is located.
- (26.6) Name the State where Naraura Nuclear Power Plant is located.
- (26.7) Name the Software Technology Park of West Bengal.



प्रश्न सं. 26 के लिए

For question no. 26

भारत का रेखा-मानचित्र (राजनीतिक)  
Outline Map of India (Political)



**SET-2****Series JMS/5**कोड नं. **32/5/2**  
Code No.रोल नं. 

--	--	--	--	--	--	--

  
Roll No.

परीक्षार्थी कोड को उत्तर-पुस्तिका के मुख-पृष्ठ पर अवश्य लिखें ।

Candidates must write the Code on the title page of the answer-book.

- कृपया जाँच कर लें कि इस प्रश्न-पत्र में मुद्रित पृष्ठ **10 + 1** मानचित्र हैं ।
- प्रश्न-पत्र में दाहिने हाथ की ओर दिए गए कोड नम्बर को छात्र उत्तर-पुस्तिका के मुख-पृष्ठ पर लिखें ।
- कृपया जाँच कर लें कि इस प्रश्न-पत्र में **26** प्रश्न हैं ।
- कृपया प्रश्न का उत्तर लिखना शुरू करने से पहले, प्रश्न का क्रमांक अवश्य लिखें ।
- इस प्रश्न-पत्र को पढ़ने के लिए 15 मिनट का समय दिया गया है । प्रश्न-पत्र का वितरण पूर्वाह्न में 10.15 बजे किया जाएगा । 10.15 बजे से 10.30 बजे तक छात्र केवल प्रश्न-पत्र को पढ़ेंगे और इस अवधि के दौरान वे उत्तर-पुस्तिका पर कोई उत्तर नहीं लिखेंगे ।
- Please check that this question paper contains **10** printed pages + **1** Map.
- Code number given on the right hand side of the question paper should be written on the title page of the answer-book by the candidate.
- Please check that this question paper contains **26** questions.
- **Please write down the Serial Number of the question before attempting it.**
- 15 minute time has been allotted to read this question paper. The question paper will be distributed at 10.15 a.m. From 10.15 a.m. to 10.30 a.m., the students will read the question paper only and will not write any answer on the answer-book during this period.

## सामाजिक विज्ञान

### SOCIAL SCIENCE

निर्धारित समय : 3 घण्टे  
Time allowed : 3 hoursअधिकतम अंक : 80  
Maximum Marks : 80





### सामान्य निर्देश :

- (i) इस प्रश्न-पत्र को चार खण्डों में विभाजित किया गया है। खण्ड क, खण्ड ख, खण्ड ग और खण्ड घ।
- (ii) इस प्रश्न-पत्र में कुल 26 प्रश्न हैं।
- (iii) सभी प्रश्न अनिवार्य हैं।
- (iv) प्रत्येक प्रश्न के अंक उसके सामने दिए गए हैं।
- (v) प्रश्न संख्या 1 से 7 तक अति लघु-उत्तरीय प्रश्न हैं। प्रत्येक प्रश्न 1 अंक का है।
- (vi) प्रश्न संख्या 8 से 18 तक प्रत्येक प्रश्न 3 अंक का है। इनमें से प्रत्येक प्रश्न का उत्तर 80 शब्दों से अधिक का नहीं होना चाहिए।
- (vii) प्रश्न संख्या 19 से 25 तक प्रत्येक प्रश्न 5 अंक का है। इनमें से प्रत्येक प्रश्न का उत्तर 100 शब्दों से अधिक का नहीं होना चाहिए।
- (viii) प्रश्न संख्या 26 मानचित्र प्रश्न 5 अंक का है। इसके दो भाग हैं – 26 (A) और 26 (B)। 26 (A) 2 अंक का इतिहास से तथा 26 (B) 3 अंक का भूगोल से है। मानचित्र का प्रश्न पूर्ण होने पर उसे अपनी उत्तर-पुस्तिका के अन्दर नत्थी कीजिए।

### General Instructions :

- (i) The question paper is divided into four sections – Section A, Section B, Section C and Section D.
- (ii) The question paper has 26 questions in all.
- (iii) All questions are **compulsory**.
- (iv) Marks are indicated against each question.
- (v) Questions from serial number 1 to 7 are Very Short Answer Type Questions. Each question carries 1 mark.
- (vi) Questions from serial number 8 to 18 are 3 marks questions. Answers to these questions should not exceed 80 words each.
- (vii) Questions from serial number 19 to 25 are 5 marks questions. Answers to these questions should not exceed 100 words each.
- (viii) Question number 26 is a map question of 5 marks with two parts 26 (A) and 26 (B) – 26 (A) from History (2 marks) and 26 (B) from Geography (3 marks). After completion, attach the map inside your answer-book.



खण्ड क  
SECTION A

1. भूमि एक बहुत महत्वपूर्ण प्राकृतिक संसाधन के रूप में जाना जाता है, इसका एक कारण उजागर कीजिए । 1

अथवा

समोच्च जुताई के महत्व को उजागर कीजिए । 1

Highlight the reason for land being known as an utmost important natural resource.

OR

Highlight the importance of contour ploughing.

2. मुद्रा को विनिमय का माध्यम क्यों कहा जाता है ? 1

अथवा

माँग जमाओं को मुद्रा के रूप में क्यों समझा जाता है ? 1

Why is money called a medium of exchange ?

OR

Why are demand deposits considered as money ?

3. कौन-सा राष्ट्र सॉर्र्यू के सपने के संसार में क्रांतिकारी तिरंगे से पहचाना गया ? 1

अथवा

औपनिवेशिक काल में फ्रांसीसियों द्वारा वियतनामवासियों को आधुनिक दिखने के लिए किस प्रकार प्रोत्साहित किया गया ? 1

Which nation was identifiable in the revolutionary tricolour in Sorrieu's utopian vision ?

OR

How were the Vietnamese encouraged by the French to look modern, during the colonial period ?

4. 'सत्ता में साझेदारी' का कोई एक लाभ स्पष्ट कीजिए । 1

Explain any one benefit of 'Power Sharing'.



5. 'खुशनवीसी' शब्द के अर्थ की व्याख्या कीजिए । 1  
अथवा  
'पत्रात्मक' शब्द के अर्थ की व्याख्या कीजिए । 1  
Explain the meaning of the term 'Calligraphy'.  
**OR**  
Explain the meaning of the term 'Epistolary'.
6. 'व्यापार अवरोधक' का कोई एक उदाहरण लिखिए । 1  
State any one example of "Trade Barrier".
7. स्वर्ण के आभूषणों पर गुणवत्ता का कौन-सा शब्द चिह्न (लोगो) अंकित होता है ? 1  
Which logo of quality is marked on the gold jewellery ?

### खण्ड ख

### SECTION B

8. "सोलहवीं सदी यूरोप में मुद्रण क्रांति ने लोगों का जीवन बदल दिया ।" उपयुक्त तर्कों सहित इस कथन की पुष्टि कीजिए । 3  
अथवा  
"उन्नीसवीं सदी के यूरोपीय उपन्यासों ने महिलाओं के शामिल होने को चित्रित किया ।" इस कथन की उपयुक्त उदाहरणों सहित पुष्टि कीजिए । 3  
"Print Revolution in sixteenth century Europe transformed the lives of people." Support the statement with suitable arguments.  
**OR**  
"The nineteenth century European novels depicted the involvement of women." Support the statement with suitable examples.
9. "नगरीकरण ने जल की दुर्लभता को बढ़ाया है ।" तर्कों सहित इस कथन की पुष्टि कीजिए । 3  
अथवा  
"वर्षा-जल संग्रहण पद्धति, जल की दुर्लभता की समस्या को कम करने का एक प्रभावी उपाय है ।" कथन को न्यायोचित ठहराइए । 3



“Urbanisation has added to water scarcity.” Support the statement with arguments.

**OR**

“Water harvesting system is an effective measure to reduce the problem of water scarcity.” Justify the statement.

10. जर्मनी के निर्माण में ऑटो वॉन बिस्मार्क की भूमिका का वर्णन कीजिए । 3

**अथवा**

वियतनाम में ‘साम्राज्य विरोधी आंदोलन’ में महिलाओं की भूमिका का वर्णन कीजिए । 3

Describe the role of Otto von Bismarck in the making of Germany.

**OR**

Describe the role of women in the ‘Anti-Imperialist Movement’ in Vietnam.

11. निम्नलिखित को ‘रबी फसलों’ और ‘ज़ायद फसलों’ में वर्गीकृत कीजिए : 3

(i) गेहूँ

(ii) तरबूज़

(iii) चारे की फसलें

(iv) सरसों

(v) खीरा

(vi) मटर

Categorise the following as ‘Rabi crops’ and ‘Zaid crops’ :

(i) Wheat

(ii) Watermelon

(iii) Fodder crops

(iv) Mustard

(v) Cucumber

(vi) Peas



12. उपभोक्ताओं के किन्हीं तीन अधिकारों को उजागर कीजिए । 1×3=3  
Highlight any three rights of consumers.
13. वैश्वीकरण को अधिक न्यायसंगत बनाने के किन्हीं तीन कारकों का विश्लेषण कीजिए । 1×3=3

**अथवा**

भारत में बहुराष्ट्रीय कम्पनियों (एम.एन.सी.) पर वैश्वीकरण के प्रभावों का विश्लेषण कीजिए । 3  
Analyse any three factors that make globalization more fair.

**OR**

Analyse the impact of globalization on Multi-national Corporations (MNCs) in India.

14. “सामाजिक विभाजन तब होता है जब कुछ सामाजिक अंतर दूसरी अनेक विभिन्नताओं से ऊपर और बड़े हो जाते हैं।” कथन की पुष्टि कीजिए । 3

“Social division takes place when some social differences overlap with other social differences.” Support the statement.

15. भारतीय रिज़र्व बैंक के किन्हीं तीन कार्यों को स्पष्ट कीजिए । 1×3=3

**अथवा**

ऋण की तीन महत्वपूर्ण शर्तों की व्याख्या कीजिए । 1×3=3  
Explain any three functions of the Reserve Bank of India.

**OR**

Explain the three important terms of credit.

16. अलग-अलग लोगों के विकास के लक्ष्य किस प्रकार भिन्न होते हैं ? उदाहरणों सहित स्पष्ट कीजिए । 3

How do different persons have different developmental goals ? Explain with examples.

17. ‘संघवाद’ की किन्हीं तीन विशेषताओं का वर्णन कीजिए । 1×3=3

**अथवा**

सांविधानिक संशोधन, 1992 द्वारा स्थानीय स्वशासी निकायों को सशक्त बनाने के लिए उठाए गए किन्हीं तीन कदमों का वर्णन कीजिए । 1×3=3





Describe any three features of 'federalism'.

**OR**

Describe any three steps taken to strengthen the local self-governments, by the Constitutional Amendment, 1992.

18. "राजनीति और सामाजिक विभाजनों का आपस में मेल नहीं होना चाहिए ।" कथन को न्यायसंगत ठहराइए । 3

"Politics and social divisions should not be allowed to mix." Justify the statement.

**खण्ड ग**

**SECTION C**

19. भारत में पर्यटन के किन्हीं पाँच लाभों का वर्णन कीजिए । 1×5=5  
Describe any five benefits of tourism in India.

20. अफ्रीका में 1890 के दशक में 'रिंडरपेस्ट' के प्रभावों का वर्णन कीजिए । 5

**अथवा**

'औद्योगिक क्रान्ति' के बाद यूरोप में मज़दूरों की दशाओं का वर्णन कीजिए । 5

**अथवा**

उन्नीसवीं सदी के मध्य में लंदन में अपराधीकरण के विरोध में परोपकारी समाज द्वारा किए गए प्रयासों का वर्णन कीजिए । 5

Describe the impact of 'Rinderpest' in Africa in the 1890s.

**OR**

Describe the conditions of workers in Europe after the Industrial Revolution.

**OR**

Describe the efforts made by philanthropists to counter criminalisation in London in the mid-nineteenth century.



21. किसी देश के आर्थिक विकास में विनिर्माण क्षेत्रक के महत्त्व की व्याख्या कीजिए । 5

Explain the importance of manufacturing sector in the economic development of a country.

22. लोकतंत्र को मज़बूत करने में राजनीतिक दलों के किन्हीं पाँच कार्यों को उजागर कीजिए । 1×5=5

**अथवा**

हमारे लिए राजनीतिक दलों की ज़रूरत क्यों है ? किन्हीं पाँच कारणों को उजागर कीजिए । 1×5=5

Highlight any five functions of political parties to strengthen democracy.

**OR**

Why do we need political parties ? Highlight any five reasons.

23. भारत में महिलाओं के राजनीतिक प्रतिनिधित्व को बढ़ाने के किन्हीं पाँच तरीकों को स्पष्ट कीजिए । 1×5=5

Explain any five methods to raise the political representation of women in India.

24. 'सविनय अवज्ञा आंदोलन' की सीमाओं की व्याख्या कीजिए । 5

**अथवा**

भारत की आर्थिक और राजनीतिक स्थिति पर 'प्रथम विश्व युद्ध' के परिणामों की व्याख्या कीजिए । 5

Explain the limitations of the 'Civil Disobedience Movement'.

**OR**

Explain the implications of the 'First World War' on the economic and political situation of India.

25. 'सार्वजनिक क्षेत्रक' की किन्हीं पाँच विशेषताओं को उजागर कीजिए । 1×5=5

Highlight any five features of 'Public Sector.'



## खण्ड घ

### SECTION D

26. (A) दो लक्षण 'a' और 'b' दिए गए **भारत** के राजनीतिक रेखा-मानचित्र (पृष्ठ 11 पर), में अंकित किए गए हैं। इन लक्षणों को निम्नलिखित जानकारी की सहायता से पहचानिए और उनके सही नाम उनके समीप खींची गई रेखाओं पर लिखिए : 1×2=2
- (a) वह स्थान जहाँ भारतीय राष्ट्रीय कांग्रेस का अधिवेशन हुआ।
- (b) वह स्थान जहाँ गाँधीजी ने सूती मिल मज़दूरों के पक्ष में सत्याग्रह किया।
- (B) इसी दिए गए **भारत** के राजनीतिक रेखा-मानचित्र में निम्नलिखित में से **किन्हीं तीन** को उपयुक्त चिह्नों से दर्शाइए और उनके नाम लिखिए : 1×3=3
- (i) राजा सांसी – अन्तर्राष्ट्रीय हवाई पत्तन
- (ii) भद्रावती – लोहा और इस्पात संयंत्र
- (iii) पश्चिम बंगाल का सॉफ्टवेयर टेक्नोलॉजी पार्क
- (iv) टिहरी – बाँध
- (v) कैगा – आण्विक ऊर्जा संयंत्र
- (A) Two features 'a' and 'b' are marked on the given political outline map of **India** (on page 11). Identify these features with the help of the following information and write their correct names on the lines marked near them :
- (a) The place where the Indian National Congress Session was held.
- (b) The place where Gandhiji organized Satyagraha in favour of cotton mill workers.
- (B) Locate and label **any three** of the following with appropriate symbols on the same given political outline map of **India** :
- (i) Raja Sansi – International Airport
- (ii) Bhadravati – Iron and Steel Plant
- (iii) Software Technology Park of West Bengal
- (iv) Tehri – Dam
- (v) Kaiga – Nuclear Power Plant



**नोट :** निम्नलिखित प्रश्न केवल दृष्टिबाधित परीक्षार्थियों के लिए प्रश्न संख्या 26 के स्थान पर हैं । किन्हीं पाँच प्रश्नों के उत्तर लिखिए :

**Note :** The following questions are for the **Visually Impaired Candidates** only, in lieu of Q. No. 26. Attempt **any five** questions :

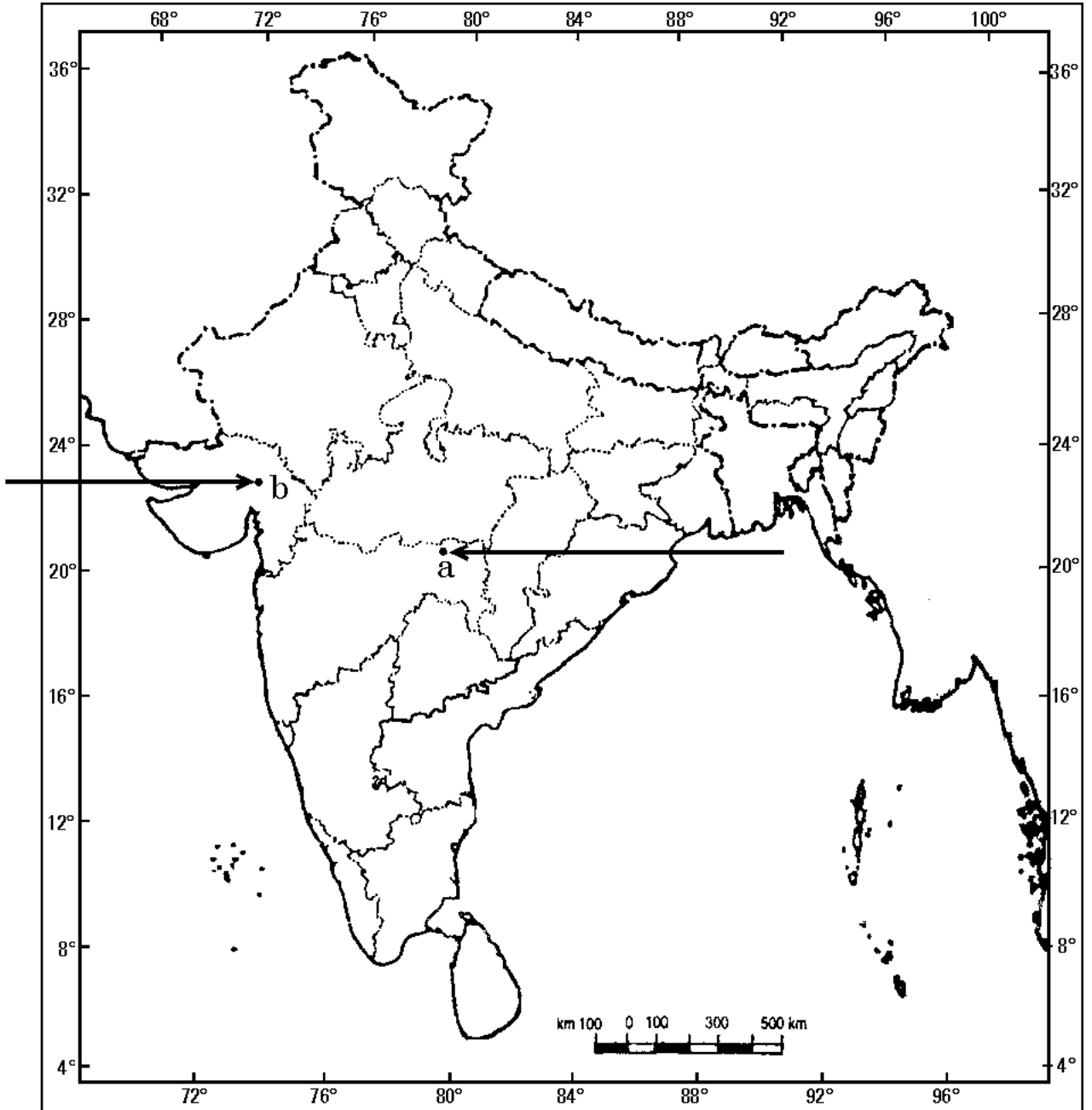
- (26.1) उस राज्य का नाम लिखिए, जहाँ नील की खेती करने वाले किसानों ने सत्याग्रह किया ।
- (26.2) उस राज्य का नाम लिखिए, जहाँ गाँधीजी ने नमक कानून को तोड़ा ।
- (26.3) उस राज्य का नाम लिखिए, जहाँ जलियाँवाला बाग हत्याकांड हुआ ।
- (26.4) उस राज्य का नाम लिखिए, जहाँ राजा सांसी अन्तर्राष्ट्रीय हवाई पत्तन स्थित है ।
- (26.5) उस राज्य का नाम लिखिए, जहाँ सेलम लोहा और इस्पात संयंत्र स्थित है ।
- (26.6) उस राज्य का नाम लिखिए, जहाँ नरोरा आण्विक ऊर्जा संयंत्र स्थित है ।
- (26.7) पश्चिम बंगाल के सॉफ्टवेयर टेक्नोलॉजी पार्क का नाम लिखिए । 1×5=5
- (26.1) Name the State where the Indigo planters organized Satyagraha.
- (26.2) Name the State where Gandhiji violated the salt law.
- (26.3) Name the State where the Jallianwala Bagh Massacre took place.
- (26.4) Name the State where Raja Sansi International Airport is located.
- (26.5) Name the State where Salem Iron and Steel Plant is located.
- (26.6) Name the State where Naraura Nuclear Power Plant is located.
- (26.7) Name the Software Technology Park of West Bengal.



प्रश्न सं. 26 के लिए

For question no. 26

भारत का रेखा-मानचित्र (राजनीतिक)  
Outline Map of India (Political)





**SET-3****Series JMS/5**कोड नं. **32/5/3**  
Code No.रोल नं. 

--	--	--	--	--	--	--

  
Roll No.

परीक्षार्थी कोड को उत्तर-पुस्तिका के मुख-पृष्ठ पर अवश्य लिखें ।

Candidates must write the Code on the title page of the answer-book.

- कृपया जाँच कर लें कि इस प्रश्न-पत्र में मुद्रित पृष्ठ **10 + 1** मानचित्र हैं ।
- प्रश्न-पत्र में दाहिने हाथ की ओर दिए गए कोड नम्बर को छात्र उत्तर-पुस्तिका के मुख-पृष्ठ पर लिखें ।
- कृपया जाँच कर लें कि इस प्रश्न-पत्र में **26** प्रश्न हैं ।
- कृपया प्रश्न का उत्तर लिखना शुरू करने से पहले, प्रश्न का क्रमांक अवश्य लिखें ।
- इस प्रश्न-पत्र को पढ़ने के लिए 15 मिनट का समय दिया गया है । प्रश्न-पत्र का वितरण पूर्वाह्न में 10.15 बजे किया जाएगा । 10.15 बजे से 10.30 बजे तक छात्र केवल प्रश्न-पत्र को पढ़ेंगे और इस अवधि के दौरान वे उत्तर-पुस्तिका पर कोई उत्तर नहीं लिखेंगे ।
- Please check that this question paper contains **10** printed pages + **1** Map.
- Code number given on the right hand side of the question paper should be written on the title page of the answer-book by the candidate.
- Please check that this question paper contains **26** questions.
- **Please write down the Serial Number of the question before attempting it.**
- 15 minute time has been allotted to read this question paper. The question paper will be distributed at 10.15 a.m. From 10.15 a.m. to 10.30 a.m., the students will read the question paper only and will not write any answer on the answer-book during this period.

## सामाजिक विज्ञान

### SOCIAL SCIENCE

निर्धारित समय : 3 घण्टे  
Time allowed : 3 hoursअधिकतम अंक : 80  
Maximum Marks : 80



### सामान्य निर्देश :

- (i) इस प्रश्न-पत्र को चार खण्डों में विभाजित किया गया है। खण्ड क, खण्ड ख, खण्ड ग और खण्ड घ।
- (ii) इस प्रश्न-पत्र में कुल 26 प्रश्न हैं।
- (iii) सभी प्रश्न अनिवार्य हैं।
- (iv) प्रत्येक प्रश्न के अंक उसके सामने दिए गए हैं।
- (v) प्रश्न संख्या 1 से 7 तक अति लघु-उत्तरीय प्रश्न हैं। प्रत्येक प्रश्न 1 अंक का है।
- (vi) प्रश्न संख्या 8 से 18 तक प्रत्येक प्रश्न 3 अंक का है। इनमें से प्रत्येक प्रश्न का उत्तर 80 शब्दों से अधिक का नहीं होना चाहिए।
- (vii) प्रश्न संख्या 19 से 25 तक प्रत्येक प्रश्न 5 अंक का है। इनमें से प्रत्येक प्रश्न का उत्तर 100 शब्दों से अधिक का नहीं होना चाहिए।
- (viii) प्रश्न संख्या 26 मानचित्र प्रश्न 5 अंक का है। इसके दो भाग हैं – 26 (A) और 26 (B)। 26 (A) 2 अंक का इतिहास से तथा 26 (B) 3 अंक का भूगोल से है। मानचित्र का प्रश्न पूर्ण होने पर उसे अपनी उत्तर-पुस्तिका के अन्दर नत्थी कीजिए।

### General Instructions :

- (i) The question paper is divided into four sections – Section A, Section B, Section C and Section D.
- (ii) The question paper has 26 questions in all.
- (iii) All questions are **compulsory**.
- (iv) Marks are indicated against each question.
- (v) Questions from serial number 1 to 7 are Very Short Answer Type Questions. Each question carries 1 mark.
- (vi) Questions from serial number 8 to 18 are 3 marks questions. Answers to these questions should not exceed 80 words each.
- (vii) Questions from serial number 19 to 25 are 5 marks questions. Answers to these questions should not exceed 100 words each.
- (viii) Question number 26 is a map question of 5 marks with two parts 26 (A) and 26 (B) – 26 (A) from History (2 marks) and 26 (B) from Geography (3 marks). After completion, attach the map inside your answer-book.



खण्ड क  
SECTION A

1. 'खुशनवीसी' शब्द के अर्थ की व्याख्या कीजिए । 1

अथवा

- 'पत्रात्मक' शब्द के अर्थ की व्याख्या कीजिए । 1

Explain the meaning of the term 'Calligraphy'.

OR

Explain the meaning of the term 'Epistolary'.

2. कौन-सा राष्ट्र सॉरयू के सपने के संसार में क्रांतिकारी तिरंगे से पहचाना गया ? 1

अथवा

- औपनिवेशिक काल में फ्रांसीसियों द्वारा वियतनामवासियों को आधुनिक दिखने के लिए किस प्रकार प्रोत्साहित किया गया ? 1

Which nation was identifiable in the revolutionary tricolour in Sorrieu's utopian vision ?

OR

How were the Vietnamese encouraged by the French to look modern, during the colonial period ?

3. मुद्रा को विनिमय का माध्यम क्यों कहा जाता है ? 1

अथवा

- माँग जमाओं को मुद्रा के रूप में क्यों समझा जाता है ? 1

Why is money called a medium of exchange ?

OR

Why are demand deposits considered as money ?

4. बेल्जियम में 'सत्ता में साझेदारी' का कोई एक तरीका स्पष्ट कीजिए । 1

Explain any one method of 'Power Sharing' in Belgium.



5. भूमि एक बहुत महत्वपूर्ण प्राकृतिक संसाधन के रूप में जाना जाता है, इसका एक कारण उजागर कीजिए । 1

**अथवा**

समोच्च जुताई के महत्त्व को उजागर कीजिए । 1

Highlight the reason for land being known as an utmost important natural resource.

**OR**

Highlight the importance of contour ploughing.

6. 'व्यापार अवरोधक' हटाने के किसी एक लाभ को स्पष्ट कीजिए । 1

Explain any one benefit of removing 'Trade Barriers'.

7. किस प्रकार की वस्तुओं पर गुणवत्ता सुनिश्चित करने के लिए शब्द चिह्न (लोगो) 'एगमार्क' अंकित होता है ? 1

On which type of commodities is the logo 'Agmark' marked to ensure quality ?

**खण्ड ख**

**SECTION B**

8. "नगरीकरण ने जल की दुर्लभता को बढ़ाया है ।" तर्कों सहित इस कथन की पुष्टि कीजिए । 3

**अथवा**

"वर्षा-जल संग्रहण पद्धति, जल की दुर्लभता की समस्या को कम करने का एक प्रभावी उपाय है ।" कथन को न्यायोचित ठहराइए । 3

"Urbanisation has added to water scarcity." Support the statement with arguments.

**OR**

"Water harvesting system is an effective measure to reduce the problem of water scarcity." Justify the statement.

9. जर्मनी के निर्माण में ऑटो वॉन बिस्मार्क की भूमिका का वर्णन कीजिए । 3

**अथवा**

वियतनाम में 'साम्राज्य विरोधी आंदोलन' में महिलाओं की भूमिका का वर्णन कीजिए । 3



Describe the role of Otto von Bismarck in the making of Germany.

**OR**

Describe the role of women in the 'Anti-Imperialist Movement' in Vietnam.

10. "सोलहवीं सदी यूरोप में मुद्रण क्रांति ने लोगों का जीवन बदल दिया ।" उपयुक्त तर्कों सहित इस कथन की पुष्टि कीजिए । 3

**अथवा**

"उन्नीसवीं सदी के यूरोपीय उपन्यासों ने महिलाओं के शामिल होने को चित्रित किया ।" इस कथन की उपयुक्त उदाहरणों सहित पुष्टि कीजिए । 3

"Print Revolution in sixteenth century Europe transformed the lives of people." Support the statement with suitable arguments.

**OR**

"The nineteenth century European novels depicted the involvement of women." Support the statement with suitable examples.

11. निम्नलिखित को 'खरीफ फ़सलों' और 'ज़ायद फ़सलों' में वर्गीकृत कीजिए : 3

- (i) धान (चावल)
- (ii) खीरा
- (iii) बाजरा
- (iv) कपास
- (v) चारे की फ़सलें
- (vi) खरबूज़ा

Categorise the following as 'Kharif crops' and 'Zaid crops' :

- (i) Paddy (Rice)
- (ii) Cucumber
- (iii) Bajra
- (iv) Cotton
- (v) Fodder crops
- (vi) Muskmelon



12. अलग-अलग लोगों के विकास के लक्ष्य किस प्रकार भिन्न होते हैं ? उदाहरणों सहित स्पष्ट कीजिए । 3

How do different persons have different developmental goals ? Explain with examples.

13. भारतीय रिज़र्व बैंक के किन्हीं तीन कार्यों को स्पष्ट कीजिए । 1×3=3

**अथवा**

ऋण की तीन महत्वपूर्ण शर्तों की व्याख्या कीजिए । 1×3=3

Explain any three functions of the Reserve Bank of India.

**OR**

Explain the three important terms of credit.

14. “विभिन्न राजनीतिक दलों में प्रतिद्वंद्विता किसी भी समाज में फूट पैदा कर सकती है ।” कथन की पुष्टि कीजिए । 3

“Competition among various political parties tends to divide any society.”  
Support the statement.

15. उपभोक्ताओं के किन्हीं तीन अधिकारों को उजागर कीजिए । 1×3=3

Highlight any three rights of consumers.

16. ‘संघवाद’ की किन्हीं तीन विशेषताओं का वर्णन कीजिए । 1×3=3

**अथवा**

सांविधानिक संशोधन, 1992 द्वारा स्थानीय स्वशासी निकायों को सशक्त बनाने के लिए उठाए गए किन्हीं तीन कदमों का वर्णन कीजिए । 1×3=3

Describe any three features of ‘federalism’.

**OR**

Describe any three steps taken to strengthen the local self-governments, by the Constitutional Amendment, 1992.





17. “राजनीति और सामाजिक विभाजनों का आपस में मेल नहीं होना चाहिए ।” कथन को न्यायसंगत ठहराइए । 3

“Politics and social divisions should not be allowed to mix.” Justify the statement.

18. वैश्वीकरण को अधिक न्यायसंगत बनाने के किन्हीं तीन कारकों का विश्लेषण कीजिए । 1×3=3

**अथवा**

भारत में बहुराष्ट्रीय कम्पनियों (एम.एन.सी.) पर वैश्वीकरण के प्रभावों का विश्लेषण कीजिए । 3

Analyse any three factors that make globalization more fair.

**OR**

Analyse the impact of globalization on Multi-national Corporations (MNCs) in India.

**खण्ड ग**

**SECTION C**

19. भारत में पर्यटन के किन्हीं पाँच लाभों का वर्णन कीजिए । 1×5=5

Describe any five benefits of tourism in India.

20. लोकतंत्र को मज़बूत करने में राजनीतिक दलों के किन्हीं पाँच कार्यों को उजागर कीजिए । 1×5=5

**अथवा**

हमारे लिए राजनीतिक दलों की ज़रूरत क्यों है ? किन्हीं पाँच कारणों को उजागर कीजिए । 1×5=5

Highlight any five functions of political parties to strengthen democracy.

**OR**

Why do we need political parties ? Highlight any five reasons.

21. भारत में चीनी उद्योग की किन्हीं पाँच विशेषताओं को स्पष्ट कीजिए । 1×5=5

Explain any five features of sugar industry in India.



22. अफ्रीका में 1890 के दशक में 'रिंडरपेस्ट' के प्रभावों का वर्णन कीजिए । 5

अथवा

'औद्योगिक क्रान्ति' के बाद यूरोप में मज़दूरों की दशाओं का वर्णन कीजिए । 5

अथवा

उन्नीसवीं सदी के मध्य में लंदन में अपराधीकरण के विरोध में परोपकारी समाज द्वारा किए गए प्रयासों का वर्णन कीजिए । 5

Describe the impact of 'Rinderpest' in Africa in the 1890s.

OR

Describe the conditions of workers in Europe after the Industrial Revolution.

OR

Describe the efforts made by philanthropists to counter criminalisation in London in the mid-nineteenth century.

23. भारत में 'जातीय असमानताएँ' घटने के कोई पाँच कारण स्पष्ट कीजिए । 1×5=5

Explain any five reasons for the weakening of 'Caste Inequalities' in India.

24. 'सविनय अवज्ञा आंदोलन' की सीमाओं की व्याख्या कीजिए । 5

अथवा

भारत की आर्थिक और राजनीतिक स्थिति पर 'प्रथम विश्व युद्ध' के परिणामों की व्याख्या कीजिए । 5

Explain the limitations of the 'Civil Disobedience Movement'.

OR

Explain the implications of the 'First World War' on the economic and political situation of India.

25. 'निजी क्षेत्रक' की किन्हीं पाँच विशेषताओं को उजागर कीजिए । 1×5=5

Highlight any five features of 'Private Sector.'



## खण्ड घ

### SECTION D

26. (A) दो लक्षण 'a' और 'b' दिए गए **भारत** के राजनीतिक रेखा-मानचित्र (पृष्ठ 11 पर), में अंकित किए गए हैं। इन लक्षणों को निम्नलिखित जानकारी की सहायता से पहचानिए और उनके सही नाम उनके समीप खींची गई रेखाओं पर लिखिए :  $1 \times 2 = 2$
- (a) वह स्थान जहाँ भारतीय राष्ट्रीय कांग्रेस का अधिवेशन हुआ।
- (b) वह स्थान जहाँ गाँधीजी ने सूती मिल मज़दूरों के पक्ष में सत्याग्रह किया।
- (B) इसी दिए गए **भारत** के राजनीतिक रेखा-मानचित्र में निम्नलिखित में से **किन्हीं तीन** को उपयुक्त चिह्नों से दर्शाइए और उनके नाम लिखिए :  $1 \times 3 = 3$
- (i) राजा सांसी – अन्तर्राष्ट्रीय हवाई पत्तन
- (ii) भद्रावती – लोहा और इस्पात संयंत्र
- (iii) पश्चिम बंगाल का सॉफ्टवेयर टेक्नोलॉजी पार्क
- (iv) टिहरी – बाँध
- (v) कैगा – आण्विक ऊर्जा संयंत्र
- (A) Two features 'a' and 'b' are marked on the given political outline map of **India** (on page 11). Identify these features with the help of the following information and write their correct names on the lines marked near them :
- (a) The place where the Indian National Congress Session was held.
- (b) The place where Gandhiji organized Satyagraha in favour of cotton mill workers.
- (B) Locate and label **any three** of the following with appropriate symbols on the same given political outline map of **India** :
- (i) Raja Sansi – International Airport
- (ii) Bhadravati – Iron and Steel Plant
- (iii) Software Technology Park of West Bengal
- (iv) Tehri – Dam
- (v) Kaiga – Nuclear Power Plant



**नोट :** निम्नलिखित प्रश्न केवल दृष्टिबाधित परीक्षार्थियों के लिए प्रश्न संख्या 26 के स्थान पर हैं । किन्हीं पाँच प्रश्नों के उत्तर लिखिए :

**Note :** The following questions are for the **Visually Impaired Candidates** only, in lieu of Q. No. 26. Attempt **any five** questions :

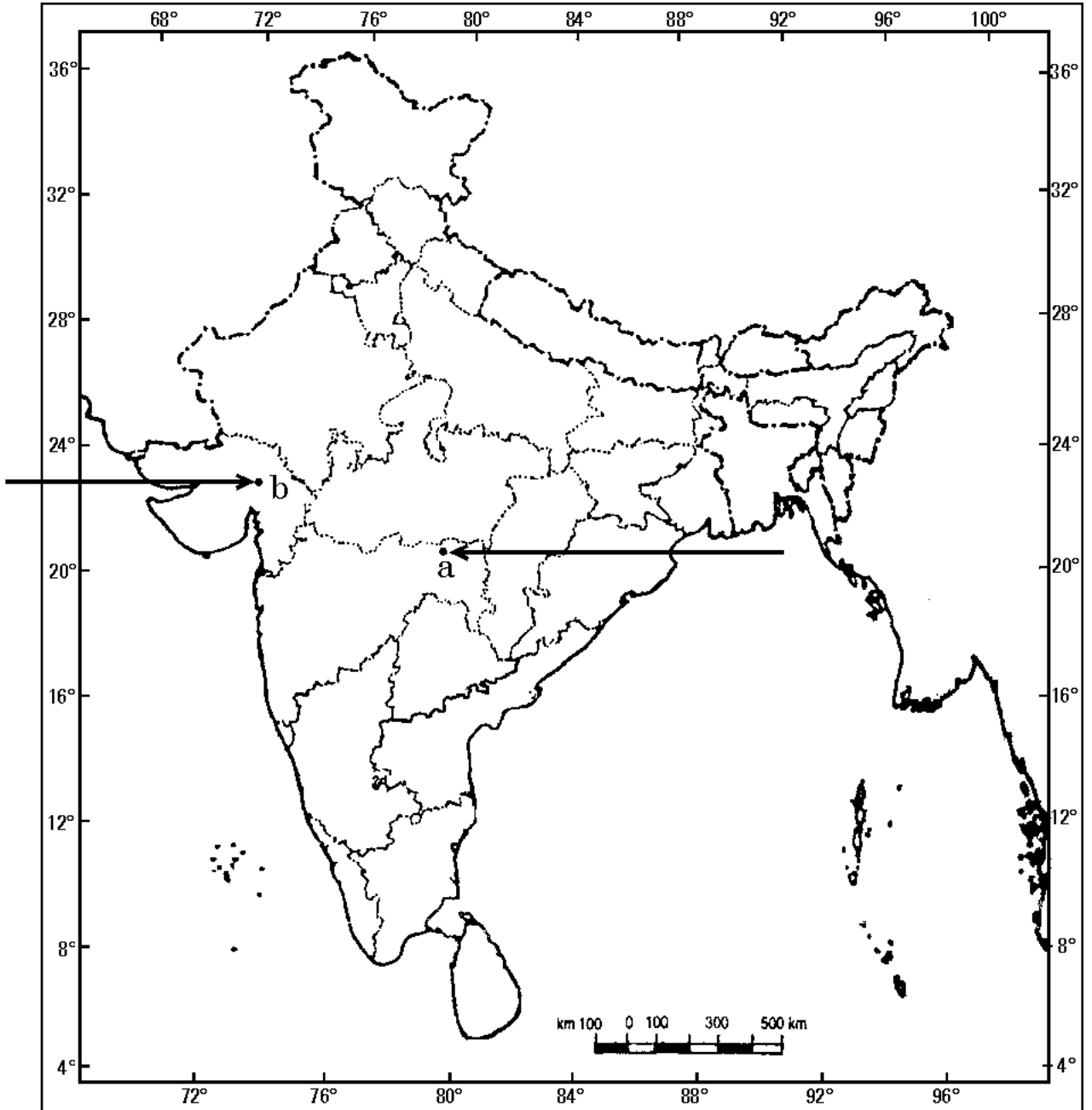
- (26.1) उस राज्य का नाम लिखिए, जहाँ नील की खेती करने वाले किसानों ने सत्याग्रह किया ।
- (26.2) उस राज्य का नाम लिखिए, जहाँ गाँधीजी ने नमक कानून को तोड़ा ।
- (26.3) उस राज्य का नाम लिखिए, जहाँ जलियाँवाला बाग हत्याकांड हुआ ।
- (26.4) उस राज्य का नाम लिखिए, जहाँ राजा सांसी अन्तर्राष्ट्रीय हवाई पत्तन स्थित है ।
- (26.5) उस राज्य का नाम लिखिए, जहाँ सेलम लोहा और इस्पात संयंत्र स्थित है ।
- (26.6) उस राज्य का नाम लिखिए, जहाँ नरोरा आण्विक ऊर्जा संयंत्र स्थित है ।
- (26.7) पश्चिम बंगाल के सॉफ्टवेयर टेक्नोलॉजी पार्क का नाम लिखिए । 1×5=5
- (26.1) Name the State where the Indigo planters organized Satyagraha.
- (26.2) Name the State where Gandhiji violated the salt law.
- (26.3) Name the State where the Jallianwala Bagh Massacre took place.
- (26.4) Name the State where Raja Sansi International Airport is located.
- (26.5) Name the State where Salem Iron and Steel Plant is located.
- (26.6) Name the State where Naraura Nuclear Power Plant is located.
- (26.7) Name the Software Technology Park of West Bengal.



प्रश्न सं. 26 के लिए

For question no. 26

भारत का रेखा-मानचित्र (राजनीतिक)  
Outline Map of India (Political)



**SET-1****Series JMS/3****ਕੋਡ ਨੰ. 42/3/1**

ਰੋਲ ਨੰਬਰ

--	--	--	--	--	--	--

Candidates must write the Code on the title page of the answer-book.

- ਕਿਰਪਾ ਕਰਕੇ ਨਿਰੀਖਣ ਕਰ ਲਵੋ ਕਿ ਇਸ ਪ੍ਰਸ਼ਨ ਪੱਤਰ ਤੇ ਛਪੇ ਹੋਏ **6** ਪੰਨੇ + **1** ਨਕਸ਼ੇ ਹਨ ।
- ਪ੍ਰਸ਼ਨ ਪੱਤਰ ਦੇ ਉੱਪਰ ਸੱਜੇ ਹੱਥ ਦਿੱਤੇ ਗਏ ਕੋਡ ਨੰ. ਨੂੰ ਪ੍ਰੀਖਿਆਰਥੀ ਉੱਤਰ ਪੁਸਤਿਕਾ ਦੇ ਮੁੱਖ ਪੰਨੇ ਤੇ ਜ਼ਰੂਰ ਲਿੱਖਣ ।
- ਕਿਰਪਾ ਕਰਕੇ ਦੇਖ ਲਵੋ ਕਿ ਇਸ ਪ੍ਰਸ਼ਨ ਪੱਤਰ ਵਿਚ **26** ਪ੍ਰਸ਼ਨ ਹਨ ।
- ਕਿਰਪਾ ਕਰਕੇ ਉੱਤਰ ਲਿਖਣਾ ਸ਼ੁਰੂ ਕਰਨ ਤੋਂ ਪਹਿਲਾਂ, ਪ੍ਰਸ਼ਨ ਦਾ ਕ੍ਰਮਾਂਕ (ਸੀਰੀਅਲ ਨੰਬਰ) ਜ਼ਰੂਰ ਲਿੱਖੋ ।
- ਇਸ ਪ੍ਰਸ਼ਨ ਪੱਤਰ ਨੂੰ ਪੜ੍ਹਨ ਦੇ ਲਈ 15 ਮਿੰਟ ਦਾ ਸਮਾਂ ਦਿੱਤਾ ਗਿਆ ਹੈ । ਪ੍ਰਸ਼ਨ ਪੱਤਰ ਸਵੇਰੇ 10.15 ਵਜੇ ਵੰਡੇ ਜਾਣਗੇ । 10.15 ਵਜੇ ਤੋਂ 10.30 ਵਜੇ ਤਕ ਪ੍ਰੀਖਿਆਰਥੀ ਕੇਵਲ ਪ੍ਰਸ਼ਨ ਪੱਤਰ ਨੂੰ ਪੜ੍ਹਨਗੇ ਅਤੇ ਇਸ ਸਮੇਂ ਵਿਚ ਉਹ ਉੱਤਰ ਪੁਸਤਿਕਾ ਵਿਚ ਕੋਈ ਉੱਤਰ ਨਹੀਂ ਲਿਖਣਗੇ ।
- Please check that this question paper contains **6** printed pages + **1** Map.
- Code number given on the right hand side of the question paper should be written on the title page of the answer-book by the candidate.
- Please check that this question paper contains **26** questions.
- **Please write down the Serial Number of the question before attempting it.**
- 15 minute time has been allotted to read this question paper. The question paper will be distributed at 10.15 a.m. From 10.15 a.m. to 10.30 a.m., the students will read the question paper only and will not write any answer on the answer-book during this period.

# ਸਮਾਜਿਕ ਵਿਗਿਆਨ

(ਪੰਜਾਬੀ ਉਲਥਾ)

## SOCIAL SCIENCE

(Punjabi Version)

ਸਮਾਂ ਸੀਮਾਂ : 3 ਘੰਟੇ

Time allowed : 3 hours

ਪੂਰਨ ਅੰਕ : 80

Maximum Marks : 80





## ਵਿਆਪਕ ਨਿਰਦੇਸ਼ :

- (i) ਇਸ ਪ੍ਰਸ਼ਨ ਪੱਤਰ ਨੂੰ ਚਾਰ ਖੰਡਾਂ ਵਿਚ ਵੰਡਿਆ ਗਿਆ ਹੈ । ਖੰਡ ਅ, ਖੰਡ ਬ, ਖੰਡ ਸ ਅਤੇ ਖੰਡ ਦ ।
- (ii) ਇਸ ਪ੍ਰਸ਼ਨ ਪੱਤਰ ਵਿਚ ਕੁਲ 26 ਪ੍ਰਸ਼ਨ ਹਨ ।
- (iii) ਸਾਰੇ ਪ੍ਰਸ਼ਨ ਜ਼ਰੂਰੀ ਹਨ ।
- (iv) ਹਰ ਇਕ ਪ੍ਰਸ਼ਨ ਦੇ ਸਾਮ੍ਹਣੇ ਉਸ ਦੇ ਅੰਕ ਦਿੱਤੇ ਹੋਏ ਹਨ ।
- (v) ਪ੍ਰਸ਼ਨ ਸੰਖਿਆ 1 ਤੋਂ 7 ਤੱਕ ਬਹੁਤ ਛੋਟੇ ਉੱਤਰ ਵਾਲੇ ਪ੍ਰਸ਼ਨ ਹਨ । ਹਰ ਇਕ ਪ੍ਰਸ਼ਨ 1 ਅੰਕ ਦਾ ਹੈ ।
- (vi) ਪ੍ਰਸ਼ਨ ਸੰਖਿਆ 8 ਤੋਂ 18 ਤੱਕ ਹਰ ਇਕ ਪ੍ਰਸ਼ਨ 3 ਅੰਕ ਦਾ ਹੈ । ਇਨ੍ਹਾਂ ਵਿੱਚੋਂ ਹਰ ਇਕ ਪ੍ਰਸ਼ਨ ਦਾ ਉੱਤਰ 80 ਸ਼ਬਦਾਂ ਤੋਂ ਜ਼ਿਆਦਾ ਨਹੀਂ ਹੋਣਾ ਚਾਹੀਦਾ ਹੈ ।
- (vii) ਪ੍ਰਸ਼ਨ ਸੰਖਿਆ 19 ਤੋਂ 25 ਤੱਕ ਹਰ ਇਕ ਪ੍ਰਸ਼ਨ 5 ਅੰਕ ਦਾ ਹੈ । ਇਨ੍ਹਾਂ ਵਿੱਚੋਂ ਹਰ ਇਕ ਪ੍ਰਸ਼ਨ ਦਾ ਉੱਤਰ 100 ਸ਼ਬਦਾਂ ਤੋਂ ਜ਼ਿਆਦਾ ਨਹੀਂ ਹੋਣਾ ਚਾਹੀਦਾ ਹੈ ।
- (viii) ਪ੍ਰਸ਼ਨ ਸੰਖਿਆ 26 ਮਾਨਚਿੱਤਰ ਸੰਬੰਧੀ ਪ੍ਰਸ਼ਨ 5 ਅੰਕ ਦਾ ਹੈ । ਇਸ ਦੇ ਦੋ ਭਾਗ - 26 (A) ਅਤੇ 26 (B) ਹਨ । 26 (A) 2 ਅੰਕ ਦਾ ਇਤਿਹਾਸ ਨਾਲ ਅਤੇ 26 (B) 3 ਅੰਕ ਦਾ ਭੂਗੋਲ ਨਾਲ ਸੰਬੰਧਤ ਹਨ । ਮਾਨਚਿੱਤਰ ਦਾ ਪ੍ਰਸ਼ਨ ਪੂਰਾ ਕਰਕੇ ਆਪਣੀ ਉੱਤਰ ਪੁਸਤਕ ਨਾਲ ਨੱਥੀ ਕਰੋ ।

### ਖੰਡ ਅ

1. 1815 ਵਿਚ ਜਿਆਦਾਤਰ 'ਰੂੜੀਵਾਦੀ ਸ਼ਾਸਨ ਪੱਧਤੀਆਂ' ਨੇ ਫਰਾਂਸੀਸੀ ਕਰਾਂਤੀ ਨਾਲ ਜੁੜੀ ਛਾਪੀ ਹੋਈ ਸਮਗਰੀ ਤੇ ਕਾਬੂ ਰਖਣ ਦੇ ਲਈ ਸੈਂਸਰਸ਼ਿਪ ਦੇ ਨਿਯਮ ਕਿਉਂ ਬਣਾਏ ? 1

### ਜਾਂ

1907 ਵਿਚ ਵਿਯਤਨਾਮ ਵਿਚ 'ਟੋਕਿਨ ਫਰੀ ਸਕੂਲ' ਕਿਉਂ ਖੋਲ੍ਹੇ ਗਏ ? 1

2. ਛਪਾਈ (ਮੁਦਰਣ) ਯੁਗ ਤੋਂ ਪਹਿਲਾਂ ਭਾਰਤ ਵਿਚ ਦਸਤਾਵੇਜ਼ਾਂ ਦੀ ਖੁਲ੍ਹੀ ਵਰਤੋਂ ਕਿਉਂ ਨਹੀਂ ਕੀਤੀ ਜਾਂਦੀ ਸੀ ? 1

### ਜਾਂ

ਭਾਰਤ ਵਿਚ ਵੀਹਵੀਂ ਸਦੀ ਦੇ ਮੁਢਲੇ ਦਹਾਕਿਆਂ ਵਿਚ ਇਸਤ੍ਰੀਆਂ ਅਤੇ ਬੱਚਿਆਂ ਨੂੰ ਨਾਵਲ ਪੜ੍ਹਨ ਤੋਂ ਵਰਜਿਆ ਕਿਉਂ ਜਾਂਦਾ ਸੀ ? 1

3. ਝਾਰਖੰਡ ਵਿਚ ਖਾਣਾਂ ਦੀ ਖੁਦਾਈ ਦੇ ਕੰਮ ਕਿਵੇਂ ਭੌਂ-ਅਧੋਗਤੀ (ਧਰਤੀ ਵਿਚ ਗਿਰਾਵਟ) ਲਈ ਜੁਮੇਵਾਰ ਹਨ ? 1

### ਜਾਂ

ਗੁਜਰਾਤ ਵਿਚ ਵਧੇਰੇ ਪਸ਼ੁਚਾਰਨ ਭੌਂ-ਅਧੋਗਤੀ ਦੇ ਲਈ ਕਿਵੇਂ ਜੁਮੇਵਾਰ ਹੈ ? 1



4. ਬੇਲਜਿਅਮ ਵਿਚ ਸਮੂਹਕ ਸਰਕਾਰ (ਕਮਿਉਨਿਟੀ ਗਵਰਨਮੇਂਟ) ਕਿਵੇਂ ਚੁਣੀ ਜਾਂਦੀ ਹੈ ? 1
5. ਸ਼ਹਿਰ ਦੇ ਅਮੀਰ ਪਰਿਵਾਰ ਦੀ ਇਕ ਲੜਕੀ ਦੇ ਲਈ ਵਿਕਾਸ ਦਾ ਟੀਚਾ ਕੀ ਹੋ ਸਕਦਾ ਹੈ ? 1

ਜਾਂ

- ਅਮੀਰ ਕਿਸਾਨਾਂ ਦੇ ਲਈ ਵਿਕਾਸ ਦਾ ਟੀਚਾ ਕੀ ਹੋ ਸਕਦਾ ਹੈ ? 1
6. ਪ੍ਰਾਥਮਿਕ ਅਤੇ ਤੀਸਰੇ ਆਰਥਿਕ ਖੇਤਰਾਂ ਦਾ ਇਕ ਇਕ ਉਦਾਹਰਣ ਲਿਖੋ । 1
7. ਨਿਵੇਸ਼ ਅਤੇ ਵਿਦੇਸ਼ੀ ਨਿਵੇਸ਼ ਵਿਚ ਫਰਕ ਸਪਸ਼ਟ ਕਰੋ । 1

ਖੰਡ ਬ

8. ਬ੍ਰਿਟੇਨ ਕਿਵੇਂ ਇਕ ਰਾਸ਼ਟਰ-ਰਾਜ ਦੇ ਰੂਪ ਵਿਚ ਹੋਂਦ ਵਿਚ ਆਇਆ ? ਵਿਆਖਿਆ ਕਰੋ । 3

ਜਾਂ

- ਵਿਯਤਨਾਮ ਵਿਚ ਸਕੂਲ ਕਿਵੇਂ ਰਾਜਨੀਤਿਕ ਅਤੇ ਸਭਿਆਚਾਰਕ ਸੰਘਰਸ਼ ਦੇ ਅਖਾੜਿਆਂ ਵਿਚ ਬਦਲ ਗਏ ? ਵਿਆਖਿਆ ਕਰੋ । 3
9. ਉਨ੍ਹੀਵੀਂ ਸਦੀ ਵਿਚ ਯੂਰੋਪ ਵਿਚ ਕਿਵੇਂ ਬਚਿਆਂ, ਇਸਤ੍ਰੀਆਂ ਅਤੇ ਕਾਮਿਆਂ (ਮਜਦੂਰਾਂ) ਦੇ ਦਰਮਿਆਨ ਵੱਡੀ ਗਿਣਤੀ ਵਿਚ ਨਵੇਂ ਪਾਠਕ ਵਧੇ ? ਉਦਾਹਰਣਾਂ ਸਹਿਤ ਵਿਆਖਿਆ ਕਰੋ । 3

ਜਾਂ

- ਐਪਨਿਵੇਸ਼ਿਕ (ਬਸਤੀਵਾਦੀ) ਸਰਕਾਰ ਨੂੰ ਸਥਾਨਕ ਬੋਲੀ ਵਿਚ ਲਿਖੇ ਨਾਵਲਾਂ ਵਿਚ ਦੇਸੀ ਜੀਵਨ ਅਤੇ ਰੀਤੀ ਰਿਵਾਜਾਂ ਨਾਲ ਜੁੜੀ ਜਾਣਕਾਰੀ ਦਾ ਵਡਮੁੱਲਾ ਸਰੋਤ ਕਿਵੇਂ ਨਜ਼ਰ ਆਇਆ ? ਉਦਾਹਰਣਾਂ ਸਹਿਤ ਵਿਆਖਿਆ ਕਰੋ । 3
10. ਦੇਸ਼ ਦੇ ਆਰਥਿਕ ਵਿਕਾਸ ਦੀ ਰੀੜ ਦੇ ਰੂਪ ਵਿਚ ਨਿਰਮਾਣ-ਉਦਯੋਗਾਂ ਦੀ ਮਹਤਤਾ ਦਾ ਵਰਨਨ ਕਰੋ । 3

ਜਾਂ

- ਖੇਤੀ ਦੇ ਵਿਕਾਸ ਵਿਚ ਉਦਯੋਗਾਂ ਦੇ ਯੋਗਦਾਨ ਦਾ ਵਰਨਨ ਕਰੋ । 3
11. “ਸਾਧਨ ਸਰੋਤਾਂ ਦੀ ਯੋਜਨਾਬੰਦੀ ਇਕ ਗੁੰਝਲਦਾਰ ਪ੍ਰਕਿਰਿਆ ਹੈ ।” ਦਲੀਲਾਂ ਦੇ ਕੇ ਇਸ ਕਥਨ ਨੂੰ ਉੱਚਤ ਠਹਿਰਾਓ । 3
12. ਰਾਜਨੀਤੀ ਵਿਚ ਜਾਤ (ਵਰਣ) ਕਿਵੇਂ ਅਨੇਕਾਂ ਰੂਪ ਲੈ ਸਕਦੀ ਹੈ ? ਉਦਾਹਰਣਾ ਸਹਿਤ ਵਿਆਖਿਆ ਕਰੋ । 3

ਜਾਂ

- ਸਾਡੇ ਦੇਸ਼ ਵਿਚ ਆਜ਼ਾਦੀ ਪਿੱਛੋਂ ਇਸਤ੍ਰੀਆਂ ਦੀ ਅਵਸਥਾ ਵਿਚ ਕਿਵੇਂ ਸੁਧਾਰ ਹੋਇਆ ਹੈ ? ਉਦਾਹਰਣਾਂ ਸਹਿਤ ਵਿਆਖਿਆ ਕਰੋ । 3



13. “ਲੋਕਤੰਤਰੀ ਵਿਵਸਥਾ ਦੀ ਵਡੀ ਸਫਲਤਾ ਨਿਯਮ ਅਨੁਸਾਰ ਅਤੇ ਨਿਰਪੱਖ ਚੁਨਾਵਾਂ ਵਿਚ ਹੈ ।” ਇਸ ਕਥਨ ਦਾ ਵਿਸ਼ਲੇਸ਼ਣ ਕਰੋ । 3
14. “ਲੋਕਤੰਤਰ ਨੂੰ ਮਜ਼ਬੂਤ ਕਰਨ ਦੀ ਚੁਣੌਤੀ ਹਰ ਲੋਕਤੰਤਰੀ ਵਿਵਸਥਾ ਦੇ ਸਾਮ੍ਹਣੇ ਕਿਸੇ ਨਾ ਕਿਸੇ ਰੂਪ ਵਿਚ ਹੈ ।” ਉਦਾਹਰਣਾਂ ਸਹਿਤ ਕਥਨ ਦੀ ਪੁਸ਼ਟੀ ਕਰੋ । 3
15. ਸਾਨੂੰ ਕੁਦਰਤੀ ਸਾਧਨ ਸਰੋਤਾਂ ਦੀ ਨਿਯਾਂਪੂਰਕ ਅਤੇ ਸਹੀ ਢੰਗ ਨਾਲ ਵਰਤੋਂ ਕਿਉਂ ਕਰਨੀ ਚਾਹੀਦੀ ਹੈ ? ਆਪਣੇ ਵਿਚਾਰ ਨੂੰ ਸਪਸ਼ਟ ਕਰੋ । 3
16. ਇੱਕਲੇ ਖੇਤੀ ਬਾੜੀ ਖੇਤਰ ਵਿਚ ਹੀ ਵਧੇਰੇ ਰੁਜ਼ਗਾਰ ਕਿਵੇਂ ਪੈਦਾ ਕੀਤੇ ਜਾ ਸਕਦੇ ਹਨ ? ਕਿਸੇ ਤਿੰਨ ਤਰੀਕਿਆਂ ਦੀ ਵਿਆਖਿਆ ਕਰੋ । 1×3=3

### ਜਾਂ

ਭਾਰਤ ਵਿਚ ਬੇਰੋਜ਼ਗਾਰੀ ਦੀ ਸਮਸਿਆ ਨੂੰ ਕਿਵੇਂ ਦੂਰ ਕੀਤਾ ਜਾ ਸਕਦਾ ਹੈ ? ਕਿਸੇ ਤਿੰਨ ਤਰੀਕਿਆਂ ਦੀ ਵਿਆਖਿਆ ਕਰੋ । 3

17. “ਉਧਾਰ ਸਕਾਰਾਤਮਕ ਭੂਮਿਕਾ ਅਦਾ ਕਰ ਸਕਦਾ ਹੈ ।” ਦਲੀਲਾਂ ਦੇ ਕੇ ਇਸ ਕਥਨ ਨੂੰ ਉੱਚਤ ਠਹਿਰਾਓ । 3

### ਜਾਂ

“ਉਧਾਰ ਨਕਾਰਾਤਮਕ ਭੂਮਿਕਾ ਅਦਾ ਕਰ ਸਕਦਾ ਹੈ ।” ਦਲੀਲਾਂ ਦੇ ਕੇ ਇਸ ਕਥਨ ਨੂੰ ਉੱਚਤ ਠਹਿਰਾਓ । 3

18. ਭਾਰਤ ਵਿਚ ਵਿਦੇਸ਼ੀ ਮੁਦਰਾ (ਨਿਵੇਸ਼) ਨੂੰ ਆਕਰਸ਼ਿਤ ਕਰਨ ਦੇ ਲਈ ਕੇਂਦਰ ਅਤੇ ਰਾਜ ਸਰਕਾਰਾਂ ਰਾਹੀਂ ਚੁਕੇ ਗਏ ਕਿਸੇ ਤਿੰਨ ਕਦਮਾਂ ਦਾ ਵਰਨਨ ਕਰੋ । 1×3=3

### ਖੰਡ ਸ

19. ਮਹਾਤਮਾ ਗਾਂਧੀ ਦੇ ਵਿਚਾਰਾਂ ਅਤੇ ਸਵਰਾਜ ਦੀ ਧਾਰਨਾਂ ਦੇ ਬਾਰੇ ਵਿਚ ਪਲਾਂਟੇਸ਼ਨ ਮਜ਼ਦੂਰਾਂ ਦੀ ਆਪਣੀ ਸੋਚ ਕਿਵੇਂ ਸੀ ? ਵਿਆਖਿਆ ਕਰੋ । 5

### ਜਾਂ

ਭਾਰਤ ਦੇ ਵੱਖੋ ਵੱਖ ਭਾਗਾਂ ਵਿਚ ਕਿਸਾਨਾਂ ਅਤੇ ਆਦਿਵਾਸੀਆਂ ਨੇ ‘ਨਾਮਿਲਵਰਤਨ ਅੰਦੋਲਨ’ ਵਿਚ ਕਿਵੇਂ ਹਿੱਸਾ ਲਿਆ ? ਵਿਆਖਿਆ ਕਰੋ । 5

20. 1920 ਦੇ ਦਹਾਕੇ ਦੇ ਮੁਢਲੇ ਸਮੇਂ ਦੇ ਦੌਰਾਨ ਅਮਰੀਕੀ ਅਰਥਵਿਵਸਥਾ ਕਿਵੇਂ ਤੇਜ਼ੀ ਨਾਲ ਤਰੱਕੀ ਕਰਨ ਲਗੀ ? ਉਦਾਹਰਣਾਂ ਸਹਿਤ ਵਿਆਖਿਆ ਕਰੋ । 5

### ਜਾਂ



ਉਨ੍ਹੀਵੀ ਸਦੀ ਦੇ ਦੌਰਾਨ ਇੰਗਲੈਂਡ ਦੇ ਬਜ਼ਾਰ ਵਿਚ ਮਜ਼ਦੂਰੀ ਦੀ ਬਹੁਤਾਤ ਦਾ ਮਜ਼ਦੂਰਾਂ ਦੀ ਜਿੰਦਗੀ ਉਪਰ ਕਿਹੋ ਜਿਹਾ ਅਸਰ ਹੋਇਆ ? ਉਦਾਹਰਣਾਂ ਸਹਿਤ ਵਿਆਖਿਆ ਕਰੋ । 5

ਜਾਂ

ਉਨ੍ਹੀਵੀ ਸਦੀ ਦੇ ਇੰਗਲੈਂਡ ਦੇ ਘਰਾਂ ਅਤੇ ਕਾਰਖਾਨਿਆਂ ਵਿਚ ਕੋਲੇ ਦੇ ਵੱਡੀ ਪੱਧਰ ਤੇ ਇਸਤੇਮਾਲ ਕਰਨ ਕਾਰਨ ਕਿਵੇਂ ਗੰਭੀਰ ਸਮਸਿਆਵਾਂ ਪੈਦਾ ਹੋ ਗਈਆਂ ਸਨ ? ਉਦਾਹਰਣਾਂ ਸਹਿਤ ਵਿਆਖਿਆ ਕਰੋ । 5

21. ਭਾਰਤ ਵਿਚ ਉਗਾਈਆਂ ਜਾਣ ਵਾਲੀਆਂ ਦੋ ਪ੍ਰਮੁੱਖ ਰੇਸ਼ੇਦਾਰ ਫਸਲਾਂ ਦੇ ਨਾਮ ਲਿਖੋ । ਇਨ੍ਹਾਂ ਦੋਹਾਂ ਫਸਲਾਂ ਨੂੰ ਉਗਾਣ ਦੀਆਂ ਜ਼ਰੂਰੀ ਹਾਲਤਾਂ ਅਤੇ ਉਨ੍ਹਾਂ ਨੂੰ ਉਗਾਉਣ ਵਾਲੇ ਖੇਤਰਾਂ ਦਾ ਵਰਨਨ ਕਰੋ ।  $1+2+2=5$

22. “ਕਿਸੇ ਦੇਸ਼ ਦੇ ਅੰਤਰਰਾਸ਼ਟਰੀ ਵਪਾਰ ਨੂੰ ਆਰਥਿਕ ਬੈਰੋਮੀਟਰ ਕਿਹਾ ਜਾਂਦਾ ਹੈ ।” ਦਲੀਲਾਂ ਦੇ ਕੇ ਇਸ ਕਥਨ ਨੂੰ ਉੱਚਤ ਠਹਿਰਾਓ । 5

23. ਭਾਰਤ ਵਰਗੇ ਵੱਡੇ ਦੇਸ਼ ਵਿਚ ਤਿੰਨ ਸਤਰੀ ਸਰਕਾਰ ਦੀ ਮਹਤਤਾ ਦਾ ਵਰਨਨ ਕਰੋ ।  $1 \times 5 = 5$

ਜਾਂ

ਸੰਘਵਾਦ ਦੀਆਂ ਕਿਸੇ ਪੰਜ ਵਿਸ਼ੇਸ਼ਤਾਵਾਂ ਦਾ ਵਰਨਨ ਕਰੋ ।  $1 \times 5 = 5$

24. ਹੇਠ ਲਿਖੇ ਦਲਾਂ ਦੀ ਰਾਸ਼ਟਰੀ ਅਤੇ ਖੇਤਰੀ ਪਾਰਟੀ ਦੇ ਰੂਪ ਵਿਚ ਪਛਾਣ ਕਰੋ ਅਤੇ ਸੂਚੀ ਬਣਾਓ : 5

- (i) ਨੇਸ਼ਨਲ ਕਾਨਫਰੇਂਸ
- (ii) ਸ਼ਿਰੋਮਣੀ ਅਕਾਲੀ ਦਲ
- (iii) ਡੀ.ਐਮ.ਕੇ. (DMK)
- (iv) ਨੇਸ਼ਨਲ ਕਾਂਗਰੇਸ ਪਾਰਟੀ
- (v) ਭਾਰਤੀ ਜਨਤਾ ਪਾਰਟੀ
- (vi) ਸ਼ਿਵ ਸੈਨਾ
- (vii) ਫਾਰਵਰਡ ਬਲਾਕ
- (viii) ਜਨਤਾ ਦਲ (U)
- (ix) ਰਾਸ਼ਟਰੀ ਜਨਤਾ ਦਲ
- (x) ਸਮਾਜਵਾਦੀ ਪਾਰਟੀ

25. “ਬਜ਼ਾਰ ਵਿਚ ਦੁਰਉਪਯੋਗ (ਮੌਸ਼ਣ) ਕਈ ਰੂਪਾਂ ਵਿਚ ਹੁੰਦਾ ਹੈ ।” ਵਿਆਖਿਆ ਕਰੋ । 5



## ਖੰਡ ਦ

26. (A) ਦੋ ਲੱਛਣ 'a' ਅਤੇ 'b' ਦਿੱਤੇ ਹੋਏ **ਭਾਰਤ** ਦੇ ਰਾਜਨੀਤਕ ਰੇਖਾ ਮਾਨਚਿੱਤਰ (ਪੰਨਾ 7 ਤੇ) ਵਿਚ ਅੰਕਿਤ ਕੀਤੇ ਗਏ ਹਨ । ਇਨ੍ਹਾਂ ਲੱਛਣਾਂ ਨੂੰ ਹੇਠ ਦਿੱਤੀ ਜਾਣਕਾਰੀ ਦੀ ਮਦਦ ਨਾਲ ਪਛਾਣੋ ਅਤੇ ਇਨ੍ਹਾਂ ਦੇ ਸਹੀ ਨਾਮ, ਮਾਨਚਿੱਤਰ ਵਿਚ ਖਿੱਚੀਆਂ ਹੋਈਆਂ ਰੇਖਾਵਾਂ ਉਪਰ ਲਿਖੋ :  $1 \times 2 = 2$
- (a) ਉਹ ਥਾਂ ਜਿੱਥੇ ਭਾਰਤੀ ਰਾਸ਼ਟਰੀ ਕਾਂਗਰੇਸ ਦਾ ਅਜਲਾਸ ਹੋਇਆ ਸੀ ।
- (b) ਉਹ ਥਾਂ ਜਿੱਥੇ ਨੀਲ ਦੀ ਖੇਤੀ ਕਰਨ ਵਾਲੇ ਕਿਸਾਨਾਂ ਦਾ ਅੰਦੋਲਨ ਸ਼ੁਰੂ ਹੋਇਆ ਸੀ ।
- (B) ਇਸ ਹੀ ਦਿੱਤੇ ਹੋਏ **ਭਾਰਤ** ਦੇ ਰਾਜਨੀਤਕ ਰੇਖਾ ਮਾਨਚਿੱਤਰ ਵਿਚ ਹੇਠ ਲਿਖਿਆਂ ਵਿਚੋਂ **ਕਿਸੇ ਤਿੰਨ** ਨੂੰ ਢੁਕਵੇਂ ਚਿਹਨਾਂ ਰਾਹੀਂ ਦਰਸਾਓ ਅਤੇ ਉਨ੍ਹਾਂ ਦੇ ਨਾਮ ਲਿਖੋ :  $1 \times 3 = 3$
- (i) ਹੀਰਾਕੁਡ – ਬੰਧ (ਡੈਮ)
- (ii) ਕੋਚੀ – ਪ੍ਰਮੁਖ ਸਮੁੰਦਰੀ ਬੰਦਰਗਾਹ
- (iii) ਸੇਲਮ – ਲੋਹਾ ਅਤੇ ਸਟੀਲ ਦਾ ਕਾਰਖਾਨਾ
- (iv) ਹੈਦਰਾਬਾਦ – ਸਾਫਟਵੇਅਰ ਟੈਕਨੋਲੋਜੀ ਪਾਰਕ
- (v) ਨਰੋਰਾ – ਨਿਊਕਲਿਅਰ ਪਾਵਰ ਪਲਾਂਟ

**ਨੋਟ:** ਹੇਠ ਲਿਖਿਆ ਪ੍ਰਸ਼ਨ ਕੇਵਲ **ਦ੍ਰਿਸ਼ਟੀ ਵਿਕਲਾਂਗ ਪ੍ਰੀਖਿਆਰਥੀਆਂ** ਦੇ ਲਈ ਪ੍ਰਸ਼ਨ ਸੰਖਿਆ 26 ਦੇ ਥਾਂ ਬਦਲਵੇਂ ਪ੍ਰਸ਼ਨ ਹਨ । **ਕਿਸੇ ਪੰਜ** ਪ੍ਰਸ਼ਨਾਂ ਦੇ ਉੱਤਰ ਦਿਓ :

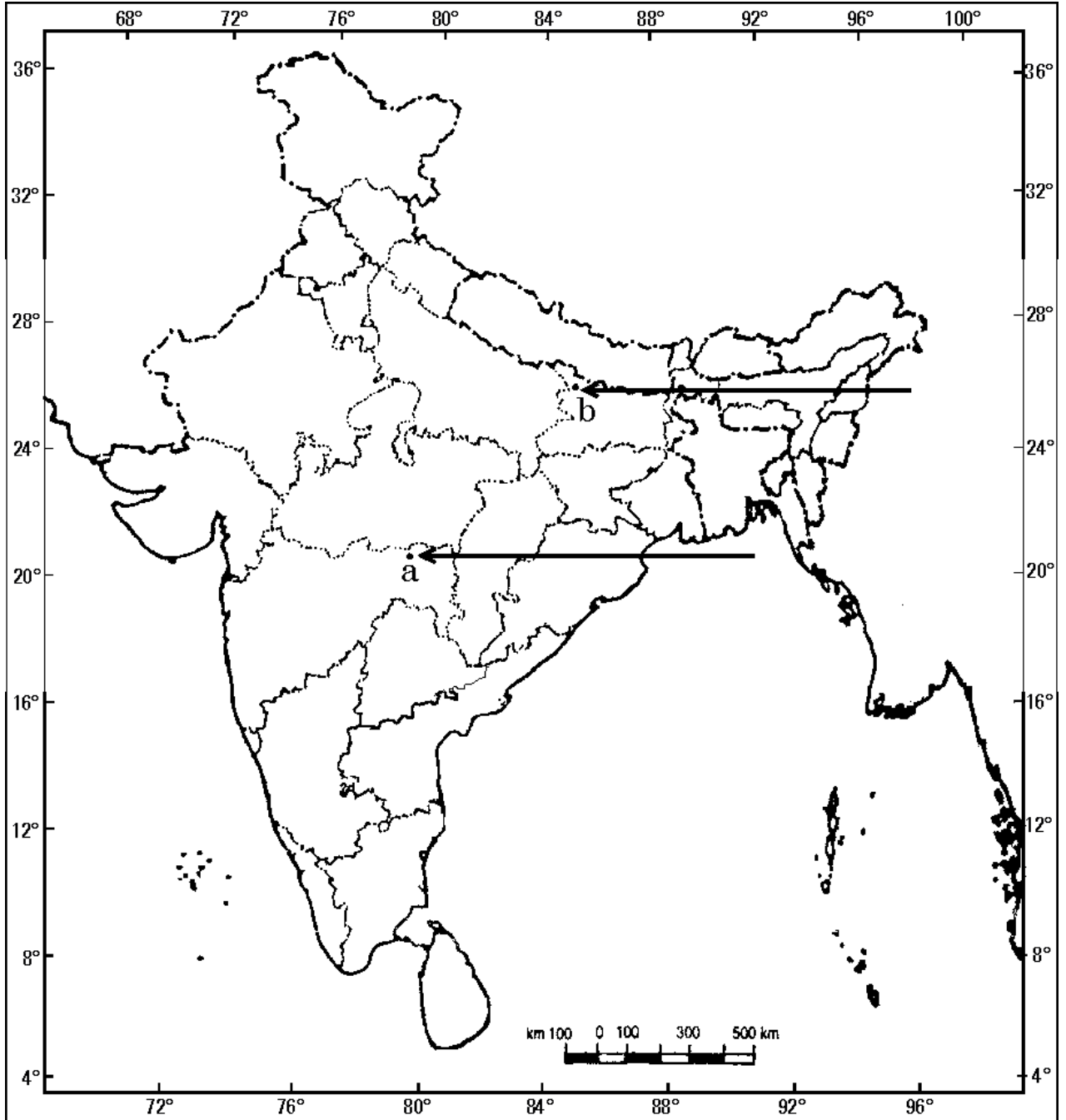
- (26.1) ਉਸ ਰਾਜ ਦਾ ਨਾਮ ਲਿਖੋ, ਜਿੱਥੇ ਜਲਿਆਂਵਾਲਾ ਬਾਗ ਦੀ ਘਟਨਾ ਹੋਈ ।
- (26.2) ਉਸ ਸਥਾਨ ਦਾ ਨਾਮ ਲਿਖੋ, ਜਿੱਥੇ ਨੀਲ ਦੀ ਖੇਤੀ ਦੇ ਲਈ ਕਿਸਾਨਾਂ ਨੇ ਸਤਿਆਗਰਹਿ ਕੀਤਾ ਸੀ ।
- (26.3) ਗੁਜਰਾਤ ਦੇ ਉਸ ਸਥਾਨ ਦਾ ਨਾਮ ਲਿਖੋ, ਜਿੱਥੇ ਕਿਸਾਨਾਂ ਨੇ ਸਤਿਆਗਰਹਿ ਕੀਤਾ ਸੀ ।
- (26.4) ਉਸ ਰਾਜ ਦਾ ਨਾਮ ਲਿਖੋ, ਜਿੱਥੇ ਬੈਲਾਰੀ ਲੋਹਾ-ਕੋਚੀ ਧਾਤ ਦੀਆਂ ਖਾਣਾ ਸਥਿਤ ਹਨ ।
- (26.5) ਉਸ ਰਾਜ ਦਾ ਨਾਮ ਲਿਖੋ, ਜਿੱਥੇ ਕੋਚੀ ਸਮੁੰਦਰੀ ਬੰਦਰਗਾਹ ਸਥਿਤ ਹੈ ।
- (26.6) ਉਸ ਰਾਜ ਦਾ ਨਾਮ ਲਿਖੋ, ਜਿੱਥੇ ਨਰੋਰਾ ਨਿਊਕਲਿਅਰ ਪਾਵਰ ਪਲਾਂਟ ਸਥਿਤ ਹੈ ।
- (26.7) ਉਸ ਰਾਜ ਦਾ ਨਾਮ ਲਿਖੋ, ਜਿੱਥੇ ਦੁਰਗਾਪੁਰ ਲੋਹਾ-ਸਟੀਲ ਕਾਰਖਾਨਾ ਸਥਿਤ ਹੈ ।

$1 \times 5 = 5$



ਪ੍ਰਸ਼ਨ ਸੰ. 26 ਦੇ ਲਈ

ਭਾਰਤ ਦਾ ਰੇਖਾ ਮਾਨਚਿੱਤਰ (ਰਾਜਨੀਤਕ)  
Outline Map of India (Political)





**SET-2****Series JMS/3****ਕੋਡ ਨੰ. 42/3/2**

ਰੋਲ ਨੰਬਰ

--	--	--	--	--	--	--

Candidates must write the Code on the title page of the answer-book.

- ਕਿਰਪਾ ਕਰਕੇ ਨਿਰੀਖਣ ਕਰ ਲਵੋ ਕਿ ਇਸ ਪ੍ਰਸ਼ਨ ਪੱਤਰ ਤੇ ਛਪੇ ਹੋਏ **6** ਪੰਨੇ + **1** ਨਕਸ਼ੇ ਹਨ ।
- ਪ੍ਰਸ਼ਨ ਪੱਤਰ ਦੇ ਉੱਪਰ ਸੱਜੇ ਹੱਥ ਦਿੱਤੇ ਗਏ ਕੋਡ ਨੰ. ਨੂੰ ਪ੍ਰੀਖਿਆਰਥੀ ਉੱਤਰ ਪੁਸਤਿਕਾ ਦੇ ਮੁੱਖ ਪੰਨੇ ਤੇ ਜ਼ਰੂਰ ਲਿੱਖਣ ।
- ਕਿਰਪਾ ਕਰਕੇ ਦੇਖ ਲਵੋ ਕਿ ਇਸ ਪ੍ਰਸ਼ਨ ਪੱਤਰ ਵਿਚ **26** ਪ੍ਰਸ਼ਨ ਹਨ ।
- ਕਿਰਪਾ ਕਰਕੇ ਉੱਤਰ ਲਿਖਣਾ ਸ਼ੁਰੂ ਕਰਨ ਤੋਂ ਪਹਿਲਾਂ, ਪ੍ਰਸ਼ਨ ਦਾ ਕ੍ਰਮਾਂਕ (ਸੀਰੀਅਲ ਨੰਬਰ) ਜ਼ਰੂਰ ਲਿੱਖੋ ।
- ਇਸ ਪ੍ਰਸ਼ਨ ਪੱਤਰ ਨੂੰ ਪੜ੍ਹਨ ਦੇ ਲਈ 15 ਮਿੰਟ ਦਾ ਸਮਾਂ ਦਿੱਤਾ ਗਿਆ ਹੈ । ਪ੍ਰਸ਼ਨ ਪੱਤਰ ਸਵੇਰੇ 10.15 ਵਜੇ ਵੰਡੇ ਜਾਣਗੇ । 10.15 ਵਜੇ ਤੋਂ 10.30 ਵਜੇ ਤਕ ਪ੍ਰੀਖਿਆਰਥੀ ਕੇਵਲ ਪ੍ਰਸ਼ਨ ਪੱਤਰ ਨੂੰ ਪੜ੍ਹਨਗੇ ਅਤੇ ਇਸ ਸਮੇਂ ਵਿਚ ਉਹ ਉੱਤਰ ਪੁਸਤਿਕਾ ਵਿਚ ਕੋਈ ਉੱਤਰ ਨਹੀਂ ਲਿਖਣਗੇ ।
- Please check that this question paper contains **6** printed pages + **1** Map.
- Code number given on the right hand side of the question paper should be written on the title page of the answer-book by the candidate.
- Please check that this question paper contains **26** questions.
- **Please write down the Serial Number of the question before attempting it.**
- 15 minute time has been allotted to read this question paper. The question paper will be distributed at 10.15 a.m. From 10.15 a.m. to 10.30 a.m., the students will read the question paper only and will not write any answer on the answer-book during this period.

# ਸਮਾਜਿਕ ਵਿਗਿਆਨ

(ਪੰਜਾਬੀ ਉਲਥਾ)

## SOCIAL SCIENCE

(Punjabi Version)

ਸਮਾਂ ਸੀਮਾਂ : 3 ਘੰਟੇ

Time allowed : 3 hours

ਪੂਰਨ ਅੰਕ : 80

Maximum Marks : 80



## ਵਿਆਪਕ ਨਿਰਦੇਸ਼ :

- (i) ਇਸ ਪ੍ਰਸ਼ਨ ਪੱਤਰ ਨੂੰ ਚਾਰ ਖੰਡਾਂ ਵਿਚ ਵੰਡਿਆ ਗਿਆ ਹੈ । ਖੰਡ ਅ, ਖੰਡ ਬ, ਖੰਡ ਸ ਅਤੇ ਖੰਡ ਦ ।
- (ii) ਇਸ ਪ੍ਰਸ਼ਨ ਪੱਤਰ ਵਿਚ ਕੁਲ 26 ਪ੍ਰਸ਼ਨ ਹਨ ।
- (iii) ਸਾਰੇ ਪ੍ਰਸ਼ਨ ਜ਼ਰੂਰੀ ਹਨ ।
- (iv) ਹਰ ਇਕ ਪ੍ਰਸ਼ਨ ਦੇ ਸਾਮ੍ਹਣੇ ਉਸ ਦੇ ਅੰਕ ਦਿੱਤੇ ਹੋਏ ਹਨ ।
- (v) ਪ੍ਰਸ਼ਨ ਸੰਖਿਆ 1 ਤੋਂ 7 ਤੱਕ ਬਹੁਤ ਛੋਟੇ ਉੱਤਰ ਵਾਲੇ ਪ੍ਰਸ਼ਨ ਹਨ । ਹਰ ਇਕ ਪ੍ਰਸ਼ਨ 1 ਅੰਕ ਦਾ ਹੈ ।
- (vi) ਪ੍ਰਸ਼ਨ ਸੰਖਿਆ 8 ਤੋਂ 18 ਤੱਕ ਹਰ ਇਕ ਪ੍ਰਸ਼ਨ 3 ਅੰਕ ਦਾ ਹੈ । ਇਨ੍ਹਾਂ ਵਿੱਚੋਂ ਹਰ ਇਕ ਪ੍ਰਸ਼ਨ ਦਾ ਉੱਤਰ 80 ਸ਼ਬਦਾਂ ਤੋਂ ਜ਼ਿਆਦਾ ਨਹੀਂ ਹੋਣਾ ਚਾਹੀਦਾ ਹੈ ।
- (vii) ਪ੍ਰਸ਼ਨ ਸੰਖਿਆ 19 ਤੋਂ 25 ਤੱਕ ਹਰ ਇਕ ਪ੍ਰਸ਼ਨ 5 ਅੰਕ ਦਾ ਹੈ । ਇਨ੍ਹਾਂ ਵਿੱਚੋਂ ਹਰ ਇਕ ਪ੍ਰਸ਼ਨ ਦਾ ਉੱਤਰ 100 ਸ਼ਬਦਾਂ ਤੋਂ ਜ਼ਿਆਦਾ ਨਹੀਂ ਹੋਣਾ ਚਾਹੀਦਾ ਹੈ ।
- (viii) ਪ੍ਰਸ਼ਨ ਸੰਖਿਆ 26 ਮਾਨਚਿੱਤਰ ਸੰਬੰਧੀ ਪ੍ਰਸ਼ਨ 5 ਅੰਕ ਦਾ ਹੈ । ਇਸ ਦੇ ਦੋ ਭਾਗ - 26 (A) ਅਤੇ 26 (B) ਹਨ । 26 (A) 2 ਅੰਕ ਦਾ ਇਤਿਹਾਸ ਨਾਲ ਅਤੇ 26 (B) 3 ਅੰਕ ਦਾ ਭੂਗੋਲ ਨਾਲ ਸੰਬੰਧਤ ਹਨ । ਮਾਨਚਿੱਤਰ ਦਾ ਪ੍ਰਸ਼ਨ ਪੂਰਾ ਕਰਕੇ ਆਪਣੀ ਉੱਤਰ ਪੁਸਤਕ ਨਾਲ ਨੱਥੀ ਕਰੋ ।

### ਖੰਡ ਅ

1. ਸ਼ਹਿਰ ਦੇ ਅਮੀਰ ਪਰਿਵਾਰ ਦੀ ਇਕ ਲੜਕੀ ਦੇ ਲਈ ਵਿਕਾਸ ਦਾ ਟੀਚਾ ਕੀ ਹੋ ਸਕਦਾ ਹੈ ? 1

#### ਜਾਂ

ਅਮੀਰ ਕਿਸਾਨਾਂ ਦੇ ਲਈ ਵਿਕਾਸ ਦਾ ਟੀਚਾ ਕੀ ਹੋ ਸਕਦਾ ਹੈ ? 1

2. ਝਾਰਖੰਡ ਵਿਚ ਖਾਣਾਂ ਦੀ ਖੁਦਾਈ ਦੇ ਕੰਮ ਕਿਵੇਂ ਭੌ-ਅਧੋਗਤੀ (ਧਰਤੀ ਵਿਚ ਗਿਰਾਵਟ) ਲਈ ਜੁਮੇਵਾਰ ਹਨ ? 1

#### ਜਾਂ

ਗੁਜਰਾਤ ਵਿਚ ਵਧੇਰੇ ਪਸ਼ੂਚਾਰਨ ਭੌ-ਅਧੋਗਤੀ ਦੇ ਲਈ ਕਿਵੇਂ ਜੁਮੇਵਾਰ ਹੈ ? 1

3. ਛਪਾਈ (ਮੁਦਰਣ) ਯੁਗ ਤੋਂ ਪਹਿਲਾਂ ਭਾਰਤ ਵਿਚ ਦਸਤਾਵੇਜ਼ਾਂ ਦੀ ਖੁਲ੍ਹੀ ਵਰਤੋਂ ਕਿਉਂ ਨਹੀਂ ਕੀਤੀ ਜਾਂਦੀ ਸੀ ? 1

#### ਜਾਂ

ਭਾਰਤ ਵਿਚ ਵੀਹਵੀਂ ਸਦੀ ਦੇ ਮੁਢਲੇ ਦਹਾਕਿਆਂ ਵਿਚ ਇਸਤ੍ਰੀਆਂ ਅਤੇ ਬੱਚਿਆਂ ਨੂੰ ਨਾਵਲ ਪੜ੍ਹਨ ਤੋਂ ਵਰਜਿਆ ਕਿਉਂ ਜਾਂਦਾ ਸੀ ? 1



4. ਸ੍ਰੀ ਲੰਕਾ ਵਿਚ ਘਰੇਲੂ ਖਾਨਾ ਜੰਗੀ (ਸਿਵਲ ਵਾਰ) ਕਿਉਂ ਸ਼ੁਰੂ ਹੋਈ ? 1
5. 1815 ਵਿਚ ਜਿਆਦਾਤਰ 'ਰੂੜੀਵਾਦੀ ਸ਼ਾਸਨ ਪੱਧਤੀਆਂ' ਨੇ ਫਰਾਂਸੀਸੀ ਕਰਾਂਤੀ ਨਾਲ ਜੁੜੀ ਛਾਪੀ ਹੋਈ ਸਮਗਰੀ ਤੇ ਕਾਬੂ ਰਖਣ ਦੇ ਲਈ ਸੈਂਸਰਸ਼ਿਪ ਦੇ ਨਿਯਮ ਕਿਉਂ ਬਣਾਏ ? 1

ਜਾਂ

- 1907 ਵਿਚ ਵਿਯਤਨਾਮ ਵਿਚ 'ਟੋਕਿਨ ਫਰੀ ਸਕੂਲ' ਕਿਉਂ ਖੋਲ੍ਹੇ ਗਏ ? 1
6. ਦੂਸਰੇ ਖੇਤਰਕ ਦੀਆਂ ਆਰਥਿਕ ਸਰਗਰਮੀਆਂ ਦੇ ਦੋ ਉਦਾਹਰਣ ਦਿਓ ।  $\frac{1}{2} + \frac{1}{2} = 1$
7. ਬਹੁ ਰਾਸ਼ਟਰੀ ਕੰਪਨੀਆਂ ਕਿਵੇਂ ਦੂਸਰੀਆਂ ਕੰਪਨੀਆਂ ਨਾਲੋਂ ਵੱਖ ਹਨ ? 1

ਖੰਡ ਬ

8. ਭਾਰਤ ਵਿਚ ਵਿਦੇਸ਼ੀ ਮੁਦਰਾ (ਨਿਵੇਸ਼) ਨੂੰ ਆਕਰਸ਼ਿਤ ਕਰਨ ਦੇ ਲਈ ਕੇਂਦਰ ਅਤੇ ਰਾਜ ਸਰਕਾਰਾਂ ਰਾਹੀਂ ਚੁਕੇ ਗਏ ਕਿਸੇ ਤਿੰਨ ਕਦਮਾਂ ਦਾ ਵਰਨਨ ਕਰੋ ।  $1 \times 3 = 3$
9. "ਉਧਾਰ ਸਕਾਰਾਤਮਕ ਭੂਮਿਕਾ ਅਦਾ ਕਰ ਸਕਦਾ ਹੈ ।" ਦਲੀਲਾਂ ਦੇ ਕੇ ਇਸ ਕਥਨ ਨੂੰ ਉੱਚਤ ਠਹਿਰਾਓ । 3

ਜਾਂ

- "ਉਧਾਰ ਨਕਾਰਾਤਮਕ ਭੂਮਿਕਾ ਅਦਾ ਕਰ ਸਕਦਾ ਹੈ ।" ਦਲੀਲਾਂ ਦੇ ਕੇ ਇਸ ਕਥਨ ਨੂੰ ਉੱਚਤ ਠਹਿਰਾਓ । 3
10. ਇੱਕਲੇ ਖੇਤੀ ਬਾੜੀ ਖੇਤਰ ਵਿਚ ਹੀ ਵਧੇਰੇ ਰੁਜ਼ਗਾਰ ਕਿਵੇਂ ਪੈਦਾ ਕੀਤੇ ਜਾ ਸਕਦੇ ਹਨ ? ਕਿਸੇ ਤਿੰਨ ਤਰੀਕਿਆਂ ਦੀ ਵਿਆਖਿਆ ਕਰੋ ।  $1 \times 3 = 3$

ਜਾਂ

- ਭਾਰਤ ਵਿਚ ਬੇਰੋਜ਼ਗਾਰੀ ਦੀ ਸਮਸਿਆ ਨੂੰ ਕਿਵੇਂ ਦੂਰ ਕੀਤਾ ਜਾ ਸਕਦਾ ਹੈ ? ਕਿਸੇ ਤਿੰਨ ਤਰੀਕਿਆਂ ਦੀ ਵਿਆਖਿਆ ਕਰੋ । 3
11. "ਭਾਰਤ ਵਿਚ ਧਰਤੀ ਦੀਆਂ ਵੱਖੋ ਵੱਖ ਪ੍ਰਕਾਰ ਦੀਆਂ ਭੌ-ਆਕ੍ਰਿਤੀਆਂ ਮਿਲਦੀਆਂ ਹਨ ।" ਤਿੰਨ ਉਦਾਹਰਣ ਦੇ ਕੇ ਕਥਨ ਨੂੰ ਉੱਚਤ ਠਹਿਰਾਓ ।  $1 \times 3 = 3$
12. ਸਾਨੂੰ ਕੁਦਰਤੀ ਸਾਧਨ ਸਰੋਤਾਂ ਦੀ ਨਿਯਾਂਪੂਰਕ ਅਤੇ ਸਹੀ ਢੰਗ ਨਾਲ ਵਰਤੋਂ ਕਿਉਂ ਕਰਨੀ ਚਾਹੀਦੀ ਹੈ ? ਆਪਣੇ ਵਿਚਾਰ ਨੂੰ ਸਪਸ਼ਟ ਕਰੋ । 3



13. ਬ੍ਰਿਟੇਨ ਕਿਵੇਂ ਇਕ ਰਾਸ਼ਟਰ-ਰਾਜ ਦੇ ਰੂਪ ਵਿਚ ਹੋਂਦ ਵਿਚ ਆਇਆ ? ਵਿਆਖਿਆ ਕਰੋ । 3

ਜਾਂ

ਵਿਯਤਨਾਮ ਵਿਚ ਸਕੂਲ ਕਿਵੇਂ ਰਾਜਨੀਤਿਕ ਅਤੇ ਸਭਿਆਚਾਰਕ ਸੰਘਰਸ਼ ਦੇ ਅਖਾੜਿਆਂ ਵਿਚ ਬਦਲ ਗਏ ? ਵਿਆਖਿਆ ਕਰੋ । 3

14. “ਜ਼ਿਆਦਾਤਰ ਸਥਾਪਤ ਲੋਕਤੰਤਰੀ ਵਿਵਸਥਾਵਾਂ ਦੇ ਸਾਮ੍ਹਣੇ ਲੋਕਤੰਤਰ ਦੇ ਵਿਸਤਾਰ ਦੀ ਚੁਣੌਤੀ ਹੈ ।” ਉਦਾਹਰਣਾਂ ਦੇ ਕੇ ਕਥਨ ਦੀ ਪੁਸ਼ਟੀ ਕਰੋ । 3

15. ਉਨ੍ਹੀਵੀਂ ਸਦੀ ਵਿਚ ਯੂਰੋਪ ਵਿਚ ਕਿਵੇਂ ਬਚਿਆਂ, ਇਸਤ੍ਰੀਆਂ ਅਤੇ ਕਾਮਿਆਂ (ਮਜਦੂਰਾਂ) ਦੇ ਦਰਮਿਆਨ ਵੱਡੀ ਗਿਣਤੀ ਵਿਚ ਨਵੇਂ ਪਾਠਕ ਵਧੇ ? ਉਦਾਹਰਣਾਂ ਸਹਿਤ ਵਿਆਖਿਆ ਕਰੋ । 3

ਜਾਂ

ਔਪਨਿਵੇਸ਼ਿਕ (ਬਸਤੀਵਾਦੀ) ਸਰਕਾਰ ਨੂੰ ਸਥਾਨਕ ਬੋਲੀ ਵਿਚ ਲਿੱਖੇ ਨਾਵਲਾਂ ਵਿਚ ਦੇਸੀ ਜੀਵਨ ਅਤੇ ਰੀਤੀ ਰਿਵਾਜਾਂ ਨਾਲ ਜੁੜੀ ਜਾਣਕਾਰੀ ਦਾ ਵਡਮੁੱਲਾ ਸਰੋਤ ਕਿਵੇਂ ਨਜ਼ਰ ਆਇਆ ? ਉਦਾਹਰਣਾਂ ਸਹਿਤ ਵਿਆਖਿਆ ਕਰੋ । 3

16. ਦੇਸ਼ ਦੇ ਆਰਥਿਕ ਵਿਕਾਸ ਦੀ ਰੀੜ ਦੇ ਰੂਪ ਵਿਚ ਨਿਰਮਾਣ-ਉਦਯੋਗਾਂ ਦੀ ਮਹਤਤਾ ਦਾ ਵਰਨਨ ਕਰੋ । 3

ਜਾਂ

ਖੇਤੀ ਦੇ ਵਿਕਾਸ ਵਿਚ ਉਦਯੋਗਾਂ ਦੇ ਯੋਗਦਾਨ ਦਾ ਵਰਨਨ ਕਰੋ । 3

17. ਰਾਜਨੀਤੀ ਵਿਚ ਜਾਤ (ਵਰਣ) ਕਿਵੇਂ ਅਨੇਕਾਂ ਰੂਪ ਲੈ ਸਕਦੀ ਹੈ ? ਉਦਾਹਰਣਾ ਸਹਿਤ ਵਿਆਖਿਆ ਕਰੋ । 3

ਜਾਂ

ਸਾਡੇ ਦੇਸ਼ ਵਿਚ ਆਜ਼ਾਦੀ ਪਿੱਛੋਂ ਇਸਤ੍ਰੀਆਂ ਦੀ ਅਵਸਥਾ ਵਿਚ ਕਿਵੇਂ ਸੁਧਾਰ ਹੋਇਆ ਹੈ ? ਉਦਾਹਰਣਾਂ ਸਹਿਤ ਵਿਆਖਿਆ ਕਰੋ । 3

18. “ਲੋਕਤੰਤਰੀ ਵਿਵਸਥਾ ਦੀ ਵਡੀ ਸਫਲਤਾ ਨਿਯਮ ਅਨੁਸਾਰ ਅਤੇ ਨਿਰਪੱਖ ਚੁਨਾਵਾਂ ਵਿਚ ਹੈ ।” ਇਸ ਕਥਨ ਦਾ ਵਿਸ਼ਲੇਸ਼ਣ ਕਰੋ । 3

ਖੰਡ ਸ

19. ਭਾਰਤ ਵਰਗੇ ਵੱਡੇ ਦੇਸ਼ ਵਿਚ ਤਿੰਨ ਸਤਰੀ ਸਰਕਾਰ ਦੀ ਮਹਤਤਾ ਦਾ ਵਰਨਨ ਕਰੋ ।  $1 \times 5 = 5$

ਜਾਂ

ਸੰਘਵਾਦ ਦੀਆਂ ਕਿਸੇ ਪੰਜ ਵਿਸ਼ੇਸ਼ਤਾਵਾਂ ਦਾ ਵਰਨਨ ਕਰੋ ।  $1 \times 5 = 5$



20. ਮਹਾਤਮਾ ਗਾਂਧੀ ਦੇ ਵਿਚਾਰਾਂ ਅਤੇ ਸਵਰਾਜ ਦੀ ਧਾਰਨਾਂ ਦੇ ਬਾਰੇ ਵਿਚ ਪਲਾਂਟੇਸ਼ਨ ਮਜ਼ਦੂਰਾਂ ਦੀ ਆਪਣੀ ਸੋਚ ਕਿਵੇਂ ਸੀ ? ਵਿਆਖਿਆ ਕਰੋ । 5

ਜਾਂ

ਭਾਰਤ ਦੇ ਵੱਖੋ ਵੱਖ ਭਾਗਾਂ ਵਿਚ ਕਿਸਾਨਾਂ ਅਤੇ ਆਦਿਵਾਸੀਆਂ ਨੇ ‘ਨਾਮਿਲਵਰਤਨ ਅੰਦੋਲਨ’ ਵਿਚ ਕਿਵੇਂ ਹਿੱਸਾ ਲਿਆ ? ਵਿਆਖਿਆ ਕਰੋ । 5

21. ਭਾਰਤੀ ਖੇਤੀਬਾੜੀ ਵਿਚ ਸੁਧਾਰ ਲਿਆਣ ਦੇ ਲਈ ਭਾਰਤ ਸਰਕਾਰ ਰਾਹੀਂ ਕੀਤੇ ਗਏ ਕਿਸੇ ਪੰਜ ਪ੍ਰੋਯੋਗਨੀ (ਟੈਕਨੋਲੋਜੀ) ਸੰਬੰਧੀ ਅਤੇ ਸੰਸਥਾਗਤ (ਇੰਸਟੀਟਿਊਸ਼ਨਲ) ਸੁਧਾਰਾਂ ਦਾ ਵਰਨਨ ਕਰੋ । 1×5=5

22. 1920 ਦੇ ਦਹਾਕੇ ਦੇ ਮੁਢਲੇ ਸਮੇਂ ਦੇ ਦੌਰਾਨ ਅਮਰੀਕੀ ਅਰਥਵਿਵਸਥਾ ਕਿਵੇਂ ਤੇਜ਼ੀ ਨਾਲ ਤਰੱਕੀ ਕਰਨ ਲਗੀ ? ਉਦਾਹਰਣਾਂ ਸਹਿਤ ਵਿਆਖਿਆ ਕਰੋ । 5

ਜਾਂ

ਉਨ੍ਹੀਵੀਂ ਸਦੀ ਦੇ ਦੌਰਾਨ ਇੰਗਲੈਂਡ ਦੇ ਬਜਾਰ ਵਿਚ ਮਜ਼ਦੂਰੀ ਦੀ ਬਹੁਤਾਤ ਦਾ ਮਜ਼ਦੂਰਾਂ ਦੀ ਜਿੰਦਗੀ ਉੱਪਰ ਕਿਹੋ ਜਿਹਾ ਅਸਰ ਹੋਇਆ ? ਉਦਾਹਰਣਾਂ ਸਹਿਤ ਵਿਆਖਿਆ ਕਰੋ । 5

ਜਾਂ

ਉਨ੍ਹੀਵੀਂ ਸਦੀ ਦੇ ਇੰਗਲੈਂਡ ਦੇ ਘਰਾਂ ਅਤੇ ਕਾਰਖਾਨਿਆਂ ਵਿਚ ਕੋਲੇ ਦੇ ਵੱਡੀ ਪੱਧਰ ਤੇ ਇਸਤੇਮਾਲ ਕਰਨ ਕਾਰਨ ਕਿਵੇਂ ਗੰਭੀਰ ਸਮਸਿਆਵਾਂ ਪੈਦਾ ਹੋ ਗਈਆਂ ਸਨ ? ਉਦਾਹਰਣਾਂ ਸਹਿਤ ਵਿਆਖਿਆ ਕਰੋ । 5

23. “ਕਿਸੇ ਦੇਸ਼ ਦੇ ਅੰਤਰਰਾਸ਼ਟਰੀ ਵਪਾਰ ਨੂੰ ਆਰਥਿਕ ਬੈਰੋਮੀਟਰ ਕਿਹਾ ਜਾਂਦਾ ਹੈ ।” ਦਲੀਲਾਂ ਦੇ ਕੇ ਇਸ ਕਥਨ ਨੂੰ ਉੱਚਤ ਠਹਿਰਾਓ । 5

24. ਹੇਠ ਦਿਤੇ ਰਾਜਨੀਤਕ ਦਲਾਂ ਦੇ ਚੋਣ ਨਿਸ਼ਾਨਾਂ ਅਤੇ ਸੰਬੰਧਤ ਰਾਜਾਂ ਦੀ ਸੂਚੀ ਬਣਾਓ : 1×5=5

- (i) ਸ਼ਿਰੋਮਣੀ ਅਕਾਲੀ ਦਲ
- (ii) ਸਮਾਜਵਾਦੀ ਪਾਰਟੀ
- (iii) ਏ.ਆਈ.ਏ.ਡੀ.ਏਮ.ਕੇ.
- (iv) ਤ੍ਰਿਣਮੂਲ ਕਾਂਗਰੇਸ
- (v) ਰਾਸ਼ਟਰੀ ਜਨਤਾ ਦਲ

25. “ਉਪਭੋਗਤਾਵਾਂ ਨੂੰ ਨਾਵਾਜਬ ਸੌਦੇਬਾਜ਼ੀ ਅਤੇ ਸ਼ੋਸ਼ਣ ਦੇ ਵਿਰੁਧ ਨੁਕਸਾਨ ਦੀ ਭਰਪਾਈ ਦਾ ਅਧਿਕਾਰ ਹੈ ।” ਕਥਨ ਦੀ ਪੁਸ਼ਟੀ ਕਰੋ । 5



## ਖੰਡ ਦ

26. (A) ਦੋ ਲੱਛਣ 'a' ਅਤੇ 'b' ਦਿੱਤੇ ਹੋਏ **ਭਾਰਤ** ਦੇ ਰਾਜਨੀਤਕ ਰੇਖਾ ਮਾਨਚਿੱਤਰ (ਪੰਨਾ 7 ਤੇ) ਵਿਚ ਅੰਕਿਤ ਕੀਤੇ ਗਏ ਹਨ । ਇਨ੍ਹਾਂ ਲੱਛਣਾਂ ਨੂੰ ਹੇਠ ਦਿੱਤੀ ਜਾਣਕਾਰੀ ਦੀ ਮਦਦ ਨਾਲ ਪਛਾਣੋ ਅਤੇ ਇਨ੍ਹਾਂ ਦੇ ਸਹੀ ਨਾਮ, ਮਾਨਚਿੱਤਰ ਵਿਚ ਖਿੱਚੀਆਂ ਹੋਈਆਂ ਰੇਖਾਵਾਂ ਉਪਰ ਲਿਖੋ :  $1 \times 2 = 2$
- (a) ਉਹ ਥਾਂ ਜਿੱਥੇ ਭਾਰਤੀ ਰਾਸ਼ਟਰੀ ਕਾਂਗਰੇਸ ਦਾ ਅਜਲਾਸ ਹੋਇਆ ਸੀ ।
- (b) ਉਹ ਥਾਂ ਜਿੱਥੇ ਨੀਲ ਦੀ ਖੇਤੀ ਕਰਨ ਵਾਲੇ ਕਿਸਾਨਾਂ ਦਾ ਅੰਦੋਲਨ ਸ਼ੁਰੂ ਹੋਇਆ ਸੀ ।
- (B) ਇਸ ਹੀ ਦਿੱਤੇ ਹੋਏ **ਭਾਰਤ** ਦੇ ਰਾਜਨੀਤਕ ਰੇਖਾ ਮਾਨਚਿੱਤਰ ਵਿਚ ਹੇਠ ਲਿਖਿਆਂ ਵਿਚੋਂ **ਕਿਸੇ ਤਿੰਨ** ਨੂੰ ਢੁਕਵੇਂ ਚਿਹਨਾਂ ਰਾਹੀਂ ਦਰਸਾਓ ਅਤੇ ਉਨ੍ਹਾਂ ਦੇ ਨਾਮ ਲਿਖੋ :  $1 \times 3 = 3$
- (i) ਹੀਰਾਕੁਡ – ਬੰਧ (ਡੈਮ)
- (ii) ਕੋਚੀ – ਪ੍ਰਮੁਖ ਸਮੁੰਦਰੀ ਬੰਦਰਗਾਹ
- (iii) ਸੇਲਮ – ਲੋਹਾ ਅਤੇ ਸਟੀਲ ਦਾ ਕਾਰਖਾਨਾ
- (iv) ਹੈਦਰਾਬਾਦ – ਸਾਫਟਵੇਅਰ ਟੈਕਨੋਲੋਜੀ ਪਾਰਕ
- (v) ਨਰੋਰਾ – ਨਿਊਕਲਿਅਰ ਪਾਵਰ ਪਲਾਂਟ

**ਨੋਟ:** ਹੇਠ ਲਿਖਿਆ ਪ੍ਰਸ਼ਨ ਕੇਵਲ **ਦ੍ਰਿਸ਼ਟੀ ਵਿਕਲਾਂਗ ਪ੍ਰੀਖਿਆਰਥੀਆਂ** ਦੇ ਲਈ ਪ੍ਰਸ਼ਨ ਸੰਖਿਆ 26 ਦੇ ਥਾਂ ਬਦਲਵੇਂ ਪ੍ਰਸ਼ਨ ਹਨ । **ਕਿਸੇ ਪੰਜ** ਪ੍ਰਸ਼ਨਾਂ ਦੇ ਉੱਤਰ ਦਿਓ :

- (26.1) ਉਸ ਰਾਜ ਦਾ ਨਾਮ ਲਿਖੋ, ਜਿੱਥੇ ਜਲਿਆਂਵਾਲਾ ਬਾਗ ਦੀ ਘਟਨਾ ਹੋਈ ।
- (26.2) ਉਸ ਸਥਾਨ ਦਾ ਨਾਮ ਲਿਖੋ, ਜਿੱਥੇ ਨੀਲ ਦੀ ਖੇਤੀ ਦੇ ਲਈ ਕਿਸਾਨਾਂ ਨੇ ਸਤਿਆਗਰਹਿ ਕੀਤਾ ਸੀ ।
- (26.3) ਗੁਜਰਾਤ ਦੇ ਉਸ ਸਥਾਨ ਦਾ ਨਾਮ ਲਿਖੋ, ਜਿੱਥੇ ਕਿਸਾਨਾਂ ਨੇ ਸਤਿਆਗਰਹਿ ਕੀਤਾ ਸੀ ।
- (26.4) ਉਸ ਰਾਜ ਦਾ ਨਾਮ ਲਿਖੋ, ਜਿੱਥੇ ਬੈਲਾਰੀ ਲੋਹਾ-ਕੋਚੀ ਧਾਤ ਦੀਆਂ ਖਾਣਾ ਸਥਿਤ ਹਨ ।
- (26.5) ਉਸ ਰਾਜ ਦਾ ਨਾਮ ਲਿਖੋ, ਜਿੱਥੇ ਕੋਚੀ ਸਮੁੰਦਰੀ ਬੰਦਰਗਾਹ ਸਥਿਤ ਹੈ ।
- (26.6) ਉਸ ਰਾਜ ਦਾ ਨਾਮ ਲਿਖੋ, ਜਿੱਥੇ ਨਰੋਰਾ ਨਿਊਕਲਿਅਰ ਪਾਵਰ ਪਲਾਂਟ ਸਥਿਤ ਹੈ ।
- (26.7) ਉਸ ਰਾਜ ਦਾ ਨਾਮ ਲਿਖੋ, ਜਿੱਥੇ ਦੁਰਗਾਪੁਰ ਲੋਹਾ-ਸਟੀਲ ਕਾਰਖਾਨਾ ਸਥਿਤ ਹੈ ।

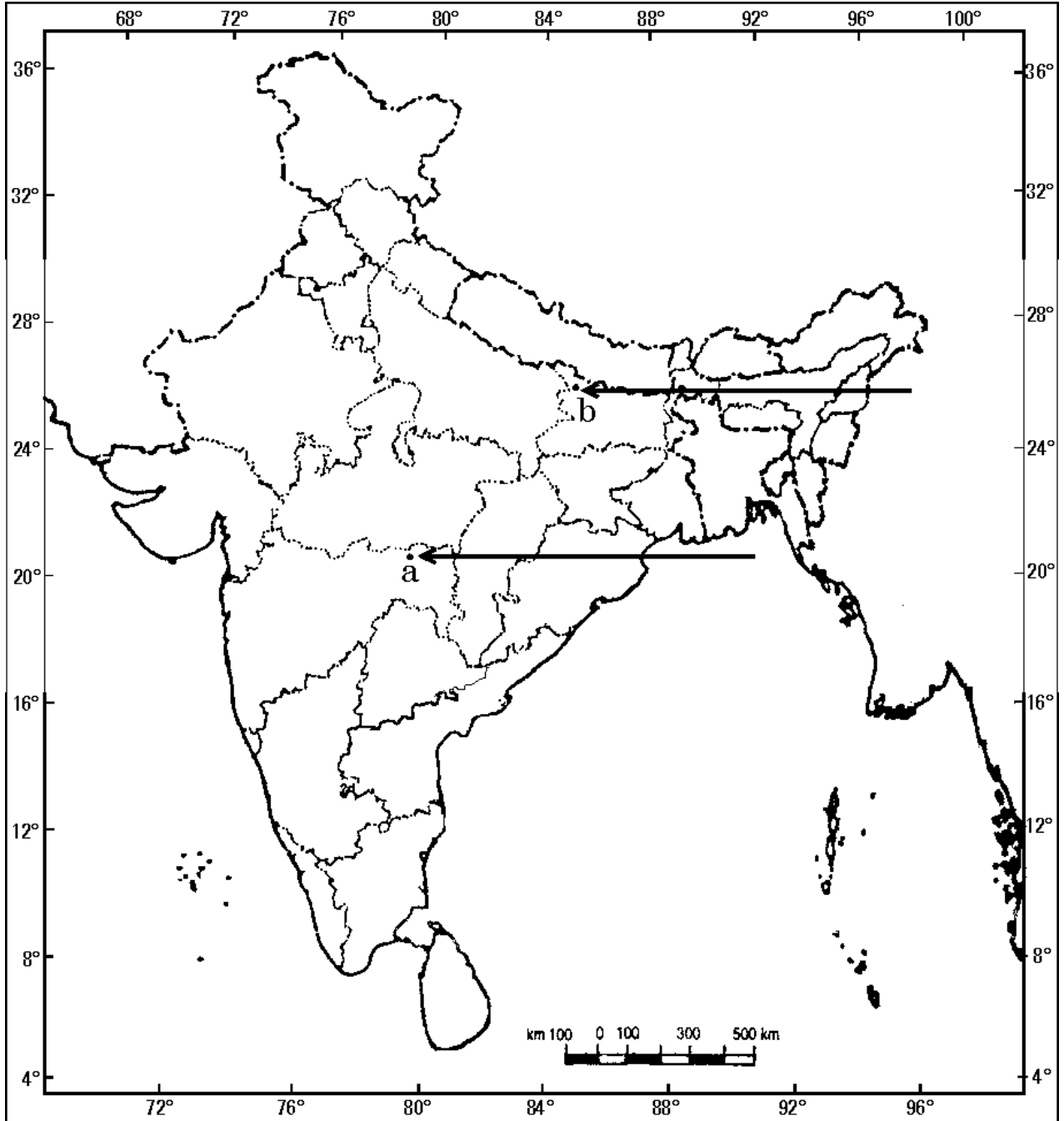
$1 \times 5 = 5$





ਪ੍ਰਸ਼ਨ ਸੰ. 26 ਦੇ ਲਈ

ਭਾਰਤ ਦਾ ਰੇਖਾ ਮਾਨਚਿੱਤਰ (ਰਾਜਨੀਤਕ)  
Outline Map of India (Political)



**SET-3****Series JMS/3****ਕੋਡ ਨੰ. 42/3/3**

ਰੋਲ ਨੰਬਰ

--	--	--	--	--	--	--

Candidates must write the Code on the title page of the answer-book.

- ਕਿਰਪਾ ਕਰਕੇ ਨਿਰੀਖਣ ਕਰ ਲਵੋ ਕਿ ਇਸ ਪ੍ਰਸ਼ਨ ਪੱਤਰ ਤੇ ਛਪੇ ਹੋਏ **6** ਪੰਨੇ + **1** ਨਕਸ਼ੇ ਹਨ ।
- ਪ੍ਰਸ਼ਨ ਪੱਤਰ ਦੇ ਉੱਪਰ ਸੱਜੇ ਹੱਥ ਦਿੱਤੇ ਗਏ ਕੋਡ ਨੰ. ਨੂੰ ਪ੍ਰੀਖਿਆਰਥੀ ਉੱਤਰ ਪੁਸਤਿਕਾ ਦੇ ਮੁੱਖ ਪੰਨੇ ਤੇ ਜ਼ਰੂਰ ਲਿੱਖਣ ।
- ਕਿਰਪਾ ਕਰਕੇ ਦੇਖ ਲਵੋ ਕਿ ਇਸ ਪ੍ਰਸ਼ਨ ਪੱਤਰ ਵਿਚ **26** ਪ੍ਰਸ਼ਨ ਹਨ ।
- ਕਿਰਪਾ ਕਰਕੇ ਉੱਤਰ ਲਿਖਣਾ ਸ਼ੁਰੂ ਕਰਨ ਤੋਂ ਪਹਿਲਾਂ, ਪ੍ਰਸ਼ਨ ਦਾ ਕ੍ਰਮਾਂਕ (ਸੀਰੀਅਲ ਨੰਬਰ) ਜ਼ਰੂਰ ਲਿੱਖੋ ।
- ਇਸ ਪ੍ਰਸ਼ਨ ਪੱਤਰ ਨੂੰ ਪੜ੍ਹਨ ਦੇ ਲਈ 15 ਮਿੰਟ ਦਾ ਸਮਾਂ ਦਿੱਤਾ ਗਿਆ ਹੈ । ਪ੍ਰਸ਼ਨ ਪੱਤਰ ਸਵੇਰੇ 10.15 ਵਜੇ ਵੰਡੇ ਜਾਣਗੇ । 10.15 ਵਜੇ ਤੋਂ 10.30 ਵਜੇ ਤਕ ਪ੍ਰੀਖਿਆਰਥੀ ਕੇਵਲ ਪ੍ਰਸ਼ਨ ਪੱਤਰ ਨੂੰ ਪੜ੍ਹਨਗੇ ਅਤੇ ਇਸ ਸਮੇਂ ਵਿਚ ਉਹ ਉੱਤਰ ਪੁਸਤਿਕਾ ਵਿਚ ਕੋਈ ਉੱਤਰ ਨਹੀਂ ਲਿਖਣਗੇ ।
- Please check that this question paper contains **6** printed pages + **1** Map.
- Code number given on the right hand side of the question paper should be written on the title page of the answer-book by the candidate.
- Please check that this question paper contains **26** questions.
- **Please write down the Serial Number of the question before attempting it.**
- 15 minute time has been allotted to read this question paper. The question paper will be distributed at 10.15 a.m. From 10.15 a.m. to 10.30 a.m., the students will read the question paper only and will not write any answer on the answer-book during this period.

# ਸਮਾਜਿਕ ਵਿਗਿਆਨ

(ਪੰਜਾਬੀ ਉਲਥਾ)

## SOCIAL SCIENCE

(Punjabi Version)

ਸਮਾਂ ਸੀਮਾਂ : 3 ਘੰਟੇ

Time allowed : 3 hours

ਪੂਰਨ ਅੰਕ : 80

Maximum Marks : 80



**ਵਿਆਪਕ ਨਿਰਦੇਸ਼ :**

- (i) ਇਸ ਪ੍ਰਸ਼ਨ ਪੱਤਰ ਨੂੰ ਚਾਰ ਖੰਡਾਂ ਵਿਚ ਵੰਡਿਆ ਗਿਆ ਹੈ । ਖੰਡ ਅ, ਖੰਡ ਬ, ਖੰਡ ਸ ਅਤੇ ਖੰਡ ਦ ।
- (ii) ਇਸ ਪ੍ਰਸ਼ਨ ਪੱਤਰ ਵਿਚ ਕੁਲ 26 ਪ੍ਰਸ਼ਨ ਹਨ ।
- (iii) ਸਾਰੇ ਪ੍ਰਸ਼ਨ ਜ਼ਰੂਰੀ ਹਨ ।
- (iv) ਹਰ ਇਕ ਪ੍ਰਸ਼ਨ ਦੇ ਸਾਮ੍ਹਣੇ ਉਸ ਦੇ ਅੰਕ ਦਿੱਤੇ ਹੋਏ ਹਨ ।
- (v) ਪ੍ਰਸ਼ਨ ਸੰਖਿਆ 1 ਤੋਂ 7 ਤੱਕ ਬਹੁਤ ਛੋਟੇ ਉੱਤਰ ਵਾਲੇ ਪ੍ਰਸ਼ਨ ਹਨ । ਹਰ ਇਕ ਪ੍ਰਸ਼ਨ 1 ਅੰਕ ਦਾ ਹੈ ।
- (vi) ਪ੍ਰਸ਼ਨ ਸੰਖਿਆ 8 ਤੋਂ 18 ਤੱਕ ਹਰ ਇਕ ਪ੍ਰਸ਼ਨ 3 ਅੰਕ ਦਾ ਹੈ । ਇਨ੍ਹਾਂ ਵਿੱਚੋਂ ਹਰ ਇਕ ਪ੍ਰਸ਼ਨ ਦਾ ਉੱਤਰ 80 ਸ਼ਬਦਾਂ ਤੋਂ ਜ਼ਿਆਦਾ ਨਹੀਂ ਹੋਣਾ ਚਾਹੀਦਾ ਹੈ ।
- (vii) ਪ੍ਰਸ਼ਨ ਸੰਖਿਆ 19 ਤੋਂ 25 ਤੱਕ ਹਰ ਇਕ ਪ੍ਰਸ਼ਨ 5 ਅੰਕ ਦਾ ਹੈ । ਇਨ੍ਹਾਂ ਵਿੱਚੋਂ ਹਰ ਇਕ ਪ੍ਰਸ਼ਨ ਦਾ ਉੱਤਰ 100 ਸ਼ਬਦਾਂ ਤੋਂ ਜ਼ਿਆਦਾ ਨਹੀਂ ਹੋਣਾ ਚਾਹੀਦਾ ਹੈ ।
- (viii) ਪ੍ਰਸ਼ਨ ਸੰਖਿਆ 26 ਮਾਨਚਿੱਤਰ ਸੰਬੰਧੀ ਪ੍ਰਸ਼ਨ 5 ਅੰਕ ਦਾ ਹੈ । ਇਸ ਦੇ ਦੋ ਭਾਗ - 26 (A) ਅਤੇ 26 (B) ਹਨ । 26 (A) 2 ਅੰਕ ਦਾ ਇਤਿਹਾਸ ਨਾਲ ਅਤੇ 26 (B) 3 ਅੰਕ ਦਾ ਭੂਗੋਲ ਨਾਲ ਸੰਬੰਧਤ ਹਨ । ਮਾਨਚਿੱਤਰ ਦਾ ਪ੍ਰਸ਼ਨ ਪੂਰਾ ਕਰਕੇ ਆਪਣੀ ਉੱਤਰ ਪੁਸਤਕ ਨਾਲ ਨੱਥੀ ਕਰੋ ।

**ਖੰਡ ਅ**

1. ਝਾਰਖੰਡ ਵਿਚ ਖਾਣਾਂ ਦੀ ਖੁਦਾਈ ਦੇ ਕੰਮ ਕਿਵੇਂ ਭੈਂ-ਅਧੋਗਤੀ (ਧਰਤੀ ਵਿਚ ਗਿਰਾਵਟ) ਲਈ ਜੁੜੇਵਾਰ ਹਨ ? 1  
ਜਾਂ  
ਗੁਜਰਾਤ ਵਿਚ ਵਧੇਰੇ ਪਸ਼ੁਚਾਰਨ ਭੈਂ-ਅਧੋਗਤੀ ਦੇ ਲਈ ਕਿਵੇਂ ਜੁੜੇਵਾਰ ਹੈ ? 1
2. ਸ਼ਹਿਰ ਦੇ ਅਮੀਰ ਪਰਿਵਾਰ ਦੀ ਇਕ ਲੜਕੀ ਦੇ ਲਈ ਵਿਕਾਸ ਦਾ ਟੀਚਾ ਕੀ ਹੋ ਸਕਦਾ ਹੈ ? 1  
ਜਾਂ  
ਅਮੀਰ ਕਿਸਾਨਾਂ ਦੇ ਲਈ ਵਿਕਾਸ ਦਾ ਟੀਚਾ ਕੀ ਹੋ ਸਕਦਾ ਹੈ ? 1
3. 1815 ਵਿਚ ਜਿਆਦਾਤਰ 'ਰੂੜੀਵਾਦੀ ਸ਼ਾਸਨ ਪੱਧਤੀਆਂ' ਨੇ ਫਰਾਂਸੀਸੀ ਕਰਾਂਤੀ ਨਾਲ ਜੁੜੀ ਛਾਪੀ ਹੋਈ ਸਮਗਰੀ ਤੇ ਕਾਬੂ ਰਖਣ ਦੇ ਲਈ ਸੈਂਸਰਸ਼ਿਪ ਦੇ ਨਿਯਮ ਕਿਉਂ ਬਣਾਏ ? 1  
ਜਾਂ  
1907 ਵਿਚ ਵਿਯਤਨਾਮ ਵਿਚ 'ਟੋਕਿਨ ਫਰੀ ਸਕੂਲ' ਕਿਉਂ ਖੋਲ੍ਹੇ ਗਏ ? 1



4. ਡਚ ਅਤੇ ਫਰੈਂਚ ਬੋਲਣ ਵਾਲੇ ਲੋਕਾਂ ਦੀ ਬੈਲਜਿਅਮ ਵਿਚ 'ਸਮਾਜਕ' ਸਰਕਾਰ ਵਿਚ ਸਮਾਈ ਕਿਵੇ ਕੀਤੀ ਗਈ ? 1

5. ਛਪਾਈ (ਮੁਦਰਣ) ਯੁਗ ਤੋਂ ਪਹਿਲਾਂ ਭਾਰਤ ਵਿਚ ਦਸਤਾਵੇਜ਼ਾਂ ਦੀ ਖੁਲ੍ਹੀ ਵਰਤੋਂ ਕਿਉਂ ਨਹੀ ਕੀਤੀ ਜਾਂਦੀ ਸੀ ? 1

ਜਾਂ

ਭਾਰਤ ਵਿਚ ਵੀਹਵੀਂ ਸਦੀ ਦੇ ਮੁਢਲੇ ਦਹਾਕਿਆਂ ਵਿਚ ਇਸਤ੍ਰੀਆਂ ਅਤੇ ਬੱਚਿਆਂ ਨੂੰ ਨਾਵਲ ਪੜ੍ਹਨ ਤੋਂ ਵਰਜਿਆ ਕਿਉਂ ਜਾਂਦਾ ਸੀ ? 1

6. ਤੀਸਰੇ ਪ੍ਰਕਾਰ ਦੇ ਖੇਤਰਕ ਰਾਹੀਂ ਲਿਆਂਦੀਆਂ ਗਈਆਂ ਕਿਸੇ ਦੋ ਮੂਲ ਸੇਵਾਵਾਂ ਦੇ ਉਦਾਹਰਣ ਲਿਖੋ ।  $\frac{1}{2} + \frac{1}{2} = 1$

7. ਕਿਸੇ ਦੋ ਵੱਡੀਆਂ ਭਾਰਤੀ ਕੰਪਨੀਆਂ ਦੇ ਨਾਮ ਲਿਖੋ, ਜਿਹੜੀਆਂ ਬਹੁਰਾਸ਼ਟਰੀ ਕੰਪਨੀਆਂ ਦੇ ਰੂਪ ਵਿਚ ਉਭਰੀਆਂ ਹਨ ।  $\frac{1}{2} + \frac{1}{2} = 1$

ਖੰਡ ਬ

8. ਸਾਨੂੰ ਕੁਦਰਤੀ ਸਾਧਨ ਸਰੋਤਾਂ ਦੀ ਨਿਯਾਂਪੂਰਕ ਅਤੇ ਸਹੀ ਢੰਗ ਨਾਲ ਵਰਤੋਂ ਕਿਉਂ ਕਰਨੀ ਚਾਹੀਦੀ ਹੈ ? ਆਪਣੇ ਵਿਚਾਰ ਨੂੰ ਸਪਸ਼ਟ ਕਰੋ । 3

9. ਇੱਕਲੇ ਖੇਤੀ ਬਾੜੀ ਖੇਤਰ ਵਿਚ ਹੀ ਵਧੇਰੇ ਰੁਜ਼ਗਾਰ ਕਿਵੇਂ ਪੈਦਾ ਕੀਤੇ ਜਾ ਸਕਦੇ ਹਨ ? ਕਿਸੇ ਤਿੰਨ ਤਰੀਕਿਆਂ ਦੀ ਵਿਆਖਿਆ ਕਰੋ ।  $1 \times 3 = 3$

ਜਾਂ

ਭਾਰਤ ਵਿਚ ਬੇਰੋਜ਼ਗਾਰੀ ਦੀ ਸਮਸਿਆ ਨੂੰ ਕਿਵੇਂ ਦੂਰ ਕੀਤਾ ਜਾ ਸਕਦਾ ਹੈ ? ਕਿਸੇ ਤਿੰਨ ਤਰੀਕਿਆਂ ਦੀ ਵਿਆਖਿਆ ਕਰੋ । 3

10. "ਉਧਾਰ ਸਕਾਰਾਤਮਕ ਭੂਮਿਕਾ ਅਦਾ ਕਰ ਸਕਦਾ ਹੈ ।" ਦਲੀਲਾਂ ਦੇ ਕੇ ਇਸ ਕਥਨ ਨੂੰ ਉੱਚਤ ਠਹਿਰਾਓ । 3

ਜਾਂ

"ਉਧਾਰ ਨਕਾਰਾਤਮਕ ਭੂਮਿਕਾ ਅਦਾ ਕਰ ਸਕਦਾ ਹੈ ।" ਦਲੀਲਾਂ ਦੇ ਕੇ ਇਸ ਕਥਨ ਨੂੰ ਉੱਚਤ ਠਹਿਰਾਓ । 3

11. "ਮਨੁਖੀ ਸਰਗਰਮੀਆਂ ਨੇ ਧਰਤੀ (ਭੌਂ) ਦੇ ਨਿਮਨੀਕਰਨ ਵਿਚ ਮੁਖ ਭੂਮਿਕਾ ਨਿਭਾਈ ਹੈ ।" ਤਿੰਨ ਉਦਾਹਰਣ ਦੇ ਕੇ ਇਸ ਕਥਨ ਨੂੰ ਉੱਚਤ ਠਹਿਰਾਓ ।  $1 \times 3 = 3$

12. ਭਾਰਤ ਵਿਚ ਵਿਦੇਸ਼ੀ ਮੁਦਰਾ (ਨਿਵੇਸ਼) ਨੂੰ ਆਕਰਸ਼ਿਤ ਕਰਨ ਦੇ ਲਈ ਕੇਂਦਰ ਅਤੇ ਰਾਜ ਸਰਕਾਰਾਂ ਰਾਹੀਂ ਚੁਕੇ ਗਏ ਕਿਸੇ ਤਿੰਨ ਕਦਮਾਂ ਦਾ ਵਰਨਨ ਕਰੋ ।  $1 \times 3 = 3$



13. ਰਾਜਨੀਤੀ ਵਿਚ ਜਾਤ (ਵਰਣ) ਕਿਵੇਂ ਅਨੇਕਾਂ ਰੂਪ ਲੈ ਸਕਦੀ ਹੈ ? ਉਦਾਹਰਣਾ ਸਹਿਤ ਵਿਆਖਿਆ ਕਰੋ । 3

ਜਾਂ

ਸਾਡੇ ਦੇਸ਼ ਵਿਚ ਆਜ਼ਾਦੀ ਪਿੱਛੋਂ ਇਸਤ੍ਰੀਆਂ ਦੀ ਅਵਸਥਾ ਵਿਚ ਕਿਵੇਂ ਸੁਧਾਰ ਹੋਇਆ ਹੈ ? ਉਦਾਹਰਣਾਂ ਸਹਿਤ ਵਿਆਖਿਆ ਕਰੋ । 3

14. “ਕਨੂੰਨ ਬਣਾ ਕੇ ਰਾਜਨੀਤੀ ਨੂੰ ਸੁਧਾਰਨ ਦੀ ਸੋਚ ਦੀ ਖਿਲਾਫਤ ਹੋਣੀ ਚਾਹੀਦੀ ਹੈ ।” ਕਥਨ ਦੀ ਪੁਸ਼ਟੀ ਉਦਾਹਰਣਾਂ ਦੇ ਕੇ ਕਰੋ । 3

15. “ਲੋਕਤੰਤਰੀ ਵਿਵਸਥਾ ਦੀ ਵੱਡੀ ਸਫਲਤਾ ਨਿਯਮ ਅਨੁਸਾਰ ਅਤੇ ਨਿਰਪੱਖ ਚੁਨਾਵਾਂ ਵਿਚ ਹੈ ।” ਇਸ ਕਥਨ ਦਾ ਵਿਸ਼ਲੇਸ਼ਣ ਕਰੋ । 3

16. ਬ੍ਰਿਟੇਨ ਕਿਵੇਂ ਇਕ ਰਾਸ਼ਟਰ-ਰਾਜ ਦੇ ਰੂਪ ਵਿਚ ਹੋਂਦ ਵਿਚ ਆਇਆ ? ਵਿਆਖਿਆ ਕਰੋ । 3

ਜਾਂ

ਵਿਯਤਨਾਮ ਵਿਚ ਸਕੂਲ ਕਿਵੇਂ ਰਾਜਨੀਤਿਕ ਅਤੇ ਸਭਿਆਚਾਰਕ ਸੰਘਰਸ਼ ਦੇ ਅਖਾੜਿਆਂ ਵਿਚ ਬਦਲ ਗਏ ? ਵਿਆਖਿਆ ਕਰੋ । 3

17. ਉਨ੍ਹੀਵੀਂ ਸਦੀ ਵਿਚ ਯੂਰੋਪ ਵਿਚ ਕਿਵੇਂ ਬਚਿਆਂ, ਇਸਤ੍ਰੀਆਂ ਅਤੇ ਕਾਮਿਆਂ (ਮਜਦੂਰਾਂ) ਦੇ ਦਰਮਿਆਨ ਵੱਡੀ ਗਿਣਤੀ ਵਿਚ ਨਵੇਂ ਪਾਠਕ ਵਧੇ ? ਉਦਾਹਰਣਾਂ ਸਹਿਤ ਵਿਆਖਿਆ ਕਰੋ । 3

ਜਾਂ

ਐਪਨਿਵੇਸ਼ਿਕ (ਬਸਤੀਵਾਦੀ) ਸਰਕਾਰ ਨੂੰ ਸਥਾਨਕ ਬੋਲੀ ਵਿਚ ਲਿੱਖੇ ਨਾਵਲਾਂ ਵਿਚ ਦੇਸੀ ਜੀਵਨ ਅਤੇ ਰੀਤੀ ਰਿਵਾਜਾਂ ਨਾਲ ਜੁੜੀ ਜਾਣਕਾਰੀ ਦਾ ਵਡਮੁੱਲਾ ਸਰੋਤ ਕਿਵੇਂ ਨਜ਼ਰ ਆਇਆ ? ਉਦਾਹਰਣਾਂ ਸਹਿਤ ਵਿਆਖਿਆ ਕਰੋ । 3

18. ਦੇਸ਼ ਦੇ ਆਰਥਿਕ ਵਿਕਾਸ ਦੀ ਰੀੜ ਦੇ ਰੂਪ ਵਿਚ ਨਿਰਮਾਣ-ਉਦਯੋਗਾਂ ਦੀ ਮਹਤਤਾ ਦਾ ਵਰਨਨ ਕਰੋ । 3

ਜਾਂ

ਖੇਤੀ ਦੇ ਵਿਕਾਸ ਵਿਚ ਉਦਯੋਗਾਂ ਦੇ ਯੋਗਦਾਨ ਦਾ ਵਰਨਨ ਕਰੋ । 3

ਖੰਡ ਸ

19. “ਕਿਸੇ ਦੇਸ਼ ਦੇ ਅੰਤਰਰਾਸ਼ਟਰੀ ਵਪਾਰ ਨੂੰ ਆਰਥਿਕ ਬੈਰੋਮੀਟਰ ਕਿਹਾ ਜਾਂਦਾ ਹੈ ।” ਦਲੀਲਾਂ ਦੇ ਕੇ ਇਸ ਕਥਨ ਨੂੰ ਉੱਚਤ ਠਹਿਰਾਓ । 5



20. ਭਾਰਤ ਵਰਗੇ ਵੱਡੇ ਦੇਸ਼ ਵਿਚ ਤਿੰਨ ਸਤਰੀ ਸਰਕਾਰ ਦੀ ਮਹਤਤਾ ਦਾ ਵਰਨਨ ਕਰੋ ।  $1 \times 5 = 5$   
ਜਾਂ  
ਸੰਘਵਾਦ ਦੀਆਂ ਕਿਸੇ ਪੰਜ ਵਿਸ਼ੇਸ਼ਤਾਵਾਂ ਦਾ ਵਰਨਨ ਕਰੋ ।  $1 \times 5 = 5$
21. ਵਪਾਰਕ ਖੇਤੀ ਦੀਆਂ ਕਿਸੇ ਪੰਜ ਵਿਸ਼ੇਸ਼ਤਾਵਾਂ ਦਾ ਵਰਨਨ ਕਰੋ ।  $1 \times 5 = 5$
22. ਮਹਾਤਮਾ ਗਾਂਧੀ ਦੇ ਵਿਚਾਰਾਂ ਅਤੇ ਸਵਰਾਜ ਦੀ ਧਾਰਨਾਂ ਦੇ ਬਾਰੇ ਵਿਚ ਪਲਾਂਟੇਸ਼ਨ ਮਜ਼ਦੂਰਾਂ ਦੀ ਆਪਣੀ ਸੋਚ ਕਿਵੇਂ ਸੀ ? ਵਿਆਖਿਆ ਕਰੋ । 5  
ਜਾਂ  
ਭਾਰਤ ਦੇ ਵੱਖੋ ਵੱਖ ਭਾਗਾਂ ਵਿਚ ਕਿਸਾਨਾਂ ਅਤੇ ਆਦਿਵਾਸੀਆਂ ਨੇ ‘ਨਾਮਿਲਵਰਤਨ ਅੰਦੋਲਨ’ ਵਿਚ ਕਿਵੇਂ ਹਿੱਸਾ ਲਿਆ ? ਵਿਆਖਿਆ ਕਰੋ । 5
23. 1920 ਦੇ ਦਹਾਕੇ ਦੇ ਮੁਢਲੇ ਸਮੇਂ ਦੇ ਦੌਰਾਨ ਅਮਰੀਕੀ ਅਰਥਵਿਵਸਥਾ ਕਿਵੇਂ ਤੇਜ਼ੀ ਨਾਲ ਤਰੱਕੀ ਕਰਨ ਲਗੀ ? ਉਦਾਹਰਣਾਂ ਸਹਿਤ ਵਿਆਖਿਆ ਕਰੋ । 5  
ਜਾਂ  
ਉਨ੍ਹੀਵੀਂ ਸਦੀ ਦੇ ਦੌਰਾਨ ਇੰਗਲੈਂਡ ਦੇ ਬਜ਼ਾਰ ਵਿਚ ਮਜ਼ਦੂਰੀ ਦੀ ਬਹੁਤਾਤ ਦਾ ਮਜ਼ਦੂਰਾਂ ਦੀ ਜਿੰਦਗੀ ਉਪਰ ਕਿਹੋ ਜਿਹਾ ਅਸਰ ਹੋਇਆ ? ਉਦਾਹਰਣਾਂ ਸਹਿਤ ਵਿਆਖਿਆ ਕਰੋ । 5  
ਜਾਂ  
ਉਨ੍ਹੀਵੀਂ ਸਦੀ ਦੇ ਇੰਗਲੈਂਡ ਦੇ ਘਰਾਂ ਅਤੇ ਕਾਰਖਾਨਿਆਂ ਵਿਚ ਕੋਲੇ ਦੇ ਵੱਡੀ ਪੱਧਰ ਤੇ ਇਸਤੇਮਾਲ ਕਰਨ ਕਾਰਨ ਕਿਵੇਂ ਗੰਭੀਰ ਸਮਸਿਆਵਾਂ ਪੈਦਾ ਹੋ ਗਈਆਂ ਸਨ ? ਉਦਾਹਰਣਾਂ ਸਹਿਤ ਵਿਆਖਿਆ ਕਰੋ । 5
24. ਪੰਜ ਰਾਜਾਂ ਦੇ ਨਾਮ ਹੇਠ ਦਿਤੇ ਗਏ ਹਨ । ਇਨ੍ਹਾਂ ਵਿਚੋਂ ਹਰ ਇਕ ਰਾਜ ਦੇ ਕਿਸੇ ਇਕ ਖੇਤਰੀ ਰਾਜਨੀਤਿਕ ਦਲ ਨੂੰ ਉਸ ਦੇ ਚੌਣ ਨਿਸ਼ਾਨ ਸਹਿਤ ਲਿਖੋ ।  $1 \times 5 = 5$   
(i) ਜੰਮੂ ਅਤੇ ਕਸ਼ਮੀਰ  
(ii) ਤਮਿਲਨਾਡੁ  
(iii) ਮਹਾਰਾਸ਼ਟਰ  
(iv) ਅਸਮ  
(v) ਉੱਤਰ ਪ੍ਰਦੇਸ਼
25. “ਉਪਭੋਗਤਾ ਨੂੰ ਵਸਤੂਆਂ ਦੇ ਵਿਪਣਨ (ਮਾਰਕੀਟਿੰਗ) ਅਤੇ ਸੇਵਾਵਾਂ ਦੀ ਪ੍ਰਾਪਤੀ ਦੇ ਵਿਰੁਧ ਸੁਰਖਿਅਤ ਰਹਿਣ ਦਾ ਅਧਿਕਾਰ ਹੁੰਦਾ ਹੈ ।” ਕਥਨ ਦੀ ਪੁਸ਼ਟੀ ਕਰੋ । 5





## ਖੰਡ ਦ

26. (A) ਦੋ ਲੱਛਣ 'a' ਅਤੇ 'b' ਦਿੱਤੇ ਹੋਏ **ਭਾਰਤ** ਦੇ ਰਾਜਨੀਤਕ ਰੇਖਾ ਮਾਨਚਿੱਤਰ (ਪੰਨਾ 7 ਤੇ) ਵਿਚ ਅੰਕਿਤ ਕੀਤੇ ਗਏ ਹਨ । ਇਨ੍ਹਾਂ ਲੱਛਣਾਂ ਨੂੰ ਹੇਠ ਦਿੱਤੀ ਜਾਣਕਾਰੀ ਦੀ ਮਦਦ ਨਾਲ ਪਛਾਣੋ ਅਤੇ ਇਨ੍ਹਾਂ ਦੇ ਸਹੀ ਨਾਮ, ਮਾਨਚਿੱਤਰ ਵਿਚ ਖਿੱਚੀਆਂ ਹੋਈਆਂ ਰੇਖਾਵਾਂ ਉਪਰ ਲਿਖੋ :  $1 \times 2 = 2$
- (a) ਉਹ ਥਾਂ ਜਿੱਥੇ ਭਾਰਤੀ ਰਾਸ਼ਟਰੀ ਕਾਂਗਰੇਸ ਦਾ ਅਜਲਾਸ ਹੋਇਆ ਸੀ ।
- (b) ਉਹ ਥਾਂ ਜਿੱਥੇ ਨੀਲ ਦੀ ਖੇਤੀ ਕਰਨ ਵਾਲੇ ਕਿਸਾਨਾਂ ਦਾ ਅੰਦੋਲਨ ਸ਼ੁਰੂ ਹੋਇਆ ਸੀ ।
- (B) ਇਸ ਹੀ ਦਿੱਤੇ ਹੋਏ **ਭਾਰਤ** ਦੇ ਰਾਜਨੀਤਿਕ ਰੇਖਾ ਮਾਨਚਿੱਤਰ ਵਿਚ ਹੇਠ ਲਿਖਿਆਂ ਵਿਚੋਂ **ਕਿਸੇ ਤਿੰਨ** ਨੂੰ ਢੁਕਵੇਂ ਚਿਹਨਾਂ ਰਾਹੀਂ ਦਰਸਾਓ ਅਤੇ ਉਨ੍ਹਾਂ ਦੇ ਨਾਮ ਲਿਖੋ :  $1 \times 3 = 3$
- (i) ਹੀਰਾਕੁਡ – ਬੰਧ (ਡੈਮ)
- (ii) ਕੋਚੀ – ਪ੍ਰਮੁਖ ਸਮੁੰਦਰੀ ਬੰਦਰਗਾਹ
- (iii) ਸੇਲਮ – ਲੋਹਾ ਅਤੇ ਸਟੀਲ ਦਾ ਕਾਰਖਾਨਾ
- (iv) ਹੈਦਰਾਬਾਦ – ਸਾਫਟਵੇਅਰ ਟੈਕਨੋਲੋਜੀ ਪਾਰਕ
- (v) ਨਰੋਰਾ – ਨਿਊਕਲਿਅਰ ਪਾਵਰ ਪਲਾਂਟ

**ਨੋਟ:** ਹੇਠ ਲਿਖਿਆ ਪ੍ਰਸ਼ਨ ਕੇਵਲ **ਦ੍ਰਿਸ਼ਟੀ ਵਿਕਲਾਂਗ ਪ੍ਰੀਖਿਆਰਥੀਆਂ** ਦੇ ਲਈ ਪ੍ਰਸ਼ਨ ਸੰਖਿਆ 26 ਦੇ ਥਾਂ ਬਦਲਵੇਂ ਪ੍ਰਸ਼ਨ ਹਨ । **ਕਿਸੇ ਪੰਜ** ਪ੍ਰਸ਼ਨਾਂ ਦੇ ਉੱਤਰ ਦਿਓ :

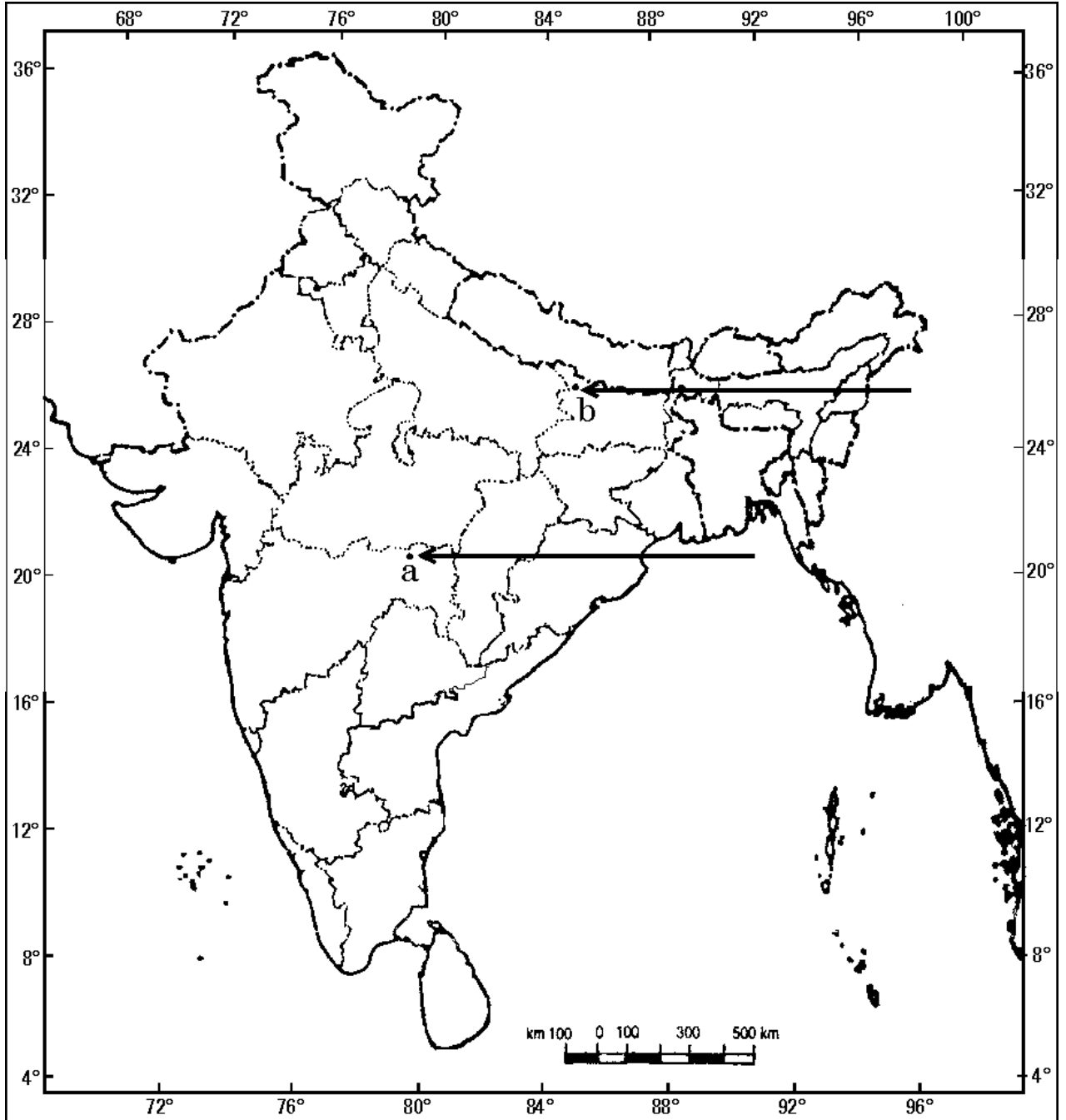
- (26.1) ਉਸ ਰਾਜ ਦਾ ਨਾਮ ਲਿਖੋ, ਜਿੱਥੇ ਜਲਿਆਂਵਾਲਾ ਬਾਗ ਦੀ ਘਟਨਾ ਹੋਈ ।
- (26.2) ਉਸ ਸਥਾਨ ਦਾ ਨਾਮ ਲਿਖੋ, ਜਿੱਥੇ ਨੀਲ ਦੀ ਖੇਤੀ ਦੇ ਲਈ ਕਿਸਾਨਾਂ ਨੇ ਸਤਿਆਗਰਹਿ ਕੀਤਾ ਸੀ ।
- (26.3) ਗੁਜਰਾਤ ਦੇ ਉਸ ਸਥਾਨ ਦਾ ਨਾਮ ਲਿਖੋ, ਜਿੱਥੇ ਕਿਸਾਨਾਂ ਨੇ ਸਤਿਆਗਰਹਿ ਕੀਤਾ ਸੀ ।
- (26.4) ਉਸ ਰਾਜ ਦਾ ਨਾਮ ਲਿਖੋ, ਜਿੱਥੇ ਬੈਲਾਰੀ ਲੋਹਾ-ਕੱਚੀ ਧਾਤ ਦੀਆਂ ਖਾਣਾ ਸਥਿਤ ਹਨ ।
- (26.5) ਉਸ ਰਾਜ ਦਾ ਨਾਮ ਲਿਖੋ, ਜਿੱਥੇ ਕੋਚੀ ਸਮੁੰਦਰੀ ਬੰਦਰਗਾਹ ਸਥਿਤ ਹੈ ।
- (26.6) ਉਸ ਰਾਜ ਦਾ ਨਾਮ ਲਿਖੋ, ਜਿੱਥੇ ਨਰੋਰਾ ਨਿਊਕਲਿਅਰ ਪਾਵਰ ਪਲਾਂਟ ਸਥਿਤ ਹੈ ।
- (26.7) ਉਸ ਰਾਜ ਦਾ ਨਾਮ ਲਿਖੋ, ਜਿੱਥੇ ਦੁਰਗਾਪੁਰ ਲੋਹਾ-ਸਟੀਲ ਕਾਰਖਾਨਾ ਸਥਿਤ ਹੈ ।

$1 \times 5 = 5$



ਪ੍ਰਸ਼ਨ ਸੰ. 26 ਦੇ ਲਈ

ਭਾਰਤ ਦਾ ਰੇਖਾ ਮਾਨਚਿੱਤਰ (ਰਾਜਨੀਤਕ)  
Outline Map of India (Political)



Series JMS/1

SET-1

کوڈ نمبر

48/1/1

Code No.

رول نمبر

Roll No.

--	--	--	--	--	--	--	--	--	--

Candidates must write the Code on the title page of the answer-book.

- جانچ لیجئے کہ اس سوال کے پرچے میں چھپے ہوئے صفحات کی تعداد 6 + 1 نقشہ ہے۔
- طالب علم کو پرچے کے اوپر دائیں طرف چھپا کوڈ نمبر جوابی کاپی کے اوپری صفحہ پر لکھنا ہے۔
- جانچ لیجئے کہ اس پرچے میں چھپے سوالات کی تعداد 26 ہے۔
- کسی سوال کا جواب لکھنا شروع کرنے سے پہلے پرچے کے مطابق سوال کا سلسلہ نمبر جوابی کاپی میں لکھئے۔
- سوال کا پرچہ پڑھنے کے لیے 15 منٹ کا وقت دیا گیا ہے۔ سوال کے پرچہ کو صبح 10.15 بجے تقسیم کیا جائے گا۔ 10.15 سے 10.30 بجے تک طلباء صرف پرچہ پڑھیں گے اور اس وقت کے دوران طلباء پرچے کے سوالوں کے جواب لکھنا شروع نہیں کر سکتے۔

- Please check that this question paper contains 6 printed pages + 1 Map.
- Code number given on the right hand side of the question paper should be written on the title page of the answer-book by the candidate.
- Please check that this question paper contains 26 questions.
- **Please write down the serial number of the question before attempting it.**
- 15 minutes time has been allotted to read this question paper. The question paper will be distributed at 10. 15 a.m. From 10.15 a.m. to 10.30 a.m., the students will read the question paper only and will not write any answer on the answer-book during this period.

سوشل سائنس

SOCIAL SCIENCE

(Urdu Version)

مقررہ وقت : 3 گھنٹے

Time allowed : 3 hours ]

کل نمبر : 80

[ Maximum marks : 80



P.T.O.



عام ہدایات :

SET-1

48/1/1

(a) اس سوالنامے کو چار حصوں، حصہ -A، حصہ -B، حصہ -C اور حصہ -D میں تقسیم کیا گیا ہے۔

(b) اس سوالنامے میں کل 26 سوال ہیں۔

(c) سبھی سوال لازمی ہیں۔

(d) ہر ایک سوال کے سامنے اس کے نمبر دیے گئے ہیں۔

(e) سوال نمبر 1 سے 7 تک بہت چھوٹے جواب والے سوال ہیں۔ ہر ایک سوال 1 نمبر کا ہے، ان میں سے ہر ایک سوال کا جواب 30 لفظوں سے زیادہ نہ ہو۔

(f) سوال نمبر 8 سے 18 تک 3 نمبر والے سوال ہیں۔ ہر ایک سوال کا جواب 80 لفظوں سے زیادہ نہ ہو۔

(g) سوال نمبر 19 سے 25 تک 5 نمبر والے سوال ہیں۔ ان میں سے ہر ایک سوال کا جواب 100 لفظوں سے زیادہ نہ ہو،

(h) سوال نمبر 26 نقشے کا سوال 5 نمبر کا ہے، اس کے دو حصے ہیں (A) 26، 2 نمبر کا ہسٹری سے ہے اور (B) 26، 3 نمبر کا جغرافیہ سے ہے۔ نقشے کا سوال پورا کرنے کے بعد نقشے کو اپنی جوابی کاپی کے اندر لگائیے۔

حصہ -A

1. انیسویں صدی کے دوران یورپ میں معاشی (sphere) اعتبار سے 'لیبرلائزیشن' (liberalisation) کو (interpret) بیان کیجئے۔

1

یا

میکونگ ڈیلٹا (Mekong delta) کے علاقے کی معاشی ترقی میں فرانسسوں کے رول کو بیان کیجئے۔

1

2. جاپان میں ہاتھ سے چھپائی کی ٹیکنیک (ٹکنالوجی) کیسے شروع ہوئی؟

یا

علاقائی زبانوں میں ترجمہ کرنے کے عمل نے ناولوں کی شہرت کو بڑھانے میں کیسے مدد کی؟

1

3. پنجاب میں ضرورت سے زیادہ سینچائی (آب پاشی over irrigation) زمین کی خستہ حالی اور

گراوٹ (land degradation) کے لیے کیسے ذمہ دار ہے؟

یا

سیمنٹ انڈسٹری زمین کی خستہ حالی اور گراوٹ (land degradation) کے لیے کیسے ذمہ دار ہے؟





4. سیاسی طور پر واقف شہریوں کے ذریعے جمہوری اصلاحات (democratic reforms) کیسے کی جاسکتی ہیں؟ 1

5. بے زمین دیہی مزدوروں (landless rural labourers) کے لیے ان کی آمدنی میں ترقی کا کیا

مقصد ہو سکتا ہے؟

1

یا

پنجاب کے خوش حال کسان کی ترقی کا مقصد کیا ہو سکتا ہے؟

1

6. 'ابتدائی' اور 'ثانوی' سیکڑوں (شعبوں) میں فرق واضح کیجئے۔

1

7. بینک اور قرض دہندگان قرض کے بدلے ضمانت کی مانگ کیوں کرتے ہیں؟

حصہ-B

8. نیپولین کوڈ کو فرانسیسی مقبوضہ علاقوں میں کس طرح لاگو کیا گیا؟ مثالوں کے ساتھ بیان کیجئے۔ 3x1=3

یا

ویت نام کی معاشی ترقی کے لیے ذمہ دار تین رکاوٹوں (barriers) کی مثالوں کے ساتھ وضاحت کیجئے۔

3x1=3

9. چین میں شاہی ریاست (چینی امپیریل اسٹیٹ) کس طرح ایک طویل عرصے تک طبع شدہ مواد تیار کرنے والا

اہم ترین ادارہ بنی رہی؟ مثالوں کے ساتھ بیان کیجئے۔

یا

یورپ میں انیسویں صدی کے دوران ناول کس طرح لوگوں کے لیے آسانی سے حاصل ہو رہے تھے؟

مثالوں کے ساتھ بیان کیجئے۔

3x1=3

10. 'ربیع فصل کے موسم' (Rabi crop season) کی کوئی اہم تین خصوصیات بیان کیجئے۔

یا

'خریف فصل کے موسم' (Kharif crop season) کی کوئی تین اہم خصوصیات بیان کیجئے۔

3x1=3

11. "ہندوستان میں بہت زیادہ اور بڑھتی ہوئی آبادی پانی کی کمی کی وجہ ہو سکتی ہے" اس قول کا جائزہ لیجئے۔





12. ”کسی جمہوری ملک میں سماجی تنوعات پر زور دینا ایک عام بات ہے۔ اور صحت مند بھی ہو سکتی ہے۔“

3

دلیلوں کے ساتھ اس قول کو ثابت کیجئے۔

یا  
”سماجی تقسیمیں سیاست کو متاثر کرتی ہیں“ اس قول کی جانچ کیجئے۔

13. ”ہندوستان میں آزادی کے بعد سے خواتین کی حالت میں کچھ سدھار ہوا ہے۔ لیکن ابھی بھی مردوں سے

3x1=3

کافی پیچھے ہیں“ اس قول کا جائزہ لیجئے۔

14. ہندوستان میں سیاسی پارٹیوں کو کس طرح علاقائی اور قومی پارٹی کی شکل میں منظوری ملتی ہے۔

$1\frac{1}{2} + 1\frac{1}{2} = 3$

مثالوں کے ساتھ بیان کیجئے۔

15. ”ماحولیات میں گراؤٹ کے نتائج قومی یا ریاست کی سرحدوں کا خیال نہیں رکھتے“ اس قول کو ثابت کیجئے۔

16. ہندوستان میں ’ثالثی شعبہ‘ (tertiary sector) کیوں اہم ہو رہا ہے؟ کوئی تین وجوہات بیان کیجئے۔

یا  
کسی ملک کے مجموعی گھریلو پیداوار (جی۔ ڈی۔ پی) معلوم کرنے کے لیے مختلف اشیاء اور خدمات کا کس طرح حساب لگاتے ہیں؟ مثال کے ساتھ بیان کیجئے۔

17. معاشی ترقی میں رسمی حلقہ قرض کے وسائل کی اہمیت بیان کیجئے۔

یا  
غیر رسمی حلقہ قرض کے وسائل کے قرض داروں پر پڑنے والے برے اثرات بیان کیجئے۔

18. صارفین ’استعمال کے خلاف دادرسی‘ (تدارک) کے حق کا استعمال کس طرح کر سکتے ہیں؟

3

مثال کے ساتھ بیان کیجئے۔

حصہ - C

19. 1930 میں ’ڈپریسڈ کلاسز ایسوسی ایشن‘ (Depressed Classes Association) کے تحت دلتوں کو کس نے منظم کیا؟ اس کی کامیابیوں کو بیان کیجئے۔

1+4=5





یا  
'سول نافرمانی تحریک' کی تعریف بیان کیجئے۔ 'سول نافرمانی تحریک' میں امیر اور غریب کسان فرقوں کے رول کو بیان کیجئے۔

20. 'انیسویں صدی کی عالمی معیشت کو طے کرنے میں ہندوستانی تجارت نے ایک اہم رول ادا کیا تھا' اس قول کا جائزہ لیجئے  $5 \times 1 = 5$

یا  
'بیسویں صدی کی پہلی دہائی تک ہونے والی بہت سی تبدیلیوں نے ہندوستان میں صنعتیت کے انداز پر اثر ڈالا۔' اس قول کا جائزہ لیجئے۔

یا  
'اس جدید دور میں صنعتیت نے شہری فروغ (urbanization) کی ہیئت (شکل) بدل دی ہے۔' خاص طور پر لندن کے حوالے سے اس قول کا جائزہ لیجئے۔

21. ہندوستان میں ماحولیاتی اتحاط (environment degradation) کے لیے صنعتیں کس طرح ذمہ دار ہیں؟ مثالوں کے ساتھ وضاحت کیجئے۔  $5 \times 1 = 5$

22. "ہندوستان میں ریل کے مقابلے سڑک کی اہمیت نقل و حمل میں زیادہ ہے۔"

اس قول کی تائید مثالوں کے ساتھ کیجئے۔  $5 \times 1 = 5$

23. محل وقوع (location) 'سائز اور کلچرل پہلوؤں کی بنیاد پر پیلیجیم اور سری لنکا کی حالت کا موازنہ کیجئے۔'  $1 + 1 + 3 = 5$

یا  
طاقت کی حصہ داری (power sharing) کا خیال کیسے سامنے آیا؟ عام طور پر رائج طاقت کی حصہ داری کے اہتمام کی مختلف صورتوں کی وضاحت کیجئے۔

24. ذمہ دار اور جائز حکومت کی شکل میں جمہوری حکومت کی اہمیت بیان کیجئے۔  $5 \times 1 = 5$

25. ملٹی نیشنل کمپنیاں پیداوار کے لیے دفتروں اور کارخانوں کو صرف خاص علاقوں میں ہی کیوں قائم کرتی ہیں؟

کوئی پانچ وجوہات بیان کیجئے۔  $5 \times 1 = 5$





حصہ - D (نقشے کا سوال)

26. (A) ہندوستان کے نقشے کے سیاسی خاکے پر دو خصوصیات A اور B دکھائی گئی ہیں۔ ان خصوصیات کو درج ذیل

1x2=2

معلومات کی مدد سے پہچانئے۔ اور ان کے صحیح نام نقشے پر کھینچی گئی لائینوں پر لکھیے۔

(a) وہ جگہ جہاں انڈین نیشنل کانگریس کا سیشن ہوا تھا۔

(b) وہ شہر جہاں جلیاں والا باغ حادثہ ہوا تھا۔

(B) اسی دیے گئے ہندوستان کے نقشے کے سیاسی خاکے پر درج ذیل میں سے کہیں تین کو مناسب علامتوں سے

1x3=3

دکھائیے اور ان کے نام لکھیے

(i) کلپکم۔ نیوکلیمائی پاور پلانٹ۔

(ii) وجے نگر۔ لوہا اور فولاد کا پلانٹ۔

(iii) نویڈا۔ سافٹ ویئر ٹیکنالوجی پارک

(iv) پارادیپ۔ بحری بندرگاہ۔

(v) سردار سروور۔ ڈیم۔

نوٹ:- درج ذیل سوالات صرف نائینا طلباء کے لیے سوال نمبر 26 کے بدلے۔ ان میں سے کہیں پانچ کا جواب لکھیے۔ 1x5=5

(i) اس ریاست کا نام لکھیے۔ جہاں جلیاں والا باغ کا حادثہ ہوا۔

(ii) اس ریاست کا نام لکھیے۔ جہاں گاندھی جی نے 'نمک قانون' توڑا۔

(iii) اس ریاست کا نام لکھیے۔ جہاں 'چوری-چورا' واقعہ پیش آیا۔

(iv) اس ریاست کا نام لکھیے۔ جہاں پارادیپ بحری بندرگاہ واقع ہے۔

(v) اس ریاست کا نام لکھیے۔ جہاں وجے نگر لوہا اور فولاد کا پلانٹ واقع ہے۔

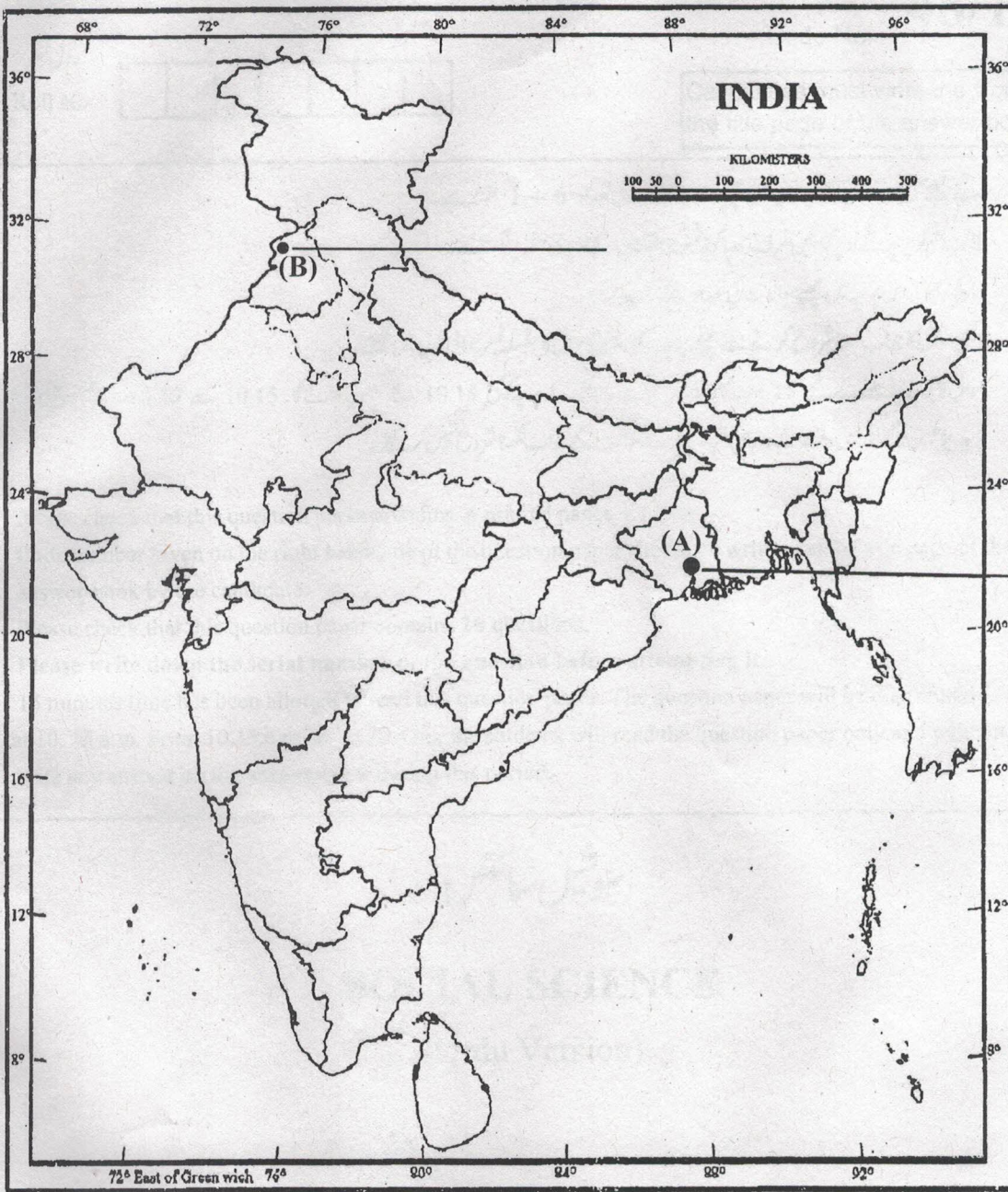
(vi) اس ریاست کا نام لکھیے۔ جہاں نویڈا سافٹ ویئر ٹیکنالوجی پارک واقع ہے۔

(vii) سردار سروور ڈیم کس ندی پر بنا ہے۔





Map for Q. No. 26





Series JMS/1

SET-2

کوڈ نمبر

48/1/2

Code No.

رول نمبر

Roll No.

--	--	--	--	--	--	--	--

Candidates must write the Code on the title page of the answer-book.

- جانچ لیجئے کہ اس سوال کے پرچے میں چھپے ہوئے صفحات کی تعداد 6 + 1 نقشہ ہے۔
- طالب علم کو پرچے کے اوپر دائیں طرف چھپا کوڈ نمبر جوابی کاپی کے اوپری صفحہ پر لکھنا ہے۔
- جانچ لیجئے کہ اس پرچے میں چھپے سوالات کی تعداد 26 ہے۔
- کسی سوال کا جواب لکھنا شروع کرنے سے پہلے پرچے کے مطابق سوال کا سلسلہ نمبر جوابی کاپی میں لکھئے۔
- سوال کا پرچہ پڑھنے کے لیے 15 منٹ کا وقت دیا گیا ہے۔ سوال کے پرچے کو صبح 10.15 بجے تقسیم کیا جائے گا۔ 10.15 سے 10.30 بجے تک طلباء صرف پرچہ پڑھیں گے اور اس وقت کے دوران طلباء پرچے کے سوالوں کے جواب لکھنا شروع نہیں کر سکتے۔

- Please check that this question paper contains 6 printed pages + 1 Map.
- Code number given on the right hand side of the question paper should be written on the title page of the answer-book by the candidate.
- Please check that this question paper contains 26 questions.
- **Please write down the serial number of the question before attempting it.**
- 15 minutes time has been allotted to read this question paper. The question paper will be distributed at 10.15 a.m. From 10.15 a.m. to 10.30 a.m., the students will read the question paper only and will not write any answer on the answer-book during this period.

سوشل سائنس

SOCIAL SCIENCE

(Urdu Version)

مقررہ وقت : 3 گھنٹے

Time allowed : 3 hours ]

کل نمبر : 80

[ Maximum marks : 80



P.T.O.



عام ہدایات :

- (a) اس سوالنامے کو چار حصوں، حصہ -A، حصہ -B، حصہ -C اور حصہ -D میں تقسیم کیا گیا ہے۔
- (b) اس سوالنامے میں کل 26 سوال ہیں۔
- (c) سبھی سوال لازمی ہیں۔
- (d) ہر ایک سوال کے سامنے اس کے نمبر دیے گئے ہیں۔
- (e) سوال نمبر 1 سے 7 تک بہت چھوٹے جواب والے سوال ہیں۔ ہر ایک سوال 1 نمبر کا ہے، ان میں سے ہر ایک سوال کا جواب 30 لفظوں سے زیادہ نہ ہو۔
- (f) سوال نمبر 8 سے 18 تک 3 نمبر والے سوال ہیں۔ ہر ایک سوال کا جواب 80 لفظوں سے زیادہ نہ ہو۔
- (g) سوال نمبر 19 سے 25 تک 5 نمبر والے سوال ہیں۔ ان میں سے ہر ایک سوال کا جواب 100 لفظوں سے زیادہ نہ ہو،
- (h) سوال نمبر 26 نقشے کا سوال 5 نمبر کا ہے، اس کے دو حصے ہیں 26(A) 2 نمبر کا ہسٹری سے ہے اور 26(B) 3 نمبر کا جغرافیہ سے ہے۔ نقشے کا سوال پورا کرنے کے بعد نقشے کو اپنی جوابی کاپی کے اندر لگائیے۔

حصہ -A

1. بے زمین دیہی مزدوروں (landless rural labourers) کے لیے ان کی آمدنی میں ترقی کا کیا مقصد ہو سکتا ہے؟

یا

پنجاب کے خوش حال کسان کی ترقی کا مقصد کیا ہو سکتا ہے؟

2. پنجاب میں ضرورت سے زیادہ سینچائی (آب پاشی over irrigation) زمین کی خستہ حالی اور گراوٹ (land degradation) کے لیے کیسے ذمہ دار ہے؟

یا

سینٹ انڈسٹری زمین کی خستہ حالی اور گراوٹ (land degradation) کے لیے کیسے ذمہ دار ہے؟

3. جاپان میں ہاتھ سے چھپائی کی ٹیکنیک (ٹکنالوجی) کیسے شروع ہوئی؟





یا

علاقائی زبانوں میں ترجمہ کرنے کے عمل نے ناولوں کی شہرت کو بڑھانے میں کیسے مدد کی؟

1 4. تحریکات کے ذریعے جمہوری اصلاحات کس طرح کی جاسکتی ہیں؟

1 5. انیسویں صدی کے دوران یورپ میں معاشی (sphere) اعتبار سے 'لیبرلائزیشن' (liberalisation) کو

1 (interpret) بیان کیجئے۔

یا

میکونگ ڈیلٹا (Mekong delta) کے علاقے کی معاشی ترقی میں فرانسیسیوں کے رول کو بیان کیجئے۔

1 6. 'ٹانوی' اور 'ٹالٹی' شعبوں کے بیچ فرق بتائیے۔

1 7. 'ضمانت' (سیکورٹی collateral) کی اہمیت بیان کیجئے۔

حصہ - B

8. چین میں شاہی ریاست (چینی امپریل اسٹیٹ) کس طرح ایک طویل عرصے تک طبع شدہ مواد تیار کرنے والا

3x1=3 اہم ترین ادارہ بنی رہی؟ مثالوں کے ساتھ بیان کیجئے۔

یا

یورپ میں انیسویں صدی کے دوران ناول کس طرح لوگوں کے لیے آسانی سے حاصل ہو رہے تھے؟

مثالوں کے ساتھ بیان کیجئے۔

3x1=3 9. 'ربیع فصل کے موسم' (Rabi crop season) کی کوئی اہم تین خصوصیات بیان کیجئے۔

یا

'خریف فصل کے موسم' (Kharif crop season) کی کوئی تین اہم خصوصیات بیان کیجئے۔

3x1=3 10. نیپولین کوڈونفرانسیسی مقبوضہ علاقوں میں کس طرح لاگو کیا گیا؟ مثالوں کے ساتھ بیان کیجئے۔

یا

دیت نام کی معاشی ترقی کے لیے ذمہ دار تین رکاوٹوں (barriers) کی مثالوں کے ساتھ وضاحت کیجئے۔





- 3 11. بارش کے پانی کو جمع کر کے رکھنے کی اہمیت بیان کیجئے۔
- 3 12. صارفین 'استعمال کے خلاف دادرسی' (تدارک) کے حق کا استعمال کس طرح کر سکتے ہیں؟  
مثال کے ساتھ بیان کیجئے۔
- 3x1=3 13. معاشی ترقی میں رسمی حلقہ قرض کے وسائل کی اہمیت بیان کیجئے۔  
یا  
غیر رسمی حلقہ قرض کے وسائل کے قرض داروں پر پڑنے والے برے اثرات بیان کیجئے۔
- 3x1=3 14. ایک 'سیاسی جماعت' کے تین جزو (حصوں) کو بیان کیجئے۔
- 3 15. ہندوستان میں 'ثالثی شعبہ' (tertiary sector) کیوں اہم ہو رہا ہے؟ کوئی تین وجوہات بیان کیجئے۔  
یا  
کسی ملک کے مجموعی گھریلو پیداوار (جی۔ ڈی۔ پی) معلوم کرنے کے لیے مختلف اشیاء اور خدمات کا  
کس طرح حساب لگاتے ہیں؟ مثال کے ساتھ بیان کیجئے۔
- 3 16. "ماحولیات میں گراوٹ کے نتائج قومی یاریا ست کی سرحدوں کا خیال نہیں رکھتے" اس قول کو ثابت کیجئے۔
- 3 17. "کسی جمہوری ملک میں سماجی تنوعات پر زور دینا ایک عام بات ہے۔ اور صحت مند بھی ہو سکتی ہے۔"  
دلیلوں کے ساتھ اس قول کو ثابت کیجئے۔  
یا  
"سماجی تقسیمیں سیاست کو متاثر کرتی ہیں" اس قول کی جانچ کیجئے۔
- 3x1=3 18. "ہندوستان میں آزادی کے بعد سے خواتین کی حالت میں کچھ سدھار ہوا ہے۔ لیکن ابھی بھی مردوں سے  
کافی پیچھے ہیں" اس قول کا جائزہ لیجئے۔
- 5x1=5 19. 'انیسویں صدی کی عالمی معیشت کو طے کرنے میں ہندوستانی تجارت نے ایک اہم رول ادا کیا تھا' اس قول کا جائزہ لیجئے۔  
حصہ - C





یا

’بیسویں صدی کی پہلی دہائی تک ہونے والی بہت سی تبدیلیوں نے ہندوستان میں صنعتیت کے انداز پر اثر ڈالا۔ اس قول کا جائزہ لیجئے۔

یا

’اس جدید دور میں صنعتیت نے شہری فروغ (urbanization) کی ہیئت (شکل) بدل دی ہے۔‘ خاص طور پر لندن کے حوالے سے اس قول کا جائزہ لیجئے۔

20. 1930 میں ’ڈیپریسڈ کلاس ایسوسی ایشن‘ (Depressed Classes Association) کے تحت دلتوں کو کس نے منظم کیا؟ اُس کی کامیابیوں کو بیان کیجئے۔

1+4=5

یا

’سول نافرمانی تحریک‘ کی تعریف بیان کیجئے۔ ’سول نافرمانی تحریک‘ میں امیر اور غریب کسان فرقوں کے رول کو بیان کیجئے۔

21. صنعتوں کے محل وقوع کے لئے ذمہ دار کنہیں پانچ عوامل (وجوہات) کو مثالوں کے ساتھ بیان کیجئے۔

5x1=5

22. محل وقوع (location) ’سائز اور کلچرل پہلوؤں کی بنیاد پر بلجیم اور سری لنکا کی حالت کا موازنہ کیجئے۔

1+1+3=5

یا

طاقت کی حصہ داری (power sharing) کا خیال کیسے سامنے آیا؟ عام طور پر رائج طاقت کی حصہ داری کے اہتمام کی مختلف صورتوں کی وضاحت کیجئے۔

23. ’ہندوستان میں ریل کے مقابلے سڑک کی اہمیت نقل و حمل میں زیادہ ہے۔‘

اس قول کی تائید مثالوں کے ساتھ کیجئے۔

5x1=5

24. جمہوریت کے کوئی پانچ نتائج بیان کیجئے۔

5x1=5

25. عالم گیریت کے کوئی پانچ اثرات بیان کیجئے۔

5x1=5





حصہ۔ D (نقشے کا سوال)

26. (A) ہندوستان کے نقشے کے سیاسی خاکے پر دو خصوصیات A اور B دکھائی گئی ہیں۔ ان خصوصیات کو درج ذیل

1x2=2

معلومات کی مدد سے پہچانئے۔ اور ان کے صحیح نام نقشے پر کھینچی گئی لائینوں پر لکھیے۔

(a) وہ جگہ جہاں انڈین نیشنل کانگریس کا سیشن ہوا تھا۔

(b) وہ شہر جہاں جلیاں والا باغ حادثہ ہوا تھا۔

(B) اسی دیے گئے ہندوستان کے نقشے کے سیاسی خاکے پر درج ذیل میں سے کہیں تین کو مناسب علامتوں سے

1x3=3

دکھائیے اور ان کے نام لکھیے

(i) کلپکم۔ نیوکلیائی پاور پلانٹ۔

(ii) وجے نگر۔ لوہا اور فولاد کا پلانٹ۔

(iii) نویڈا۔ سافٹ ویئر ٹکنالوجی پارک

(iv) پارادیپ۔ بحری بندرگاہ۔

(v) سردار سروور۔ ڈیم۔

نوٹ:- درج ذیل سوالات صرف ناپیدنا طلباء کے لیے سوال نمبر 26 کے بدلے۔ ان میں سے کہیں پانچ کا جواب لکھیے۔ 1x5=5

(i) اس ریاست کا نام لکھیے۔ جہاں جلیاں والا باغ کا حادثہ ہوا۔

(ii) اس ریاست کا نام لکھیے۔ جہاں گاندھی جی نے 'نمک قانون' توڑا۔

(iii) اس ریاست کا نام لکھیے۔ جہاں 'چوری۔ چورا' واقعہ پیش آیا۔

(iv) اس ریاست کا نام لکھیے۔ جہاں پارادیپ بحری بندرگاہ واقع ہے۔

(v) اس ریاست کا نام لکھیے۔ جہاں وجے نگر لوہا اور فولاد کا پلانٹ واقع ہے۔

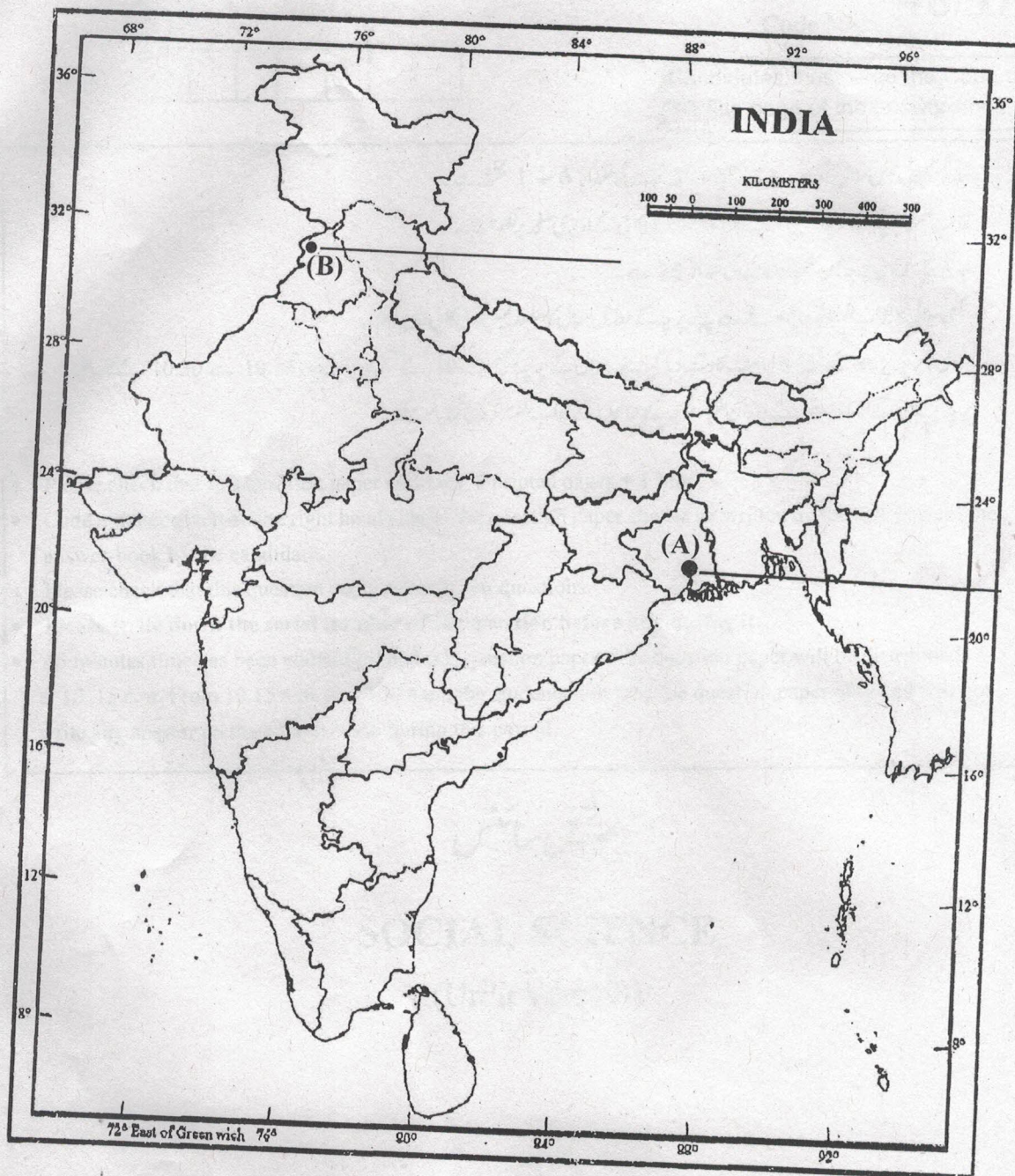
(vi) اس ریاست کا نام لکھیے۔ جہاں نویڈا سافٹ ویئر ٹکنالوجی پارک واقع ہے۔

(vii) سردار سروور ڈیم کس ندی پر بنا ہے۔





Map for Q. No. 26





Series JMS/1

SET-3

کوڈ نمبر

48/1/3

Code No.

رول نمبر

Roll No.

--	--	--	--	--	--	--	--

Candidates must write the Code on the title page of the answer-book.

- جانچ لیجئے کہ اس سوال کے پرچے میں چھپے ہوئے صفحات کی تعداد 6 + 1 نقشہ ہے۔
- طالب علم کو پرچے کے اوپر دائیں طرف چھپا کوڈ نمبر جوابی کاپی کے اوپری صفحہ پر لکھنا ہے۔
- جانچ لیجئے کہ اس پرچے میں چھپے سوالات کی تعداد 26 ہے۔
- کسی سوال کا جواب لکھنا شروع کرنے سے پہلے پرچے کے مطابق سوال کا سلسلہ نمبر جوابی کاپی میں لکھئے۔
- سوال کا پرچہ پڑھنے کے لیے 15 منٹ کا وقت دیا گیا ہے۔ سوال کے پرچہ کو صبح 10.15 بجے تقسیم کیا جائے گا۔ 10.15 سے 10.30 بجے تک طلباء صرف پرچہ پڑھیں گے اور اس وقت کے دوران طلباء پرچے کے سوالوں کے جواب لکھنا شروع نہیں کر سکتے۔

- Please check that this question paper contains 6 printed pages + 1 Map.
- Code number given on the right hand side of the question paper should be written on the title page of the answer-book by the candidate.
- Please check that this question paper contains 26 questions.
- **Please write down the serial number of the question before attempting it.**
- 15 minutes time has been allotted to read this question paper. The question paper will be distributed at 10. 15 a.m. From 10.15 a.m. to 10.30 a.m., the students will read the question paper only and will not write any answer on the answer-book during this period.

سوشل سائنس

SOCIAL SCIENCE

(Urdu Version)

مقررہ وقت : 3 گھنٹے

Time allowed : 3 hours ]

کل نمبر : 80

[ Maximum marks : 80

P.T.O.





عام ہدایات :

- (a) اس سوالنامے کو چار حصوں، حصہ -A، حصہ -B، حصہ -C اور حصہ -D میں تقسیم کیا گیا ہے۔
- (b) اس سوالنامے میں کل 26 سوال ہیں۔
- (c) سبھی سوال لازمی ہیں۔
- (d) ہر ایک سوال کے سامنے اس کے نمبر دیے گئے ہیں۔
- (e) سوال نمبر 1 سے 7 تک بہت چھوٹے جواب والے سوال ہیں۔ ہر ایک سوال 1 نمبر کا ہے، ان میں سے ہر ایک سوال کا جواب 30 لفظوں سے زیادہ نہ ہو۔
- (f) سوال نمبر 8 سے 18 تک 3 نمبر والے سوال ہیں۔ ہر ایک سوال کا جواب 80 لفظوں سے زیادہ نہ ہو۔
- (g) سوال نمبر 19 سے 25 تک 5 نمبر والے سوال ہیں۔ ان میں سے ہر ایک سوال کا جواب 100 لفظوں سے زیادہ نہ ہو،
- (h) سوال نمبر 26 نقشے کا سوال 5 نمبر کا ہے، اس کے دو حصے ہیں 26(A) 2 نمبر کا ہسٹری سے ہے اور 26(B) 3 نمبر کا جغرافیہ سے ہے۔ نقشے کا سوال پورا کرنے کے بعد نقشے کو اپنی جوابی کاپی کے اندر لگائیے۔

حصہ -A

1. جاپان میں ہاتھ سے چھپائی کی ٹیکنیک (ٹکنالوجی) کیسے شروع ہوئی؟ 1

یا

علاقائی زبانوں میں ترجمہ کرنے کے عمل نے ناولوں کی شہرت کو بڑھانے میں کیسے مدد کی؟

2. انیسویں صدی کے دوران یورپ میں معاشی (sphere) اعتبار سے 'لیبرلائزیشن' (liberalisation) کو 1

(interpret) بیان کیجئے۔

یا

میکونگ ڈیلٹا (Mekong delta) کے علاقے کی معاشی ترقی میں فرانسیسیوں کے رول کو بیان کیجئے۔

3. بے زمین دیہی مزدوروں (landless rural labourers) کے لیے ان کی آمدنی میں ترقی کا کیا 1

مقصد ہو سکتا ہے؟

یا

پنجاب کے خوش حال کسان کی ترقی کا مقصد کیا ہو سکتا ہے؟





- 1 4. سیاسی جماعتیں جمہوری اصلاحات کس طرح کر سکتی ہیں؟
- 1 5. پنجاب میں ضرورت سے زیادہ سینچائی (آب پاشی over irrigation) زمین کی خستہ حالی اور گراوٹ (land degradation) کے لیے کیسے ذمہ دار ہے؟
- 1 یا
- 1 6. سیمٹ انڈسٹری زمین کی خستہ حالی اور گراوٹ (land degradation) کے لیے کیسے ذمہ دار ہے؟
- 1 7. 'پرائمری' (ابتدائی) اور 'ثالثی' شعبوں میں فرق واضح کیجئے۔
- 1 7. ہندوستان میں رسمی سیکٹر (حلقہ) قرض کی اہمیت بیان کیجئے۔

### حصہ - B

- 3x1=3 8. 'ربیع فصل کے موسم' (Rabi crop season) کی کوئی اہم تین خصوصیات بیان کیجئے۔
- 1 یا
- 3x1=3 9. 'خریف فصل کے موسم' (Kharif crop season) کی کوئی تین اہم خصوصیات بیان کیجئے۔
- 3x1=3 9. نیپولین کوڈ کو فرانسیسی مقبوضہ علاقوں میں کس طرح لاگو کیا گیا؟ مثالوں کے ساتھ بیان کیجئے۔
- 1 یا
10. ویت نام کی معاشی ترقی کے لیے ذمہ دار تین رکاوٹوں (barriers) کی مثالوں کے ساتھ وضاحت کیجئے۔
- 3x1=3 10. چین میں شاہی ریاست (چینی امپریل اسٹیٹ) کس طرح ایک طویل عرصے تک طبع شدہ مواد تیار کرنے والا اہم ترین ادارہ بنی رہی؟ مثالوں کے ساتھ بیان کیجئے۔
- 1 یا
- یورپ میں انیسویں صدی کے دوران ناول کس طرح لوگوں کے لیے آسانی سے حاصل ہو رہے تھے؟ مثالوں کے ساتھ بیان کیجئے۔





11. 'پانی کی کمی' کے اثر کا تجزیہ کیجئے۔  
3x1=3
12. "ماحولیات میں گراوٹ کے نتائج قومی یاریا ست کی سرحدوں کا خیال نہیں رکھتے" اس قول کو ثابت کیجئے۔  
3
13. ہندوستان میں 'تالشی شعبہ' (tertiary sector) کیوں اہم ہو رہا ہے؟ کوئی تین وجوہات بیان کیجئے۔  
3
- یا  
کسی ملک کے مجموعی گھریلو پیداوار (جی۔ ڈی۔ پی) معلوم کرنے کے لیے مختلف اشیاء اور خدمات کا کس طرح حساب لگاتے ہیں؟ مثال کے ساتھ بیان کیجئے۔
14. مخالف سیاسی جماعت (opposition political party) کے کوئی تین کام بیان کیجئے۔  
3x1=3
15. صارفین 'استعمال کے خلاف دادرسی' (تدارک) کے حق کا استعمال کس طرح کر سکتے ہیں؟ مثال کے ساتھ بیان کیجئے۔  
3
16. "کسی جمہوری ملک میں سماجی تنوعات پر زور دینا ایک عام بات ہے۔ اور صحت مند بھی ہو سکتی ہے۔" دلیلوں کے ساتھ اس قول کو ثابت کیجئے۔  
3
- یا  
"سماجی تقسیمیں سیاست کو متاثر کرتی ہیں" اس قول کی جانچ کیجئے۔
17. "ہندوستان میں آزادی کے بعد سے خواتین کی حالت میں کچھ سدھار ہوا ہے۔ لیکن ابھی بھی مردوں سے کافی پیچھے ہیں" اس قول کا جائزہ لیجئے۔  
3x1=3
18. معاشی ترقی میں رسمی حلقہ قرض کے وسائل کی اہمیت بیان کیجئے۔  
3x1=3
- یا  
غیر رسمی حلقہ قرض کے وسائل کے قرض داروں پر پڑنے والے برے اثرات بیان کیجئے۔
- حصہ - C
19. "ہندوستان میں ریل کے مقابلے سڑک کی اہمیت نقل و حمل میں زیادہ ہے۔" اس قول کی تائید مثالوں کے ساتھ کیجئے۔  
5x1=5





20. محل وقوع (location) 'سائز اور کلچرل پہلوؤں کی بنیاد پر بیچیم اور سری لنکا کی حالت کا موازنہ کیجئے۔  
1+1+3=5

یا  
طاقت کی حصہ داری (power sharing) کا خیال کیسے سامنے آیا؟ عام طور پر رائج طاقت کی حصہ داری کے اہتمام کی مختلف صورتوں کی وضاحت کیجئے۔

21. 'صنعتی آلودگی' (industrial pollution) کی پانچ قسمیں بیان کیجئے۔  
5x1=5

22. 1930 میں 'ڈپریسڈ کلاس ایسوسی ایشن' (Depressed Classes Association)

کے تحت دلتوں کو کس نے منظم کیا؟ اُس کی کامیابیوں کو بیان کیجئے۔  
1+4=5

یا  
'سول نافرمانی تحریک' کی تعریف بیان کیجئے۔ 'سول نافرمانی تحریک' میں امیر اور غریب کسان فرقوں کے رول کو بیان کیجئے۔

23. 'انیسویں صدی کی عالمی معیشت کو طے کرنے میں ہندوستانی تجارت نے ایک اہم رول ادا کیا تھا' اس قول کا جائزہ لیجئے  
5x1=5

یا  
'بیسویں صدی کی پہلی دہائی تک ہونے والی بہت سی تبدیلیوں نے ہندوستان میں صنعتیت کے انداز پر اثر ڈالا' اس قول کا جائزہ لیجئے۔

یا  
'اس جدید دور میں صنعتیت نے شہری فروغ (urbanization) کی ہیئت (شکل) بدل دی ہے' خاص طور پر لندن کے حوالے سے اس قول کا جائزہ لیجئے۔

24. جمہوریت کو دوسرے متبادلوں (alternatives) سے بہتر بنانے والے کوئی پانچ عوامل

(وجوہات) بیان کیجئے۔  
5x1=5

25. غیر ملکی سرمایہ کاری کو راغب کرنے کے لیے مرکزی اور ریاستی حکومتوں کے ذریعے ترقی یافتہ خاص معاشی علاقوں میں

موجود یا دی جانے والی کوئی پانچ سہولیتیں بیان کیجئے۔  
5x1=5





حصہ - D (نقشے کا سوال)

26. (A) ہندوستان کے نقشے کے سیاسی خاکے پر دو خصوصیات A اور B دکھائی گئی ہیں۔ ان خصوصیات کو درج ذیل

1x2=2

معلومات کی مدد سے پہچانئے۔ اور ان کے صحیح نام نقشے پر کھینچی گئی لائینوں پر لکھیے۔

(a) وہ جگہ جہاں انڈین نیشنل کانگریس کا سیشن ہوا تھا۔

(b) وہ شہر جہاں جلیاں والا باغ حادثہ ہوا تھا۔

(B) اسی دیے گئے ہندوستان کے نقشے کے سیاسی خاکے پر درج ذیل میں سے کنہیں تین کو مناسب علامتوں سے

1x3=3

دکھائیے اور ان کے نام لکھیے

(i) کلکتہ۔ نیوکلیمائی پاور پلانٹ۔

(ii) وجے نگر۔ لوہا اور فولاد کا پلانٹ۔

(iii) نوئیڈا۔ سافٹ ویئر ٹیکنالوجی پارک

(iv) پارادیپ۔ بحری بندرگاہ۔

(v) سردار سروور۔ ڈیم۔

نوٹ:- درج ذیل سوالات صرف نائینا طلباء کے لیے سوال نمبر 26 کے بدلے۔ ان میں سے کنہیں پانچ کا جواب لکھیے۔

1x5=5

(i) اس ریاست کا نام لکھیے۔ جہاں جلیاں والا باغ کا حادثہ ہوا۔

(ii) اس ریاست کا نام لکھیے۔ جہاں گاندھی جی نے 'نمک قانون' توڑا۔

(iii) اس ریاست کا نام لکھیے۔ جہاں 'چوری۔ چورا' واقعہ پیش آیا۔

(iv) اس ریاست کا نام لکھیے۔ جہاں پارادیپ بحری بندرگاہ واقع ہے۔

(v) اس ریاست کا نام لکھیے۔ جہاں وجے نگر لوہا اور فولاد کا پلانٹ واقع ہے۔

(vi) اس ریاست کا نام لکھیے۔ جہاں نوئیڈا سافٹ ویئر ٹیکنالوجی پارک واقع ہے۔

(vii) سردار سروور ڈیم کس ندی پر بنا ہے۔





Map for Q. No. 26

